

CAREERS 360
PREPARATION **Series**

CBSE Class 12

Political Science
Question Paper 2024 (Series 1-3)

Series RPQS1/1

Set-1

प्रश्न-पत्र कोड
Q.P. Code

59/1/1

रोल नं.
Roll No.



परीक्षार्थी प्रश्न-पत्र कोड को उत्तर-पुस्तिका के मुख-पृष्ठ पर अवश्य लिखें।

Candidates must write the Q.P. Code on the title page of the answer-book.

राजनीति विज्ञान POLITICAL SCIENCE

निर्धारित समय : 3 घण्टे

अधिकतम अंक : 80

Time allowed : 3 hours

Maximum Marks : 80

नोट	NOTE
(I) कृपया जाँच कर लें कि इस प्रश्न-पत्र में मुद्रित पृष्ठ 23 हैं।	(I) Please check that this question paper contains 23 printed pages.
(II) कृपया जाँच कर लें कि इस प्रश्न-पत्र में 30 प्रश्न हैं।	(II) Please check that this question paper contains 30 questions.
(III) प्रश्न-पत्र में दाहिने हाथ की ओर दिए गए प्रश्न-पत्र कोड को परीक्षार्थी उत्तर-पुस्तिका के मुख-पृष्ठ पर लिखें।	(III) Q.P. Code given on the right hand side of the question paper should be written on the title page of the answer-book by the candidate.
(IV) कृपया प्रश्न का उत्तर लिखना शुरू करने से पहले, उत्तर-पुस्तिका में प्रश्न का क्रमांक अवश्य लिखें।	(IV) Please write down the serial number of the question in the answer-book before attempting it.
(V) इस प्रश्न-पत्र को पढ़ने के लिए 15 मिनट का समय दिया गया है। प्रश्न-पत्र का वितरण पूर्वाह्न में 10.15 बजे किया जाएगा। 10.15 बजे से 10.30 बजे तक छात्र केवल प्रश्न-पत्र को पढ़ेंगे और इस अवधि के दौरान वे उत्तर-पुस्तिका पर कोई उत्तर नहीं लिखेंगे।	(V) 15 minute time has been allotted to read this question paper. The question paper will be distributed at 10.15 a.m. From 10.15 a.m. to 10.30 a.m., the students will read the question paper only and will not write any answer on the answer-book during this period.

सामान्य निर्देश:

निम्नलिखित निर्देशों को बहुत सावधानी से पढ़िए और उनका पालन कीजिए :

- (i) इस प्रश्न-पत्र में 30 प्रश्न हैं। सभी प्रश्न अनिवार्य हैं।
- (ii) प्रश्न-पत्र पाँच खण्डों में विभाजित है – खण्ड क, ख, ग, घ एवं ङ।
- (iii) खण्ड क – प्रश्न संख्या 1 से 12 तक बहुविकल्पीय प्रकार के प्रश्न हैं। प्रत्येक प्रश्न 1 अंक का है।
- (iv) खण्ड ख – प्रश्न संख्या 13 से 18 तक लघु-उत्तरीय प्रकार के प्रश्न हैं। प्रत्येक प्रश्न 2 अंकों का है। प्रत्येक प्रश्न का उत्तर 50 से 60 शब्दों में लिखिए।
- (v) खण्ड ग – प्रश्न संख्या 19 से 23 तक दीर्घ-उत्तरीय प्रकार-I के प्रश्न हैं। प्रत्येक प्रश्न 4 अंकों का है। प्रत्येक प्रश्न का उत्तर 100 से 120 शब्दों में लिखिए।
- (vi) खण्ड घ – प्रश्न संख्या 24 से 26 अवतरण, कार्टून तथा मानचित्र-आधारित प्रश्न हैं। प्रत्येक प्रश्न का उत्तर यथानुसार लिखिए।
- (vii) खण्ड ङ – प्रश्न संख्या 27 से 30 तक दीर्घ-उत्तरीय प्रकार-II के प्रश्न हैं। प्रत्येक प्रश्न 6 अंकों का है। प्रत्येक प्रश्न का उत्तर 170 से 180 शब्दों में लिखिए।
- (viii) प्रश्न-पत्र में कोई समग्र विकल्प नहीं है। यद्यपि कुछ प्रश्नों में आंतरिक विकल्प का प्रावधान दिया गया है। इन प्रश्नों में से केवल एक ही प्रश्न का उत्तर लिखा जाए।
- (ix) इसके अतिरिक्त, ध्यान दें कि दृष्टिबाधित परीक्षार्थियों के लिए फोटो तथा मानचित्र आदि आधारित प्रश्नों के स्थान पर एक अन्य प्रश्न दिया गया है। इन प्रश्नों के उत्तर केवल दृष्टिबाधित परीक्षार्थी ही लिखें।

खण्ड क

प्रश्न संख्या 1 से 12 तक बहुविकल्पीय प्रकार के 1 अंक के प्रश्न हैं।

12×1=12

1. 'आसियान शैली' मेल-मिलाप का एक ऐसा तरीका है जो _____।
(A) औपचारिक है (B) टकरावपूर्ण है
(C) सहयोगात्मक है (D) भड़काऊ है
2. निम्नलिखित में से कौन-सा देश आसियान का एक संस्थापक सदस्य नहीं है ?
(A) सिंगापुर (B) थाईलैंड
(C) म्यांमार (D) इण्डोनेशिया
3. निम्नलिखित में से कौन-सा देश 'दक्षिण एशिया' में शामिल नहीं किया जाता है ?
(A) बांग्लादेश (B) चीन
(C) भूटान (D) मालदीव

General Instructions :

Read the following instructions very carefully and follow them :

- (i) This question paper contains **30** questions. **All** questions are **compulsory**.
- (ii) Question paper is divided into **five** sections – **Sections A, B, C, D and E**.
- (iii) **Section A** – questions number **1 to 12** are Multiple Choice type questions. Each question carries **1** mark.
- (iv) **Section B** – questions number **13 to 18** are Short Answer type questions. Each question carries **2** marks. Write answer to each question in **50 to 60** words.
- (v) **Section C** – questions number **19 to 23** are Long Answer type-I questions. Each question carries **4** marks. Write answer to each question in **100 to 120** words.
- (vi) **Section D** – questions number **24 to 26** are Passage, Cartoon and Map-based questions. Answer each question accordingly.
- (vii) **Section E** – questions number **27 to 30** are Long Answer type-II questions. Each question carries **6** marks. Write answer to each question in **170 to 180** words.
- (viii) There is no overall choice in the question paper. However, an internal choice has been provided in few questions. Only **one** of the choices in such questions has to be attempted.
- (ix) In addition to this, note that a separate question has been provided for Visually Impaired candidates in lieu of questions having visual inputs, map etc. Such questions are to be attempted by Visually Impaired candidates only.

SECTION A

Questions number **1 to 12** are Multiple Choice type questions, carrying **1** mark each.

$12 \times 1 = 12$

1. The 'ASEAN Way' is a form of interaction that is _____.
(A) formal (B) confrontationist
(C) cooperative (D) provocative
2. Which one of the following countries is **not** a founder-member of ASEAN ?
(A) Singapore (B) Thailand
(C) Myanmar (D) Indonesia
3. Which one of the following countries is **not** included in 'South Asia' ?
(A) Bangladesh (B) China
(C) Bhutan (D) Maldives

4. पाकिस्तान के निम्नलिखित शासकों को उनके शासन काल के कालक्रमानुसार व्यवस्थित कीजिए :

- (i) जनरल ज़िया-उल-हक
- (ii) बेनज़ीर भुट्टो
- (iii) जनरल मुशर्रफ
- (iv) जुल्फ़िकार अली भुट्टो

सही विकल्प चुनिए :

- (A) (iv), (i), (ii), (iii)
- (B) (i), (iii), (ii), (iv)
- (C) (iv), (iii), (ii), (i)
- (D) (i), (ii), (iii), (iv)

5. निम्नलिखित में से कौन-सा सुरक्षा के लिए खतरे का नया स्रोत **नहीं** है ?

- (A) आतंकवाद
- (B) वायुयानों का अपहरण
- (C) ड्रोन का प्रयोग
- (D) युद्ध

प्रश्न संख्या 6 के लिए, दो कथन दिए गए हैं — जिनमें एक को अभिकथन (A) तथा दूसरे को कारण (R) द्वारा अंकित किया गया है। इन कथनों को ध्यान से पढ़िए और नीचे दिए गए विकल्पों (A), (B), (C) और (D) में से उत्तर के रूप में सही विकल्प चुनिए।

6. अभिकथन (A) : गठबंधन में कई देश शामिल होते हैं जो सैन्य हमले को रोकने अथवा उससे रक्षा करने के लिए समवेत कदम उठाते हैं।

कारण (R) : किसी अन्य देश अथवा गठबंधन की तुलना में अपनी प्रभावी शक्ति को बढ़ाने के लिए देश गठबंधन बनाते हैं।

विकल्प :

- (A) अभिकथन (A) और कारण (R) दोनों सही हैं, और कारण (R), अभिकथन (A) की सही व्याख्या करता है।
- (B) अभिकथन (A) और कारण (R) दोनों सही हैं, परन्तु कारण (R), अभिकथन (A) की सही व्याख्या **नहीं** करता है।
- (C) अभिकथन (A) ग़लत है, परन्तु कारण (R) सही है।
- (D) अभिकथन (A) सही है, परन्तु कारण (R) ग़लत है।

4. Arrange the following rulers of Pakistan in the chronological order as per the period of their rule :

- (i) General Zia-ul-Haq
- (ii) Benazir Bhutto
- (iii) General Musharraf
- (iv) Zulfikar Ali Bhutto

Choose the correct option.

- (A) (iv), (i), (ii), (iii)
- (B) (i), (iii), (ii), (iv)
- (C) (iv), (iii), (ii), (i)
- (D) (i), (ii), (iii), (iv)

5. Which one of the following is **not** considered as a new source of threat to security ?

- (A) Terrorism
- (B) Hijacking of planes
- (C) Use of drones
- (D) War

For Question number 6, two statements are given — one labelled as Assertion (A) and the other labelled as Reason (R). Read these statements carefully and choose the correct option as the answer from the options (A), (B), (C) and (D) given below.

6. *Assertion (A) :* An alliance is a coalition of states that coordinate their actions to deter or defend against military attack.

Reason (R) : Countries form alliances to increase their effective power relative to another country or alliance.

Options :

- (A) Both Assertion (A) and Reason (R) are true and Reason (R) is the correct explanation of the Assertion (A).
- (B) Both Assertion (A) and Reason (R) are true, but Reason (R) is **not** the correct explanation of the Assertion (A).
- (C) Assertion (A) is false, but Reason (R) is true.
- (D) Assertion (A) is true, but Reason (R) is false.

7. 1950 के दशक के दौरान भारत और अमेरिका के संबंधों में काफ़ी असहजता थी क्योंकि :
- (A) भारत के सोवियत संघ के साथ संबंधों में सहभागिता बढ़ रही थी ।
 (B) सोवियत संघ ने हंगरी पर आक्रमण कर दिया ।
 (C) भारत नाटो (NATO) का एक सदस्य नहीं था ।
 (D) भारत गुट निरपेक्ष आंदोलन (NAM) का संस्थापक सदस्य था ।
8. निम्नलिखित में से कौन-सा एक जवाहरलाल नेहरू की विदेश नीति का प्रमुख लक्ष्य **नहीं** था ?
- (A) कठिन संघर्ष से प्राप्त भारत की संप्रभुता को बचाए रखना ।
 (B) भारत की क्षेत्रीय अखण्डता की रक्षा करना ।
 (C) भारत को एक परमाणु शक्ति बनाना ।
 (D) तीव्र आर्थिक विकास को बढ़ावा देना ।
9. लाल बहादुर शास्त्री से संबंधित, निम्नलिखित कथनों में से **गलत** कथन की पहचान कीजिए ।
- (A) वर्ष 1966 तक उन्होंने काँग्रेस पार्टी के महासचिव के रूप में कार्य किया ।
 (B) वे तीन वर्ष के अल्पकाल के लिए संघीय मंत्रिमंडल के सदस्य रहे ।
 (C) एक रेल दुर्घटना का दायित्व अपने पर लेते हुए, उन्होंने संघीय मंत्रिमंडल से त्यागपत्र दे दिया था ।
 (D) 'जय जवान जय किसान' उनका प्रसिद्ध नारा था ।
10. भारत में चौथे आम चुनाव से पूर्व निम्नलिखित में से कौन-सी समस्याएँ थीं ?
- (i) मानसून की असफलता
 (ii) खाद्य संकट
 (iii) अधिक वर्षा
 (iv) विदेशी मुद्रा-भंडार में कमी
- सही विकल्प चुनिए ।
- (A) (i), (ii) (B) (iii), (iv)
 (C) (i), (ii), (iv) (D) (ii), (iii), (iv)

7. There was considerable unease in Indo-US relations during the 1950s because :
- (A) India had a growing partnership with the Soviet Union.
 - (B) The Soviet Union invaded Hungary.
 - (C) India was not a member of NATO.
 - (D) India was a founder member of NAM.
8. Which one of the following was **not** a major objective of Jawaharlal Nehru's foreign policy ?
- (A) To preserve the hard-earned sovereignty of India.
 - (B) To protect the territorial integrity of India.
 - (C) To make India a nuclear power.
 - (D) To promote rapid economic development.
9. Identify the **false** statement from the following related to Lal Bahadur Shastri.
- (A) He worked as the General Secretary of the Congress Party till 1966.
 - (B) He was in the Union Cabinet for a short period of three years.
 - (C) He resigned from the Union Cabinet taking responsibility for a Railway accident.
 - (D) He gave the famous slogan 'Jai Jawan Jai Kisan'.
10. Which of the following problems did India face before the 4th general elections ?
- (i) Failure of monsoon
 - (ii) Food crisis
 - (iii) Heavy rainfall
 - (iv) Depletion of foreign exchange reserves
- Choose the correct option.
- (A) (i), (ii)
 - (B) (iii), (iv)
 - (C) (i), (ii), (iv)
 - (D) (ii), (iii), (iv)

11. भारत के निम्नलिखित प्रधानमंत्रियों को उनके कार्यकाल के आधार पर कालक्रमानुसार व्यवस्थित कीजिए :

- (i) एच.डी. देवेगौड़ा
- (ii) चन्द्र शेखर
- (iii) पी.वी नरसिम्हा राव
- (iv) वी.पी. सिंह

सही विकल्प चुनिए ।

- | | |
|----------------------------|----------------------------|
| (A) (i), (ii), (iv), (iii) | (B) (iii), (iv), (ii), (i) |
| (C) (i), (ii), (iii), (iv) | (D) (iv), (ii), (iii), (i) |

12. सूची-I का सूची-II से सही मिलान कीजिए और सही विकल्प चुनिए :

सूची-I

सूची-II

- | | |
|----------------------------------------|-----------------------------------------|
| 1. सत्रहवीं लोक सभा में स्पष्ट बहुमत | (i) राष्ट्रीय मोर्चा की सरकार |
| 2. मंडल आयोग की सिफारिशों को लागू करना | (ii) संयुक्त मोर्चा की सरकार |
| 3. प्रधानमंत्री एच.डी. देवेगौड़ा | (iii) संयुक्त प्रगतिशील गठबंधन की सरकार |
| 4. प्रधानमंत्री मनमोहन सिंह | (iv) राष्ट्रीय जनतांत्रिक गठबंधन |

विकल्प :

- (A) 1-(iv), 2-(i), 3-(ii), 4-(iii)
- (B) 1-(i), 2-(ii), 3-(iii), 4-(iv)
- (C) 1-(iv), 2-(iii), 3-(ii), 4-(i)
- (D) 1-(i), 2-(iv), 3-(ii), 4-(iii)

खण्ड ख

13. पाकिस्तान में स्थायी लोकतंत्र की स्थापना में असफलता के लिए उत्तरदायी किन्हीं दो कारकों की व्याख्या कीजिए ।

2

14. बांग्लादेश के संविधान की किन्हीं दो विशेषताओं को उजागर कीजिए ।

2

11. Arrange the following Prime Ministers of India in the chronological order as per their period of rule :

- (i) H.D. Deve Gowda
- (ii) Chandra Shekhar
- (iii) P.V. Narsimha Rao
- (iv) V.P. Singh

Choose the correct option.

- (A) (i), (ii), (iv), (iii)
- (B) (iii), (iv), (ii), (i)
- (C) (i), (ii), (iii), (iv)
- (D) (iv), (ii), (iii), (i)

12. Match List-I with the List-II and choose the correct option :

List-I

List-II

- | | |
|-------------------------------------------------------------------|----------------------------------------------|
| 1. Clear majority in the 17 th Lok Sabha | (i) National Front Government |
| 2. Implementation of the recommendations of the Mandal Commission | (ii) United Front Government |
| 3. Prime Minister H.D. Deve Gowda | (iii) United Progressive Alliance Government |
| 4. Prime Minister Manmohan Singh | (iv) National Democratic Alliance |

Options :

- (A) 1-(iv), 2-(i), 3-(ii), 4-(iii)
- (B) 1-(i), 2-(ii), 3-(iii), 4-(iv)
- (C) 1-(iv), 2-(iii), 3-(ii), 4-(i)
- (D) 1-(i), 2-(iv), 3-(ii), 4-(iii)

SECTION B

13. Explain any two factors that are responsible for Pakistan's failure in building a stable democracy. 2

14. Highlight any two features of the Constitution of Bangladesh. 2

15. संयुक्त राष्ट्र संघ जैसे अंतर्राष्ट्रीय संगठनों के कोई दो लाभ लिखिए । 2
16. द्वितीय पंचवर्षीय योजना का मुख्य योजनाकार कौन था ? द्वितीय पंचवर्षीय योजना में किस बात पर बल दिया गया ? 2
17. राजनीति में 'दल-बदल' शब्द के अर्थ की व्याख्या कीजिए । 2
18. भारतीय राजनीति में वर्ष 1989 से 2014 के कालखण्ड की तुलना में 2014 के बाद आए किन्हीं दो परिवर्तनों को स्पष्ट कीजिए । 2

खण्ड ग

19. (क) यूरोपीय संघ के आर्थिक महत्त्व का आकलन कीजिए । 4
- अथवा**
- (ख) अधिराष्ट्रीय संगठन के तौर पर यूरोपीय संघ की भूमिका का उदाहरणों की सहायता से विश्लेषण कीजिए । 4
20. संयुक्त राष्ट्र सुरक्षा परिषद के नए स्थायी एवं अस्थायी सदस्यों के लिए 1997 में प्रस्तावित किए गए किन्हीं चार मानदण्डों का वर्णन कीजिए । 4
21. (क) मानवता की सुरक्षा का प्राथमिक लक्ष्य क्या है ? मानवता की सुरक्षा के संकीर्ण तथा व्यापक दृष्टिकोण में अंतर स्पष्ट कीजिए । 4
- अथवा**
- (ख) एशिया तथा अफ्रीका के नए स्वतंत्र देशों के समक्ष आई सुरक्षा चुनौतियों की व्याख्या कीजिए । 4
22. लोकतंत्र में राजनीति की महत्त्वपूर्ण भूमिका को ध्यान में रखते हुए हमारे राष्ट्रीय नेताओं ने नव स्वतंत्र भारत के लिए किस मार्ग को अपनाया ? किन्हीं दो बिंदुओं को स्पष्ट कीजिए । 4
23. भारत की विदेश नीति में जवाहरलाल नेहरू की भूमिका उजागर कीजिए । 4

15. State any two advantages of international organisations like the UNO. 2
16. Who was the main architect of the Second Five Year Plan ? What did the Second Five Year Plan stress upon ? 2
17. Explain the meaning of the term 'defection' in politics. 2
18. Explain any two changes that came in Indian politics after 2014 as compared to the period 1989 to 2014. 2

SECTION C

19. (a) Assess the economic importance of the European Union. 4

OR

- (b) Analyse the role of the European Union as a supranational organisation with the help of examples. 4
20. Describe any four criteria proposed in 1997 for new permanent and non-permanent members of the UN Security Council. 4
21. (a) What is the primary goal of human security ? Explain the difference between the narrow and broad concepts of human security. 4

OR

- (b) Explain the security challenges faced by the newly independent countries of Asia and Africa. 4
22. Keeping in mind the crucial role of politics in a democracy, which route did our national leaders decide to take in the newly independent India ? Explain any two points. 4
23. Highlight the role of Jawaharlal Nehru in the foreign policy of India. 4

खण्ड घ

24. निम्नलिखित अवतरण को ध्यानपूर्वक पढ़िए और नीचे दिए गए प्रश्नों के उत्तर दीजिए : $4 \times 1 = 4$

वैश्वीकरण एक बहुआयामी अवधारणा है। इसके अनेक आयाम हैं और उनके बीच ठीक-ठीक भेद किया जाना चाहिए। यह मान लेना गलत है कि वैश्वीकरण का केवल एक आयाम है। ठीक इसी तरह, यह मान लेना भी भूल होगी कि वैश्वीकरण एकदम सांस्कृतिक परिघटना है। वैश्वीकरण का प्रभाव बहुआयामी रहा है; यह कुछ समाजों को बाकियों की अपेक्षा अधिक प्रभावित करता है। ऐसे में ज़रूरी हो जाता है कि विशिष्ट संदर्भों पर पर्याप्त ध्यान दिए बिना, हम वैश्वीकरण के प्रभाव के बारे में सर्व-सामान्य निष्कर्ष निकालने से परहेज करें।

- (i) निम्नलिखित में से कौन-सा आयाम, वैश्वीकरण का आयाम *नहीं* है ?
- (A) राजनीतिक (B) नैतिक
(C) सांस्कृतिक (D) आर्थिक
- (ii) वैश्वीकरण से संबंधित निम्नलिखित कथनों में से कौन-सा सही *नहीं* है ?
- (A) प्रौद्योगिकीय तरक्की विचारों, पूँजी, वस्तुओं और लोगों के प्रवाह में पर्याप्त सहायक होती है।
(B) वैश्वीकरण विभिन्न देशों की संस्कृतियों को प्रभावित करता है।
(C) यह सम्पूर्ण विश्व को समान रूप से प्रभावित करता है।
(D) जब बड़ी आर्थिक घटनाएँ घटित होती हैं, तो उनका प्रभाव वैश्विक स्तर पर महसूस किया जाता है।
- (iii) एक अवधारणा के रूप में वैश्वीकरण निम्नलिखित में से किस एक के साथ संबंधित *नहीं* है ?
- (A) विचारों के प्रवाह से (B) पूँजी के प्रवाह से
(C) नदियों के प्रवाह से (D) लोगों के प्रवाह से
- (iv) वैश्वीकरण का प्रभाव प्रायः कैसा होता है ?
- (A) एकसमान (B) असमान
(C) भेदभावपूर्ण (D) क्षेत्रीय

SECTION D

24. Read the following passage carefully and answer the questions that follow :

4×1=4

Globalisation is a multi-dimensional concept. It has various manifestations, and these must be adequately distinguished. It is wrong to assume that globalisation has only one dimension, just as it would also be mistaken to assume that it is a purely cultural phenomenon. The impact of globalisation is multi-dimensional; it affects some societies more than others and it is important to avoid drawing general conclusions about the impact of globalisation without paying sufficient attention to specific contexts.

- (i) Which one of the following is **not** a dimension of globalisation ?
- (A) Political (B) Ethical
(C) Cultural (D) Economic
- (ii) Which one of the following statements related to globalisation is **not** correct ?
- (A) The technological advances do help a lot in the flow of ideas, capital, commodities and people.
(B) Globalisation affects the cultures of different countries.
(C) It affects all over the world equally.
(D) When major economic events take place, their impact is felt at the global level.
- (iii) Globalisation as a concept does **not** deal with which one of the following ?
- (A) Flow of ideas (B) Flow of capital
(C) Flow of rivers (D) Flow of people
- (iv) The impact of globalisation is vastly _____.
- (A) even (B) uneven
(C) discriminatory (D) regional

25. भारत के दिए गए राजनीतिक रेखा-मानचित्र (पृष्ठ 15 पर), में चार राज्यों को (A), (B), (C) तथा (D) के द्वारा अंकित किया गया है। नीचे दी गई जानकारी के आधार पर इन राज्यों की पहचान कीजिए और अपनी उत्तर-पुस्तिका में इनके सही नाम, प्रयोग की गई जानकारी की क्रम-संख्या तथा मानचित्र में दिया गया संबंधित अक्षर, नीचे दी गई तालिका के रूप में लिखिए :

4×1=4

प्रयोग की गई जानकारी की क्रम-संख्या	मानचित्र में दिया गया संबंधित अक्षर	राज्य का नाम
(i)		
(ii)		
(iii)		
(iv)		

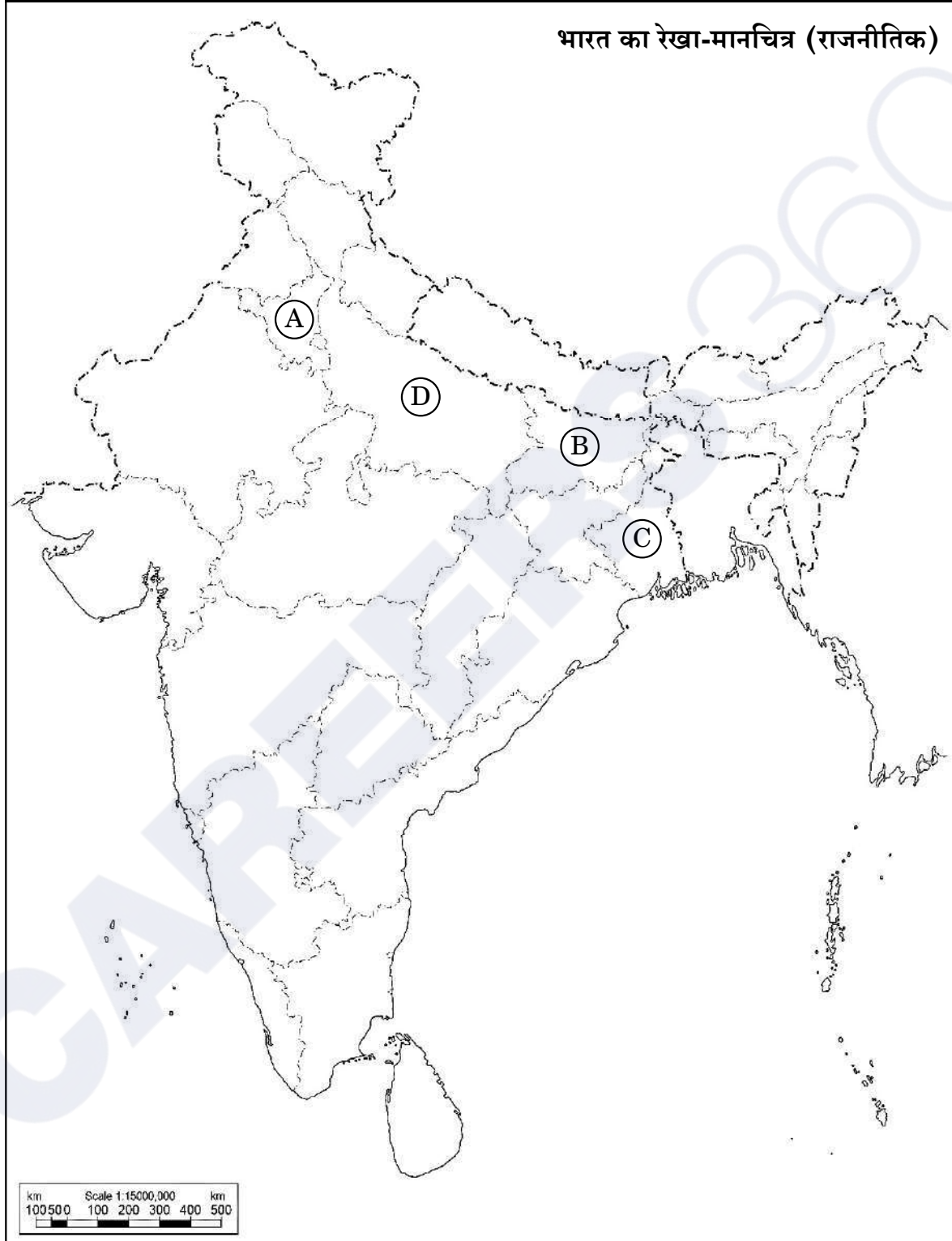
- (i) वह राज्य जिससे पूर्व प्रधानमंत्री चौधरी चरण सिंह संबंधित थे।
(ii) वह राज्य जिससे पूर्व उप-प्रधानमंत्री जगजीवन राम संबंधित थे।
(iii) वह राज्य जहाँ नक्सलवादी सबसे अधिक सक्रिय थे।
(iv) एक राज्य जहाँ से कांग्रेस पार्टी 1977 के लोक सभा चुनावों में एक भी सीट नहीं जीत पाई थी।

नोट : निम्नलिखित प्रश्न केवल दृष्टिबाधित परीक्षार्थियों के लिए प्रश्न संख्या 25 के स्थान पर हैं :

4×1=4

- (25.1) उस राज्य का नाम लिखिए जहाँ नक्सलवादी सबसे अधिक सक्रिय थे।
(25.2) उस राज्य का नाम लिखिए जिससे पूर्व प्रधानमंत्री चौधरी चरण सिंह का संबंध था।
(25.3) एक राज्य का नाम लिखिए जहाँ से कांग्रेस पार्टी 1977 के लोक सभा चुनावों में केवल एक सीट जीत पाई थी।
(25.4) उस राज्य का नाम लिखिए जहाँ मोरारजी देसाई ने 1974 – 75 में छात्र आन्दोलन का नेतृत्व किया था।

प्रश्न सं. 25 के लिए



25. In the given political outline map of **India** (on page 17), four States have been marked as (A), (B), (C) and (D). Identify these States on the basis of the information given below and write their correct names in your answer-book along with the respective serial number of the information used and the concerned alphabets given in the map as per the following format :

4×1=4

Serial number of the information used	Concerned alphabet given in the map	Name of the State
(i)		
(ii)		
(iii)		
(iv)		

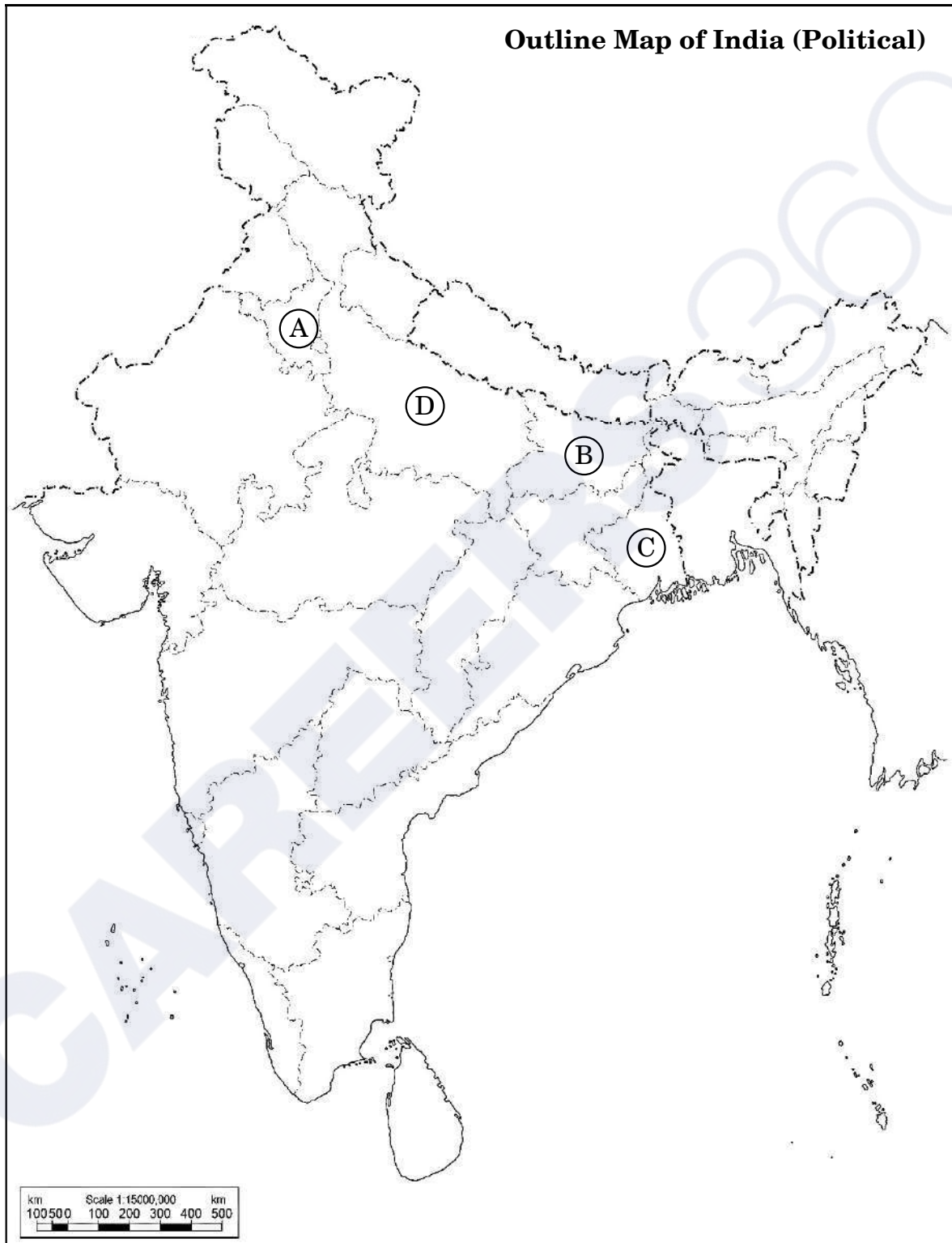
- (i) The State related to former Prime Minister Chaudhary Charan Singh.
- (ii) The State to which former Deputy Prime Minister Jagjivan Ram belonged.
- (iii) The State where the Naxalites were very active.
- (iv) A State where the Congress party could not win even a single seat in the Lok Sabha elections in 1977.

Note : The following questions are for the **Visually Impaired Candidates** only, in lieu of Q. No. 25 :

4×1=4


- (25.1) Name the State where the Naxalites were very active.
- (25.2) Name the State to which former Prime Minister Chaudhary Charan Singh belonged.
- (25.3) Name a State from where the Congress Party could win only one seat in the 1977 Lok Sabha elections.
- (25.4) Name the State where Morarji Desai led the Students' Movement in 1974 – 75.

For question no. 25



26. दिया गया कार्टून गठबंधन की सरकारों के युग से संबंधित है। कार्टून का अध्ययन कीजिए और निम्नलिखित प्रश्नों के उत्तर दीजिए :


1+1+2=4



- (i) 'रथ यात्रा' का प्लेकार्ड थामे हुए नेता को पहचान कर उसका नाम लिखिए।
- (ii) किस राजनीतिक पार्टी ने 'रथ यात्रा' का आयोजन किया था ?
- (iii) कार्टून में दिखाए गए किन्हीं दो प्रधानमंत्रियों को पहचान कर उनके नाम लिखिए जिन्होंने गठबंधन की सरकारों का नेतृत्व किया था।

26. The given cartoon is related to the era of coalition governments. Study the cartoon and answer the questions that follow :

1+1+2=4



- (i) Identify and name the leader who is holding the placard 'Rath Yatra'.
- (ii) Which political party organised the 'Rath Yatra' ?
- (iii) Identify and name any two Prime Ministers shown in the cartoon who led the coalition governments.

नोट : निम्नलिखित प्रश्न केवल दृष्टिबाधित परीक्षार्थियों के लिए प्रश्न संख्या 26 के स्थान पर हैं :

2+1+1=4

- (26.1) मण्डल आयोग की सिफ़ारिशों को लागू करने का फैसला किस गठबंधन सरकार ने किया था और क्यों ?
- (26.2) भारत के पहले गैर-काँग्रेसी प्रधानमंत्री का नाम लिखिए ।
- (26.3) उस प्रधानमंत्री का नाम लिखिए जिन्होंने मई 1996 से जून 1996 तक गठबंधन की सरकार का नेतृत्व किया ।

खण्ड ड

27. (क) “भारत और रूस के संबंधों का इतिहास आपसी विश्वास और साझे हितों का इतिहास है ।” किन्हीं तीन उपयुक्त तर्कों द्वारा कथन का समर्थन कीजिए । 6
- अथवा
- (ख) सोवियत संघ के विघटन के बाद शॉक थेरेपी के किन्हीं तीन प्रभावों का विश्लेषण कीजिए । 6
28. (क) वैश्विक राजनीति के किन्हीं तीन पर्यावरणीय सरोकारों की व्याख्या कीजिए जिनका समाधान किसी एक देश की सरकार अकेले दम पर नहीं कर सकती । 6
- अथवा
- (ख) ‘साझी परन्तु अलग-अलग ज़िम्मेदारियों’ के सिद्धांत की व्याख्या कीजिए । 6
29. (क) स्वतंत्रता के तुरंत पश्चात स्वतंत्र भारत के समक्ष आईं किन्हीं तीन प्रमुख चुनौतियों का वर्णन कीजिए । 6
- अथवा
- (ख) 1947 में विभाजन के समय भारत के कई भागों में उत्पन्न साम्प्रदायिक हिंसा को कम करने के लिए, महात्मा गाँधी के योगदान का वर्णन कीजिए । 6

Note : The following questions are for the **Visually Impaired Candidates** only, in lieu of Q. No. 26 :

2+1+1=4

- (26.1) Which coalition government decided to implement the recommendations of the Mandal Commission and why ?
- (26.2) Name the first Non-Congress Prime Minister of India.
- (26.3) Name the Prime Minister who headed a coalition government from May 1996 to June 1996.

SECTION E

27. (a) "India's relations with Russia are embedded in a history of trust and common interests." Support the statement with any three appropriate arguments. 6

OR

- (b) Analyse any three effects of shock therapy after the disintegration of the Soviet Union. 6

28. (a) Explain any three environmental concerns in global politics which no single government can address. 6

OR

- (b) Explain the principle of 'common but differentiated responsibilities'. 6

29. (a) Describe any three major challenges that independent India faced immediately after independence. 6

OR

- (b) Describe the role played by Mahatma Gandhi to reduce communal violence that erupted in many parts of India at the time of the partition in 1947. 6

30. (क) 1979 से 1985 तक असम में बाहरी लोगों के विरुद्ध चले आन्दोलन के किन्हीं तीन कारणों का विश्लेषण कीजिए ।

6

अथवा

- (ख) “क्षेत्रीय आकांक्षाएँ लोकतान्त्रिक राजनीति का अविभाज्य अंग हैं ।” कथन को न्यायसंगत ठहराइए ।

6

- 30.** (a) Analyse any three reasons for the movement against outsiders in Assam from 1979 to 1985.

6

OR

- (b) “Regional aspirations are very much a part of democratic politics.”
Justify the statement.

6

Series RPQS1/1

Set-2

प्रश्न-पत्र कोड
Q.P. Code

59/1/2

रोल नं.
Roll No.



परीक्षार्थी प्रश्न-पत्र कोड को उत्तर-पुस्तिका के मुख-पृष्ठ पर अवश्य लिखें।

Candidates must write the Q.P. Code on the title page of the answer-book.

राजनीति विज्ञान
POLITICAL SCIENCE

निर्धारित समय : 3 घण्टे

अधिकतम अंक : 80

Time allowed : 3 hours

Maximum Marks : 80

नोट	NOTE
(I) कृपया जाँच कर लें कि इस प्रश्न-पत्र में मुद्रित पृष्ठ 23 हैं।	(I) Please check that this question paper contains 23 printed pages.
(II) कृपया जाँच कर लें कि इस प्रश्न-पत्र में 30 प्रश्न हैं।	(II) Please check that this question paper contains 30 questions.
(III) प्रश्न-पत्र में दाहिने हाथ की ओर दिए गए प्रश्न-पत्र कोड को परीक्षार्थी उत्तर-पुस्तिका के मुख-पृष्ठ पर लिखें।	(III) Q.P. Code given on the right hand side of the question paper should be written on the title page of the answer-book by the candidate.
(IV) कृपया प्रश्न का उत्तर लिखना शुरू करने से पहले, उत्तर-पुस्तिका में प्रश्न का क्रमांक अवश्य लिखें।	(IV) Please write down the serial number of the question in the answer-book before attempting it.
(V) इस प्रश्न-पत्र को पढ़ने के लिए 15 मिनट का समय दिया गया है। प्रश्न-पत्र का वितरण पूर्वाह्न में 10.15 बजे किया जाएगा। 10.15 बजे से 10.30 बजे तक छात्र केवल प्रश्न-पत्र को पढ़ेंगे और इस अवधि के दौरान वे उत्तर-पुस्तिका पर कोई उत्तर नहीं लिखेंगे।	(V) 15 minute time has been allotted to read this question paper. The question paper will be distributed at 10.15 a.m. From 10.15 a.m. to 10.30 a.m., the students will read the question paper only and will not write any answer on the answer-book during this period.

सामान्य निर्देश:

निम्नलिखित निर्देशों को बहुत सावधानी से पढ़िए और उनका पालन कीजिए :

- (i) इस प्रश्न-पत्र में 30 प्रश्न हैं। सभी प्रश्न अनिवार्य हैं।
- (ii) प्रश्न-पत्र पाँच खण्डों में विभाजित है – खण्ड क, ख, ग, घ एवं ङ।
- (iii) खण्ड क – प्रश्न संख्या 1 से 12 तक बहुविकल्पीय प्रकार के प्रश्न हैं। प्रत्येक प्रश्न 1 अंक का है।
- (iv) खण्ड ख – प्रश्न संख्या 13 से 18 तक लघु-उत्तरीय प्रकार के प्रश्न हैं। प्रत्येक प्रश्न 2 अंकों का है। प्रत्येक प्रश्न का उत्तर 50 से 60 शब्दों में लिखिए।
- (v) खण्ड ग – प्रश्न संख्या 19 से 23 तक दीर्घ-उत्तरीय प्रकार-I के प्रश्न हैं। प्रत्येक प्रश्न 4 अंकों का है। प्रत्येक प्रश्न का उत्तर 100 से 120 शब्दों में लिखिए।
- (vi) खण्ड घ – प्रश्न संख्या 24 से 26 अवतरण, कार्टून तथा मानचित्र-आधारित प्रश्न हैं। प्रत्येक प्रश्न का उत्तर यथानुसार लिखिए।
- (vii) खण्ड ङ – प्रश्न संख्या 27 से 30 तक दीर्घ-उत्तरीय प्रकार-II के प्रश्न हैं। प्रत्येक प्रश्न 6 अंकों का है। प्रत्येक प्रश्न का उत्तर 170 से 180 शब्दों में लिखिए।
- (viii) प्रश्न-पत्र में कोई समग्र विकल्प नहीं है। यद्यपि कुछ प्रश्नों में आंतरिक विकल्प का प्रावधान दिया गया है। इन प्रश्नों में से केवल एक ही प्रश्न का उत्तर लिखा जाए।
- (ix) इसके अतिरिक्त, ध्यान दें कि दृष्टिबाधित परीक्षार्थियों के लिए फोटो तथा मानचित्र आदि आधारित प्रश्नों के स्थान पर एक अन्य प्रश्न दिया गया है। इन प्रश्नों के उत्तर केवल दृष्टिबाधित परीक्षार्थी ही लिखें।

खण्ड क

प्रश्न संख्या 1 के लिए, दो कथन दिए गए हैं — जिनमें एक को अभिकथन (A) तथा दूसरे को कारण (R) द्वारा अंकित किया गया है। इन कथनों को ध्यान से पढ़िए और नीचे दिए गए विकल्पों (A), (B), (C) और (D) में से उत्तर के रूप में सही विकल्प चुनिए।

1. अभिकथन (A) : गठबंधन में कई देश शामिल होते हैं जो सैन्य हमले को रोकने अथवा उससे रक्षा करने के लिए समवेत कदम उठाते हैं।

कारण (R) : किसी अन्य देश अथवा गठबंधन की तुलना में अपनी प्रभावी शक्ति को बढ़ाने के लिए देश गठबंधन बनाते हैं।

विकल्प :

- (A) अभिकथन (A) और कारण (R) दोनों सही हैं और कारण (R), अभिकथन (A) की सही व्याख्या करता है।
- (B) अभिकथन (A) और कारण (R) दोनों सही हैं, परन्तु कारण (R), अभिकथन (A) की सही व्याख्या नहीं करता है।
- (C) अभिकथन (A) ग़लत है, परन्तु कारण (R) सही है।
- (D) अभिकथन (A) सही है, परन्तु कारण (R) ग़लत है।

General Instructions :

Read the following instructions very carefully and follow them :

- (i) This question paper contains **30** questions. **All** questions are **compulsory**.
- (ii) Question paper is divided into **five** sections – **Sections A, B, C, D and E**.
- (iii) **Section A** – questions number **1 to 12** are Multiple Choice type questions. Each question carries **1** mark.
- (iv) **Section B** – questions number **13 to 18** are Short Answer type questions. Each question carries **2** marks. Write answer to each question in **50 to 60** words.
- (v) **Section C** – questions number **19 to 23** are Long Answer type-I questions. Each question carries **4** marks. Write answer to each question in **100 to 120** words.
- (vi) **Section D** – questions number **24 to 26** are Passage, Cartoon and Map-based questions. Answer each question accordingly.
- (vii) **Section E** – questions number **27 to 30** are Long Answer type-II questions. Each question carries **6** marks. Write answer to each question in **170 to 180** words.
- (viii) There is no overall choice in the question paper. However, an internal choice has been provided in few questions. Only **one** of the choices in such questions has to be attempted.
- (ix) In addition to this, note that a separate question has been provided for Visually Impaired candidates in lieu of questions having visual inputs, map etc. Such questions are to be attempted by Visually Impaired candidates only.

SECTION A

Questions number **1 to 12** are Multiple Choice type questions, carrying **1** mark each.

$$12 \times 1 = 12$$

For Question number **1**, two statements are given — one labelled as Assertion (A) and the other labelled as Reason (R). Read these statements carefully and choose the correct option as the answer from the options (A), (B), (C) and (D) given below.

1. Assertion (A) : An alliance is a coalition of states that coordinate their actions to deter or defend against military attack.
Reason (R) : Countries form alliances to increase their effective power relative to another country or alliance.

Options :

- (A) Both Assertion (A) and Reason (R) are true and Reason (R) is the correct explanation of the Assertion (A).
- (B) Both Assertion (A) and Reason (R) are true, but Reason (R) is **not** the correct explanation of the Assertion (A).
- (C) Assertion (A) is false, but Reason (R) is true.
- (D) Assertion (A) is true, but Reason (R) is false.

2. निम्नलिखित में से कौन-सा सुरक्षा के लिए खतरे का नया स्रोत **नहीं** है ?
- (A) आतंकवाद (B) वायुयानों का अपहरण
(C) ड्रोन का प्रयोग (D) युद्ध
3. पाकिस्तान के निम्नलिखित शासकों को उनके शासन काल के कालक्रमानुसार व्यवस्थित कीजिए :
- (i) जनरल ज़िया-उल-हक
(ii) बेनज़ीर भुट्टो
(iii) जनरल मुशर्रफ
(iv) जुल्फ़िकार अली भुट्टो
- सही विकल्प चुनिए :
- (A) (iv), (i), (ii), (iii)
(B) (i), (iii), (ii), (iv)
(C) (iv), (iii), (ii), (i)
(D) (i), (ii), (iii), (iv)
4. निम्नलिखित में से कौन-सा देश 'दक्षिण एशिया' में शामिल **नहीं** किया जाता है ?
- (A) बांग्लादेश (B) चीन
(C) भूटान (D) मालदीव
5. निम्नलिखित में से कौन-सा देश आसियान का एक संस्थापक सदस्य **नहीं** है ?
- (A) सिंगापुर (B) थाईलैंड
(C) म्याँमार (D) इण्डोनेशिया
6. 'आसियान शैली' मेल-मिलाप का एक ऐसा तरीका है जो _____ ।
- (A) औपचारिक है (B) टकरावपूर्ण है
(C) सहयोगात्मक है (D) भड़काऊ है

2. Which one of the following is **not** considered as a new source of threat to security ?

- (A) Terrorism (B) Hijacking of planes
(C) Use of drones (D) War

3. Arrange the following rulers of Pakistan in the chronological order as per the period of their rule :

- (i) General Zia-ul-Haq
(ii) Benazir Bhutto
(iii) General Musharraf
(iv) Zulfikar Ali Bhutto

Choose the correct option.

- (A) (iv), (i), (ii), (iii)
(B) (i), (iii), (ii), (iv)
(C) (iv), (iii), (ii), (i)
(D) (i), (ii), (iii), (iv)

4. Which one of the following countries is **not** included in 'South Asia' ?

- (A) Bangladesh (B) China
(C) Bhutan (D) Maldives

5. Which one of the following countries is **not** a founder-member of ASEAN ?

- (A) Singapore (B) Thailand
(C) Myanmar (D) Indonesia

6. The 'ASEAN Way' is a form of interaction that is _____.

- (A) formal (B) confrontationist
(C) cooperative (D) provocative

7. सूची-I का सूची-II से सही मिलान कीजिए और सही विकल्प चुनिए :

सूची-I

सूची-II

- | | | |
|----------------------------------------|-------|-----------------------------------|
| 1. सत्रहवीं लोक सभा में स्पष्ट बहुमत | (i) | राष्ट्रीय मोर्चा की सरकार |
| 2. मंडल आयोग की सिफारिशों को लागू करना | (ii) | संयुक्त मोर्चा की सरकार |
| 3. प्रधानमंत्री एच.डी. देवेगौड़ा | (iii) | संयुक्त प्रगतिशील गठबंधन की सरकार |
| 4. प्रधानमंत्री मनमोहन सिंह | (iv) | राष्ट्रीय जनतांत्रिक गठबंधन |

विकल्प :

- (A) 1-(iv), 2-(i), 3-(ii), 4-(iii)
(B) 1-(i), 2-(ii), 3-(iii), 4-(iv)
(C) 1-(iv), 2-(iii), 3-(ii), 4-(i)
(D) 1-(i), 2-(iv), 3-(ii), 4-(iii)

8. भारत के निम्नलिखित प्रधानमंत्रियों को उनके कार्यकाल के आधार पर कालक्रमानुसार व्यवस्थित कीजिए :

- (i) एच.डी. देवेगौड़ा
(ii) चन्द्र शेखर
(iii) पी.वी. नरसिम्हा राव
(iv) वी.पी. सिंह

सही विकल्प चुनिए ।

- (A) (i), (ii), (iv), (iii) (B) (iii), (iv), (ii), (i)
(C) (i), (ii), (iii), (iv) (D) (iv), (ii), (iii), (i)

9. भारत में चौथे आम चुनाव से पूर्व निम्नलिखित में से कौन-सी समस्याएँ थीं ?

- (i) मानसून की असफलता
(ii) खाद्य संकट
(iii) अधिक वर्षा
(iv) विदेशी मुद्रा-भंडार में कमी

सही विकल्प चुनिए ।

- (A) (i), (ii) (B) (iii), (iv)
(C) (i), (ii), (iv) (D) (ii), (iii), (iv)

7. Match List-I with the List-II and choose the correct option :

<i>List-I</i>		<i>List-II</i>
1. Clear majority in the 17 th Lok Sabha	(i)	National Front Government
2. Implementation of the recommendations of the Mandal Commission	(ii)	United Front Government
3. Prime Minister H.D. Deve Gowda	(iii)	United Progressive Alliance Government
4. Prime Minister Manmohan Singh	(iv)	National Democratic Alliance

Options :

- (A) 1-(iv), 2-(i), 3-(ii), 4-(iii)
(B) 1-(i), 2-(ii), 3-(iii), 4-(iv)
(C) 1-(iv), 2-(iii), 3-(ii), 4-(i)
(D) 1-(i), 2-(iv), 3-(ii), 4-(iii)

8. Arrange the following Prime Ministers of India in the chronological order as per their period of rule :

- (i) H.D. Deve Gowda
(ii) Chandra Shekhar
(iii) P.V. Narsimha Rao
(iv) V.P. Singh

Choose the correct option.

- (A) (i), (ii), (iv), (iii) (B) (iii), (iv), (ii), (i)
(C) (i), (ii), (iii), (iv) (D) (iv), (ii), (iii), (i)

9. Which of the following problems did India face before the 4th general elections ?

- (i) Failure of monsoon
(ii) Food crisis
(iii) Heavy rainfall
(iv) Depletion of foreign exchange reserves

Choose the correct option.

- (A) (i), (ii) (B) (iii), (iv)
(C) (i), (ii), (iv) (D) (ii), (iii), (iv)

10. लाल बहादुर शास्त्री से संबंधित, निम्नलिखित कथनों में से **गलत** कथन की पहचान कीजिए ।
- (A) वर्ष 1966 तक उन्होंने कांग्रेस पार्टी के महासचिव के रूप में कार्य किया ।
- (B) वे तीन वर्ष के अल्पकाल के लिए संघीय मंत्रिमंडल के सदस्य रहे ।
- (C) एक रेल दुर्घटना का दायित्व अपने पर लेते हुए, उन्होंने संघीय मंत्रिमंडल से त्यागपत्र दे दिया था ।
- (D) 'जय जवान जय किसान' उनका प्रसिद्ध नारा था ।
11. निम्नलिखित में से कौन-सा एक जवाहरलाल नेहरू की विदेश नीति का प्रमुख लक्ष्य **नहीं** था ?
- (A) कठिन संघर्ष से प्राप्त भारत की संप्रभुता को बचाए रखना ।
- (B) भारत की क्षेत्रीय अखण्डता की रक्षा करना ।
- (C) भारत को एक परमाणु शक्ति बनाना ।
- (D) तीव्र आर्थिक विकास को बढ़ावा देना ।
12. 1950 के दशक के दौरान भारत और अमेरिका के संबंधों में काफ़ी असहजता थी क्योंकि :
- (A) भारत के सोवियत संघ के साथ संबंधों में सहभागिता बढ़ रही थी ।
- (B) सोवियत संघ ने हंगरी पर आक्रमण कर दिया ।
- (C) भारत नाटो (NATO) का एक सदस्य नहीं था ।
- (D) भारत गुट निरपेक्ष आंदोलन (NAM) का संस्थापक सदस्य था ।

खण्ड ख

13. संयुक्त राष्ट्र संघ जैसे अंतर्राष्ट्रीय संगठनों के कोई दो लाभ लिखिए । 2
14. राजनीति में 'दल-बदल' शब्द के अर्थ की व्याख्या कीजिए । 2
15. पाकिस्तान में स्थायी लोकतंत्र की स्थापना में असफलता के लिए उत्तरदायी किन्हीं दो कारकों की व्याख्या कीजिए । 2

10. Identify the *false* statement from the following related to Lal Bahadur Shastri.
- (A) He worked as the General Secretary of the Congress Party till 1966.
 - (B) He was in the Union Cabinet for a short period of three years.
 - (C) He resigned from the Union Cabinet taking responsibility for a Railway accident.
 - (D) He gave the famous slogan 'Jai Jawan Jai Kisan'.
11. Which one of the following was *not* a major objective of Jawaharlal Nehru's foreign policy ?
- (A) To preserve the hard-earned sovereignty of India.
 - (B) To protect the territorial integrity of India.
 - (C) To make India a nuclear power.
 - (D) To promote rapid economic development.
12. There was considerable unease in Indo-US relations during the 1950s because :
- (A) India had a growing partnership with the Soviet Union.
 - (B) The Soviet Union invaded Hungary.
 - (C) India was not a member of NATO.
 - (D) India was a founder member of NAM.

SECTION B

13. State any two advantages of international organisations like the UNO. 2
14. Explain the meaning of the term 'defection' in politics. 2
15. Explain any two factors that are responsible for Pakistan's failure in building a stable democracy. 2

16. प्रथम पंचवर्षीय योजना की कोई दो विशेषताएँ लिखिए । 2
17. बांग्लादेश के संविधान की किन्हीं दो विशेषताओं को उजागर कीजिए । 2
18. भारतीय राजनीति में वर्ष 1989 से 2014 के कालखण्ड की तुलना में 2014 के बाद आए किन्हीं दो परिवर्तनों को स्पष्ट कीजिए । 2

खण्ड ग

19. (क) मानवता की सुरक्षा का प्राथमिक लक्ष्य क्या है ? मानवता की सुरक्षा के संकीर्ण तथा व्यापक दृष्टिकोण में अंतर स्पष्ट कीजिए । 4

अथवा

- (ख) एशिया तथा अफ्रीका के नए स्वतंत्र देशों के समक्ष आई सुरक्षा चुनौतियों की व्याख्या कीजिए । 4

20. (क) यूरोपीय संघ के आर्थिक महत्त्व का आकलन कीजिए । 4

अथवा

- (ख) अधिराष्ट्रीय संगठन के तौर पर यूरोपीय संघ की भूमिका का उदाहरणों की सहायता से विश्लेषण कीजिए । 4

21. संयुक्त राष्ट्र सुरक्षा परिषद के नए स्थायी एवं अस्थायी सदस्यों के लिए 1997 में प्रस्तावित किए गए किन्हीं चार मानदण्डों का वर्णन कीजिए । 4

22. भारत में एक-दलीय प्रभुत्व की प्रकृति तथा अन्य कुछ देशों में एक-दलीय प्रभुत्व की प्रकृति में अंतर को किन्हीं दो उदाहरणों की सहायता से स्पष्ट कीजिए । 4

23. वैश्विक मामलों में जवाहरलाल नेहरू द्वारा भारत के लिए निभाई गई भूमिका का विश्लेषण कीजिए । 4

16. Describe any two features of the First Five Year Plan. 2
17. Highlight any two features of the Constitution of Bangladesh. 2
18. Explain any two changes that came in Indian politics after 2014 as compared to the period 1989 to 2014. 2

SECTION C

19. (a) What is the primary goal of human security ? Explain the difference between the narrow and broad concepts of human security. 4

OR

- (b) Explain the security challenges faced by the newly independent countries of Asia and Africa. 4
20. (a) Assess the economic importance of the European Union. 4

OR

- (b) Analyse the role of the European Union as a supranational organisation with the help of examples. 4
21. Describe any four criteria proposed in 1997 for new permanent and non-permanent members of the UN Security Council. 4
22. Distinguish between the nature of one-party dominance in India and the one-party dominance in some other countries with the help of any two examples. 4
23. Analyse the role played by Jawaharlal Nehru for India in world affairs. 4

खण्ड घ

24. निम्नलिखित अवतरण को ध्यानपूर्वक पढ़िए और नीचे दिए गए प्रश्नों के उत्तर दीजिए : $4 \times 1 = 4$

वैश्वीकरण एक बहुआयामी अवधारणा है। इसके अनेक आयाम हैं और उनके बीच ठीक-ठीक भेद किया जाना चाहिए। यह मान लेना गलत है कि वैश्वीकरण का केवल एक आयाम है। ठीक इसी तरह, यह मान लेना भी भूल होगी कि वैश्वीकरण एकदम सांस्कृतिक परिघटना है। वैश्वीकरण का प्रभाव बहुआयामी रहा है; यह कुछ समाजों को बाकियों की अपेक्षा अधिक प्रभावित करता है। ऐसे में ज़रूरी हो जाता है कि विशिष्ट संदर्भों पर पर्याप्त ध्यान दिए बिना, हम वैश्वीकरण के प्रभाव के बारे में सर्व-सामान्य निष्कर्ष निकालने से परहेज करें।

- (i) निम्नलिखित में से कौन-सा आयाम, वैश्वीकरण का आयाम *नहीं* है ?
- (A) राजनीतिक (B) नैतिक
(C) सांस्कृतिक (D) आर्थिक
- (ii) वैश्वीकरण से संबंधित निम्नलिखित कथनों में से कौन-सा सही *नहीं* है ?
- (A) प्रौद्योगिकीय तरक्की विचारों, पूँजी, वस्तुओं और लोगों के प्रवाह में पर्याप्त सहायक होती है।
(B) वैश्वीकरण विभिन्न देशों की संस्कृतियों को प्रभावित करता है।
(C) यह सम्पूर्ण विश्व को समान रूप से प्रभावित करता है।
(D) जब बड़ी आर्थिक घटनाएँ घटित होती हैं, तो उनका प्रभाव वैश्विक स्तर पर महसूस किया जाता है।
- (iii) एक अवधारणा के रूप में वैश्वीकरण निम्नलिखित में से किस एक के साथ संबंधित *नहीं* है ?
- (A) विचारों के प्रवाह से (B) पूँजी के प्रवाह से
(C) नदियों के प्रवाह से (D) लोगों के प्रवाह से
- (iv) वैश्वीकरण का प्रभाव प्रायः कैसा होता है ?
- (A) एकसमान (B) असमान
(C) भेदभावपूर्ण (D) क्षेत्रीय

SECTION D

24. Read the following passage carefully and answer the questions that follow :

4×1=4

Globalisation is a multi-dimensional concept. It has various manifestations, and these must be adequately distinguished. It is wrong to assume that globalisation has only one dimension, just as it would also be mistaken to assume that it is a purely cultural phenomenon. The impact of globalisation is multi-dimensional; it affects some societies more than others and it is important to avoid drawing general conclusions about the impact of globalisation without paying sufficient attention to specific contexts.

- (i) Which one of the following is **not** a dimension of globalisation ?
- (A) Political (B) Ethical
(C) Cultural (D) Economic
- (ii) Which one of the following statements related to globalisation is **not** correct ?
- (A) The technological advances do help a lot in the flow of ideas, capital, commodities and people.
(B) Globalisation affects the cultures of different countries.
(C) It affects all over the world equally.
(D) When major economic events take place, their impact is felt at the global level.
- (iii) Globalisation as a concept does **not** deal with which one of the following ?
- (A) Flow of ideas (B) Flow of capital
(C) Flow of rivers (D) Flow of people
- (iv) The impact of globalisation is vastly _____.
- (A) even (B) uneven
(C) discriminatory (D) regional

25. भारत के दिए गए राजनीतिक रेखा-मानचित्र (पृष्ठ 15 पर), में चार राज्यों को (A), (B), (C) तथा (D) के द्वारा अंकित किया गया है। नीचे दी गई जानकारी के आधार पर इन राज्यों की पहचान कीजिए और अपनी उत्तर-पुस्तिका में इनके सही नाम, प्रयोग की गई जानकारी की क्रम-संख्या तथा मानचित्र में दिया गया संबंधित अक्षर, नीचे दी गई तालिका के रूप में लिखिए :

4×1=4

प्रयोग की गई जानकारी की क्रम-संख्या	मानचित्र में दिया गया संबंधित अक्षर	राज्य का नाम
(i)		
(ii)		
(iii)		
(iv)		

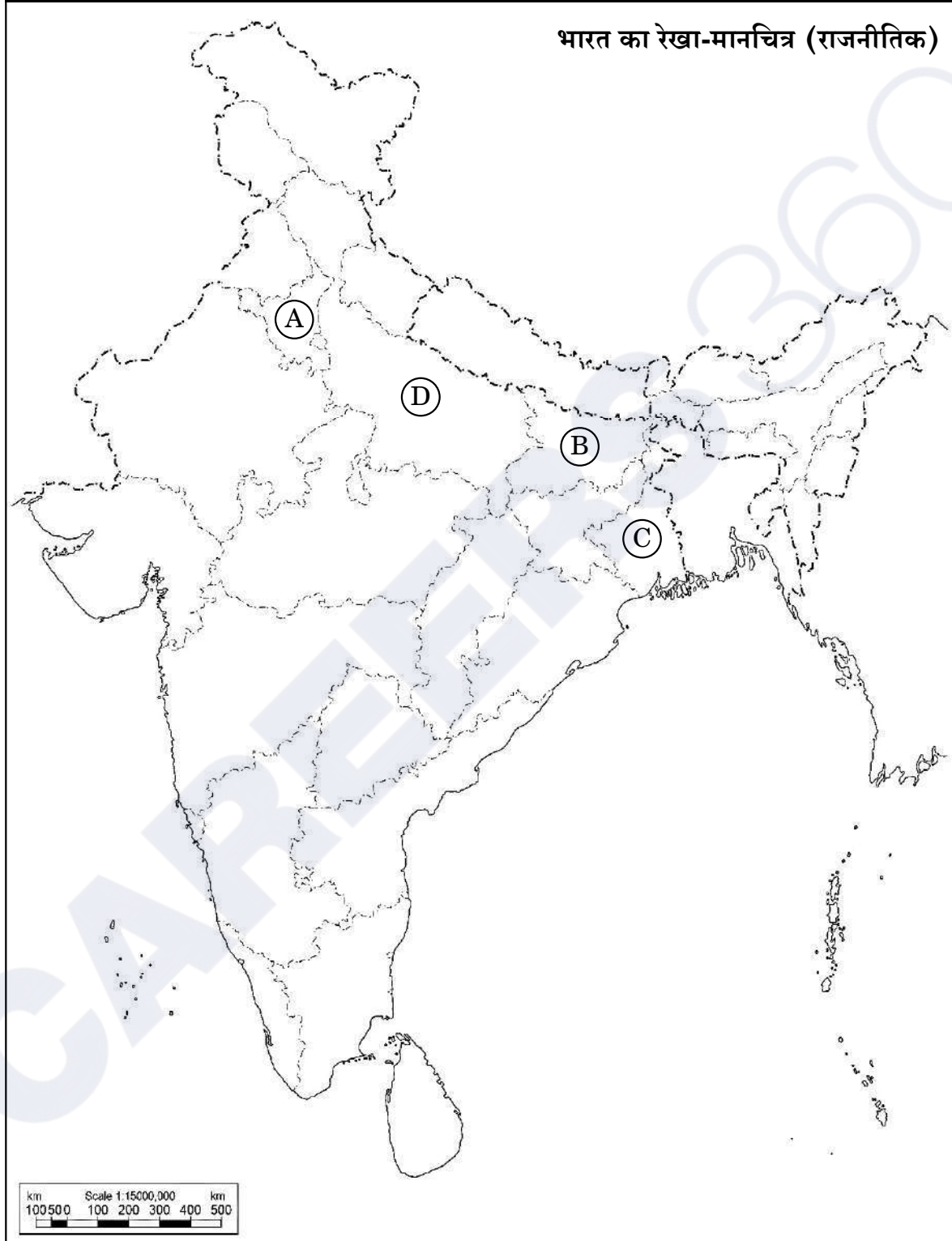
- (i) वह राज्य जिससे पूर्व प्रधानमंत्री चौधरी चरण सिंह संबंधित थे।
(ii) वह राज्य जिससे पूर्व उप-प्रधानमंत्री जगजीवन राम संबंधित थे।
(iii) वह राज्य जहाँ नक्सलवादी सबसे अधिक सक्रिय थे।
(iv) एक राज्य जहाँ से कांग्रेस पार्टी 1977 के लोक सभा चुनावों में एक भी सीट नहीं जीत पाई थी।

नोट : निम्नलिखित प्रश्न केवल दृष्टिबाधित परीक्षार्थियों के लिए प्रश्न संख्या 25 के स्थान पर हैं :

4×1=4

- (25.1) उस राज्य का नाम लिखिए जहाँ नक्सलवादी सबसे अधिक सक्रिय थे।
(25.2) उस राज्य का नाम लिखिए जिससे पूर्व प्रधानमंत्री चौधरी चरण सिंह का संबंध था।
(25.3) एक राज्य का नाम लिखिए जहाँ से कांग्रेस पार्टी 1977 के लोक सभा चुनावों में केवल एक सीट जीत पाई थी।
(25.4) उस राज्य का नाम लिखिए जहाँ मोरारजी देसाई ने 1974 – 75 में छात्र आन्दोलन का नेतृत्व किया था।

प्रश्न सं. 25 के लिए



25. In the given political outline map of **India** (on page 17), four States have been marked as (A), (B), (C) and (D). Identify these States on the basis of the information given below and write their correct names in your answer-book along with the respective serial number of the information used and the concerned alphabets given in the map as per the following format :

4×1=4

Serial number of the information used	Concerned alphabet given in the map	Name of the State
(i)		
(ii)		
(iii)		
(iv)		

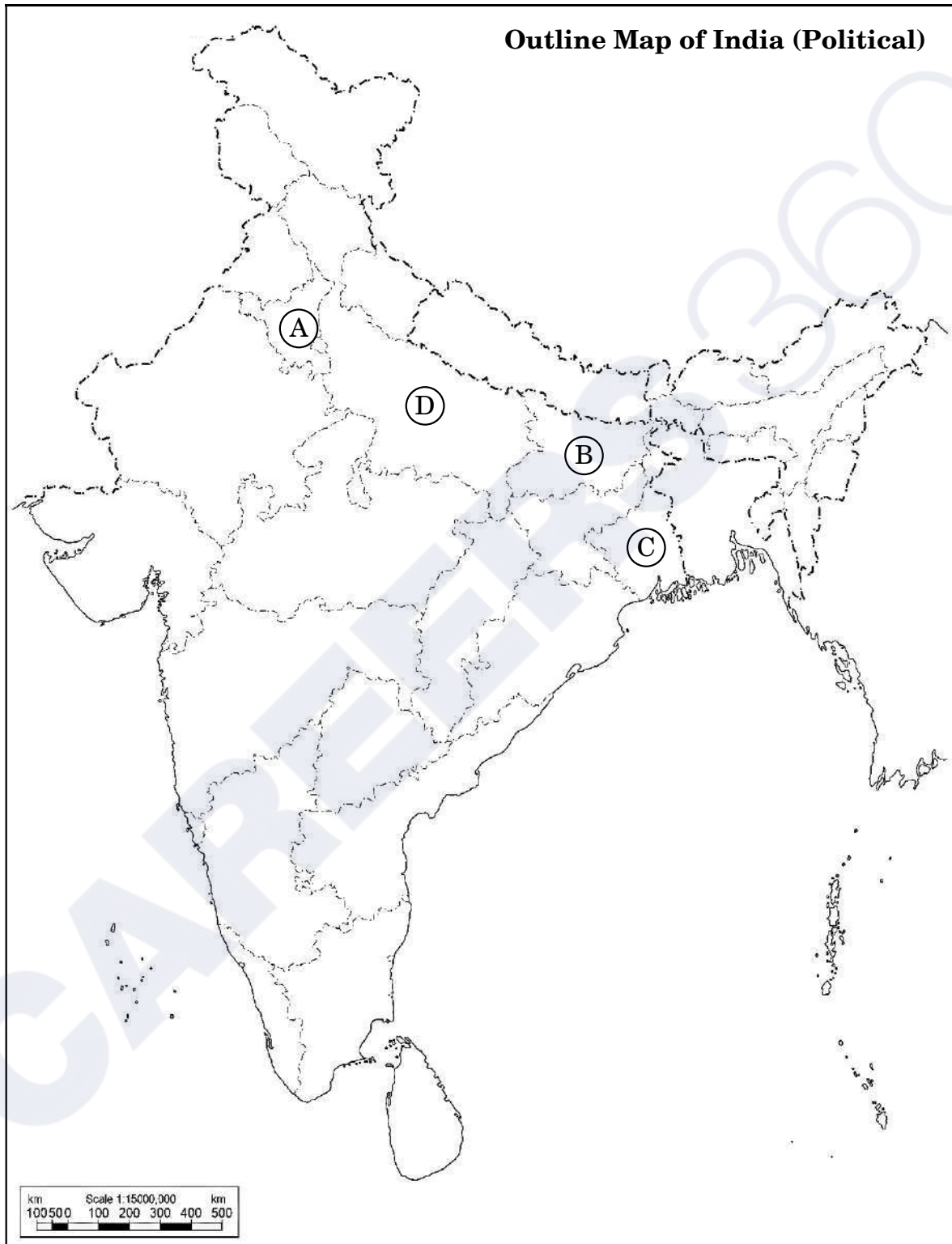
- (i) The State related to former Prime Minister Chaudhary Charan Singh.
- (ii) The State to which former Deputy Prime Minister Jagjivan Ram belonged.
- (iii) The State where the Naxalites were very active.
- (iv) A State where the Congress party could not win even a single seat in the Lok Sabha elections in 1977.

Note : The following questions are for the **Visually Impaired Candidates** only, in lieu of Q. No. 25 :

4×1=4


- (25.1) Name the State where the Naxalites were very active.
- (25.2) Name the State to which former Prime Minister Chaudhary Charan Singh belonged.
- (25.3) Name a State from where the Congress Party could win only one seat in the 1977 Lok Sabha elections.
- (25.4) Name the State where Morarji Desai led the Students' Movement in 1974 – 75.

For question no. 25



26. दिया गया कार्टून गठबंधन की सरकारों के युग से संबंधित है। कार्टून का अध्ययन कीजिए और निम्नलिखित प्रश्नों के उत्तर दीजिए :


1+1+2=4



- (i) 'रथ यात्रा' का प्लेकार्ड थामे हुए नेता को पहचान कर उसका नाम लिखिए।
- (ii) किस राजनीतिक पार्टी ने 'रथ यात्रा' का आयोजन किया था ?
- (iii) कार्टून में दिखाए गए किन्हीं दो प्रधानमंत्रियों को पहचान कर उनके नाम लिखिए जिन्होंने गठबंधन की सरकारों का नेतृत्व किया था।

26. The given cartoon is related to the era of coalition governments. Study the cartoon and answer the questions that follow :

1+1+2=4



- (i) Identify and name the leader who is holding the placard 'Rath Yatra'.
- (ii) Which political party organised the 'Rath Yatra' ?
- (iii) Identify and name any two Prime Ministers shown in the cartoon who led the coalition governments.

नोट: निम्नलिखित प्रश्न केवल दृष्टिबाधित परीक्षार्थियों के लिए प्रश्न संख्या 26 के स्थान पर हैं :

2+1+1=4

- (26.1) मण्डल आयोग की सिफ़ारिशों को लागू करने का फैसला किस गठबंधन सरकार ने किया था और क्यों ?
- (26.2) भारत के पहले गैर-काँग्रेसी प्रधानमंत्री का नाम लिखिए ।
- (26.3) उस प्रधानमंत्री का नाम लिखिए जिन्होंने मई 1996 से जून 1996 तक गठबंधन की सरकार का नेतृत्व किया ।

खण्ड ड

27. (क) 1979 से 1985 तक असम में बाहरी लोगों के विरुद्ध चले आन्दोलन के किन्हीं तीन कारणों का विश्लेषण कीजिए । 6

अथवा

- (ख) “क्षेत्रीय आकांक्षाएँ लोकतान्त्रिक राजनीति का अविभाज्य अंग हैं ।” कथन को न्यायसंगत ठहराइए । 6

28. (क) किन्हीं तीन अन्तर्राष्ट्रीय पर्यावरणीय आंदोलनों की उदाहरणों सहित व्याख्या कीजिए । 6

अथवा

- (ख) किन्हीं चार उदाहरणों की सहायता से ‘विश्व की साझी संपदा’ की व्याख्या कीजिए । इनका प्रबन्धन कठिन क्यों है ? 6

29. (क) 1947 में हुए भारत के विभाजन के किन्हीं चार मुख्य परिणामों का वर्णन कीजिए । 6

अथवा

- (ख) देसी रियासतों अथवा रजवाड़ों के भारत संघ में विलय के समय सामने आई किन्हीं तीन कठिनाइयों का वर्णन कीजिए । 6

Note : The following questions are for the **Visually Impaired Candidates** only, in lieu of Q. No. 26 :

2+1+1=4

- (26.1) Which coalition government decided to implement the recommendations of the Mandal Commission and why ?
- (26.2) Name the first Non-Congress Prime Minister of India.
- (26.3) Name the Prime Minister who headed a coalition government from May 1996 to June 1996.

SECTION E

27. (a) Analyse any three reasons for the movement against outsiders in Assam from 1979 to 1985. 6

OR

- (b) "Regional aspirations are very much a part of democratic politics." Justify the statement. 6

28. (a) Explain any three international environmental movements with examples. 6

OR

- (b) Explain 'Global Commons' with the help of any four examples. Why is it difficult to manage them ? 6

29. (a) Describe any four major consequences of the partition of India in 1947. 6

OR

- (b) Describe any three problems that came in the way of integrating the princely states into the Indian Union. 6

30. (क) “भारत और रूस के संबंधों का इतिहास आपसी विश्वास और साझे हितों का इतिहास है।” किन्हीं तीन उपयुक्त तर्कों द्वारा कथन का समर्थन कीजिए। 6

अथवा

- (ख) सोवियत संघ के विघटन के बाद शॉक थेरेपी के किन्हीं तीन प्रभावों का विश्लेषण कीजिए। 6

- 30.** (a) “India’s relations with Russia are embedded in a history of trust and common interests.” Support the statement with any three appropriate arguments. 6

OR

- (b) Analyse any three effects of shock therapy after the disintegration of the Soviet Union. 6

Series RPQS1/1

Set-3

प्रश्न-पत्र कोड
Q.P. Code

59/1/3

रोल नं.
Roll No.



परीक्षार्थी प्रश्न-पत्र कोड को उत्तर-पुस्तिका के मुख-पृष्ठ पर अवश्य लिखें।

Candidates must write the Q.P. Code on the title page of the answer-book.

राजनीति विज्ञान POLITICAL SCIENCE

निर्धारित समय : 3 घण्टे

अधिकतम अंक : 80

Time allowed : 3 hours

Maximum Marks : 80

नोट	NOTE
(I) कृपया जाँच कर लें कि इस प्रश्न-पत्र में मुद्रित पृष्ठ 23 हैं।	(I) Please check that this question paper contains 23 printed pages.
(II) कृपया जाँच कर लें कि इस प्रश्न-पत्र में 30 प्रश्न हैं।	(II) Please check that this question paper contains 30 questions.
(III) प्रश्न-पत्र में दाहिने हाथ की ओर दिए गए प्रश्न-पत्र कोड को परीक्षार्थी उत्तर-पुस्तिका के मुख-पृष्ठ पर लिखें।	(III) Q.P. Code given on the right hand side of the question paper should be written on the title page of the answer-book by the candidate.
(IV) कृपया प्रश्न का उत्तर लिखना शुरू करने से पहले, उत्तर-पुस्तिका में प्रश्न का क्रमांक अवश्य लिखें।	(IV) Please write down the serial number of the question in the answer-book before attempting it.
(V) इस प्रश्न-पत्र को पढ़ने के लिए 15 मिनट का समय दिया गया है। प्रश्न-पत्र का वितरण पूर्वाह्न में 10.15 बजे किया जाएगा। 10.15 बजे से 10.30 बजे तक छात्र केवल प्रश्न-पत्र को पढ़ेंगे और इस अवधि के दौरान वे उत्तर-पुस्तिका पर कोई उत्तर नहीं लिखेंगे।	(V) 15 minute time has been allotted to read this question paper. The question paper will be distributed at 10.15 a.m. From 10.15 a.m. to 10.30 a.m., the students will read the question paper only and will not write any answer on the answer-book during this period.

सामान्य निर्देश:

निम्नलिखित निर्देशों को बहुत सावधानी से पढ़िए और उनका पालन कीजिए :

- (i) इस प्रश्न-पत्र में 30 प्रश्न हैं। सभी प्रश्न अनिवार्य हैं।
- (ii) प्रश्न-पत्र पाँच खण्डों में विभाजित है – खण्ड क, ख, ग, घ एवं ङ।
- (iii) खण्ड क – प्रश्न संख्या 1 से 12 तक बहुविकल्पीय प्रकार के प्रश्न हैं। प्रत्येक प्रश्न 1 अंक का है।
- (iv) खण्ड ख – प्रश्न संख्या 13 से 18 तक लघु-उत्तरीय प्रकार के प्रश्न हैं। प्रत्येक प्रश्न 2 अंकों का है। प्रत्येक प्रश्न का उत्तर 50 से 60 शब्दों में लिखिए।
- (v) खण्ड ग – प्रश्न संख्या 19 से 23 तक दीर्घ-उत्तरीय प्रकार-I के प्रश्न हैं। प्रत्येक प्रश्न 4 अंकों का है। प्रत्येक प्रश्न का उत्तर 100 से 120 शब्दों में लिखिए।
- (vi) खण्ड घ – प्रश्न संख्या 24 से 26 अवतरण, कार्टून तथा मानचित्र-आधारित प्रश्न हैं। प्रत्येक प्रश्न का उत्तर यथानुसार लिखिए।
- (vii) खण्ड ङ – प्रश्न संख्या 27 से 30 तक दीर्घ-उत्तरीय प्रकार-II के प्रश्न हैं। प्रत्येक प्रश्न 6 अंकों का है। प्रत्येक प्रश्न का उत्तर 170 से 180 शब्दों में लिखिए।
- (viii) प्रश्न-पत्र में कोई समग्र विकल्प नहीं है। यद्यपि कुछ प्रश्नों में आंतरिक विकल्प का प्रावधान दिया गया है। इन प्रश्नों में से केवल एक ही प्रश्न का उत्तर लिखा जाए।
- (ix) इसके अतिरिक्त, ध्यान दें कि दृष्टिबाधित परीक्षार्थियों के लिए फोटो तथा मानचित्र आदि आधारित प्रश्नों के स्थान पर एक अन्य प्रश्न दिया गया है। इन प्रश्नों के उत्तर केवल दृष्टिबाधित परीक्षार्थी ही लिखें।

खण्ड क

प्रश्न संख्या 1 से 12 तक बहुविकल्पीय प्रकार के 1 अंक के प्रश्न हैं।

12×1=12

1. पाकिस्तान के निम्नलिखित शासकों को उनके शासन काल के कालक्रमानुसार व्यवस्थित कीजिए :

- (i) जनरल ज़िया-उल-हक
- (ii) बेनज़ीर भुट्टो
- (iii) जनरल मुशर्रफ
- (iv) जुल्फ़िकार अली भुट्टो

सही विकल्प चुनिए :

- (A) (iv), (i), (ii), (iii)
- (B) (i), (iii), (ii), (iv)
- (C) (iv), (iii), (ii), (i)
- (D) (i), (ii), (iii), (iv)

General Instructions :

Read the following instructions very carefully and follow them :

- (i) This question paper contains **30** questions. **All** questions are **compulsory**.
- (ii) Question paper is divided into **five** sections – **Sections A, B, C, D and E**.
- (iii) **Section A** – questions number **1 to 12** are Multiple Choice type questions. Each question carries **1** mark.
- (iv) **Section B** – questions number **13 to 18** are Short Answer type questions. Each question carries **2** marks. Write answer to each question in **50 to 60** words.
- (v) **Section C** – questions number **19 to 23** are Long Answer type-I questions. Each question carries **4** marks. Write answer to each question in **100 to 120** words.
- (vi) **Section D** – questions number **24 to 26** are Passage, Cartoon and Map-based questions. Answer each question accordingly.
- (vii) **Section E** – questions number **27 to 30** are Long Answer type-II questions. Each question carries **6** marks. Write answer to each question in **170 to 180** words.
- (viii) There is no overall choice in the question paper. However, an internal choice has been provided in few questions. Only **one** of the choices in such questions has to be attempted.
- (ix) In addition to this, note that a separate question has been provided for Visually Impaired candidates in lieu of questions having visual inputs, map etc. Such questions are to be attempted by Visually Impaired candidates only.

SECTION A

Questions number **1 to 12** are Multiple Choice type questions, carrying **1** mark each.

$12 \times 1 = 12$

1. Arrange the following rulers of Pakistan in the chronological order as per the period of their rule :

- (i) General Zia-ul-Haq
- (ii) Benazir Bhutto
- (iii) General Musharraf
- (iv) Zulfikar Ali Bhutto

Choose the correct option.

- (A) (iv), (i), (ii), (iii)
- (B) (i), (iii), (ii), (iv)
- (C) (iv), (iii), (ii), (i)
- (D) (i), (ii), (iii), (iv)

2. निम्नलिखित में से कौन-सा देश 'दक्षिण एशिया' में शामिल *नहीं* किया जाता है ?
 (A) बांग्लादेश (B) चीन
 (C) भूटान (D) मालदीव
3. निम्नलिखित में से कौन-सा देश आसियान का एक संस्थापक सदस्य *नहीं* है ?
 (A) सिंगापुर (B) थाईलैंड
 (C) म्यांमार (D) इण्डोनेशिया
4. 'आसियान शैली' मेल-मिलाप का एक ऐसा तरीका है जो _____ ।
 (A) औपचारिक है (B) टकरावपूर्ण है
 (C) सहयोगात्मक है (D) भड़काऊ है
5. निम्नलिखित में से कौन-सा एक जवाहरलाल नेहरू की विदेश नीति का प्रमुख लक्ष्य *नहीं* था ?
 (A) कठिन संघर्ष से प्राप्त भारत की संप्रभुता को बचाए रखना ।
 (B) भारत की क्षेत्रीय अखण्डता की रक्षा करना ।
 (C) भारत को एक परमाणु शक्ति बनाना ।
 (D) तीव्र आर्थिक विकास को बढ़ावा देना ।
6. 1950 के दशक के दौरान भारत और अमेरिका के संबंधों में काफ़ी असहजता थी क्योंकि :
 (A) भारत के सोवियत संघ के साथ संबंधों में सहभागिता बढ़ रही थी ।
 (B) सोवियत संघ ने हंगरी पर आक्रमण कर दिया ।
 (C) भारत नाटो (NATO) का एक सदस्य नहीं था ।
 (D) भारत गुट निरपेक्ष आंदोलन (NAM) का संस्थापक सदस्य था ।

प्रश्न संख्या 7 के लिए, दो कथन दिए गए हैं — जिनमें एक को अभिकथन (A) तथा दूसरे को कारण (R) द्वारा अंकित किया गया है । इन कथनों को ध्यान से पढ़िए और नीचे दिए गए विकल्पों (A), (B), (C) और (D) में से उत्तर के रूप में सही विकल्प चुनिए ।

7. अभिकथन (A) : गठबंधन में कई देश शामिल होते हैं जो सैन्य हमले को रोकने अथवा उससे रक्षा करने के लिए समवेत कदम उठाते हैं ।
 कारण (R) : किसी अन्य देश अथवा गठबंधन की तुलना में अपनी प्रभावी शक्ति को बढ़ाने के लिए देश गठबंधन बनाते हैं ।
 विकल्प :
 (A) अभिकथन (A) और कारण (R) दोनों सही हैं, और कारण (R), अभिकथन (A) की सही व्याख्या करता है ।
 (B) अभिकथन (A) और कारण (R) दोनों सही हैं, परन्तु कारण (R), अभिकथन (A) की सही व्याख्या *नहीं* करता है ।
 (C) अभिकथन (A) ग़लत है, परन्तु कारण (R) सही है ।
 (D) अभिकथन (A) सही है, परन्तु कारण (R) ग़लत है ।

2. Which one of the following countries is **not** included in 'South Asia' ?
(A) Bangladesh (B) China
(C) Bhutan (D) Maldives
3. Which one of the following countries is **not** a founder-member of ASEAN ?
(A) Singapore (B) Thailand
(C) Myanmar (D) Indonesia
4. The 'ASEAN Way' is a form of interaction that is _____.
(A) formal (B) confrontationalist
(C) cooperative (D) provocative
5. Which one of the following was **not** a major objective of Jawaharlal Nehru's foreign policy ?
(A) To preserve the hard-earned sovereignty of India.
(B) To protect the territorial integrity of India.
(C) To make India a nuclear power.
(D) To promote rapid economic development.
6. There was considerable unease in Indo-US relations during the 1950s because :
(A) India had a growing partnership with the Soviet Union.
(B) The Soviet Union invaded Hungary.
(C) India was not a member of NATO.
(D) India was a founder member of NAM.

For Question number 7, two statements are given — one labelled as Assertion (A) and the other labelled as Reason (R). Read these statements carefully and choose the correct option as the answer from the options (A), (B), (C) and (D) given below.

7. *Assertion (A) :* An alliance is a coalition of states that coordinate their actions to deter or defend against military attack.
Reason (R) : Countries form alliances to increase their effective power relative to another country or alliance.
- Options :
- (A) Both Assertion (A) and Reason (R) are true and Reason (R) is the correct explanation of the Assertion (A).
(B) Both Assertion (A) and Reason (R) are true, but Reason (R) is **not** the correct explanation of the Assertion (A).
(C) Assertion (A) is false, but Reason (R) is true.
(D) Assertion (A) is true, but Reason (R) is false.

8. निम्नलिखित में से कौन-सा सुरक्षा के लिए खतरे का नया स्रोत **नहीं** है ?
- (A) आतंकवाद (B) वायुयानों का अपहरण
(C) ड्रोन का प्रयोग (D) युद्ध

9. सूची-I का सूची-II से सही मिलान कीजिए और सही विकल्प चुनिए :

सूची-I

सूची-II

- | | |
|----------------------------------------|-----------------------------------------|
| 1. सत्रहवीं लोक सभा में स्पष्ट बहुमत | (i) राष्ट्रीय मोर्चा की सरकार |
| 2. मंडल आयोग की सिफारिशों को लागू करना | (ii) संयुक्त मोर्चा की सरकार |
| 3. प्रधानमंत्री एच.डी. देवेगौड़ा | (iii) संयुक्त प्रगतिशील गठबंधन की सरकार |
| 4. प्रधानमंत्री मनमोहन सिंह | (iv) राष्ट्रीय जनतांत्रिक गठबंधन |

विकल्प :

- (A) 1-(iv), 2-(i), 3-(ii), 4-(iii)
(B) 1-(i), 2-(ii), 3-(iii), 4-(iv)
(C) 1-(iv), 2-(iii), 3-(ii), 4-(i)
(D) 1-(i), 2-(iv), 3-(ii), 4-(iii)

10. भारत के निम्नलिखित प्रधानमंत्रियों को उनके कार्यकाल के आधार पर कालक्रमानुसार व्यवस्थित कीजिए :

- (i) एच.डी. देवेगौड़ा
(ii) चन्द्र शेखर
(iii) पी.वी नरसिम्हा राव
(iv) वी.पी. सिंह

सही विकल्प चुनिए ।

- (A) (i), (ii), (iv), (iii) (B) (iii), (iv), (ii), (i)
(C) (i), (ii), (iii), (iv) (D) (iv), (ii), (iii), (i)

8. Which one of the following is **not** considered as a new source of threat to security ?

- (A) Terrorism (B) Hijacking of planes
(C) Use of drones (D) War

9. Match List-I with the List-II and choose the correct option :

<i>List-I</i>	<i>List-II</i>
1. Clear majority in the 17 th Lok Sabha	(i) National Front Government
2. Implementation of the recommendations of the Mandal Commission	(ii) United Front Government
3. Prime Minister H.D. Deve Gowda	(iii) United Progressive Alliance Government
4. Prime Minister Manmohan Singh	(iv) National Democratic Alliance

Options :

- (A) 1-(iv), 2-(i), 3-(ii), 4-(iii)
(B) 1-(i), 2-(ii), 3-(iii), 4-(iv)
(C) 1-(iv), 2-(iii), 3-(ii), 4-(i)
(D) 1-(i), 2-(iv), 3-(ii), 4-(iii)

10. Arrange the following Prime Ministers of India in the chronological order as per their period of rule :

- (i) H.D. Deve Gowda
(ii) Chandra Shekhar
(iii) P.V. Narsimha Rao
(iv) V.P. Singh

Choose the correct option.

- (A) (i), (ii), (iv), (iii) (B) (iii), (iv), (ii), (i)
(C) (i), (ii), (iii), (iv) (D) (iv), (ii), (iii), (i)

11. भारत में चौथे आम चुनाव से पूर्व निम्नलिखित में से कौन-सी समस्याएँ थीं ?

- (i) मानसून की असफलता
- (ii) खाद्य संकट
- (iii) अधिक वर्षा
- (iv) विदेशी मुद्रा-भंडार में कमी

सही विकल्प चुनिए ।

- (A) (i), (ii) (B) (iii), (iv)
- (C) (i), (ii), (iv) (D) (ii), (iii), (iv)

12. लाल बहादुर शास्त्री से संबंधित, निम्नलिखित कथनों में से *गलत* कथन की पहचान कीजिए ।

- (A) वर्ष 1966 तक उन्होंने कांग्रेस पार्टी के महासचिव के रूप में कार्य किया ।
- (B) वे तीन वर्ष के अल्पकाल के लिए संघीय मंत्रिमंडल के सदस्य रहे ।
- (C) एक रेल दुर्घटना का दायित्व अपने पर लेते हुए, उन्होंने संघीय मंत्रिमंडल से त्यागपत्र दे दिया था ।
- (D) 'जय जवान जय किसान' उनका प्रसिद्ध नारा था ।

खण्ड ख

- 13. राजनीति में 'दल-बदल' शब्द के अर्थ की व्याख्या कीजिए । 2
- 14. संयुक्त राष्ट्र संघ जैसे अंतर्राष्ट्रीय संगठनों के कोई दो लाभ लिखिए । 2
- 15. पाकिस्तान में स्थायी लोकतंत्र की स्थापना में असफलता के लिए उत्तरदायी किन्हीं दो कारकों की व्याख्या कीजिए । 2

11. Which of the following problems did India face before the 4th general elections ?

- (i) Failure of monsoon
- (ii) Food crisis
- (iii) Heavy rainfall
- (iv) Depletion of foreign exchange reserves

Choose the correct option.

- (A) (i), (ii)
- (B) (iii), (iv)
- (C) (i), (ii), (iv)
- (D) (ii), (iii), (iv)

12. Identify the *false* statement from the following related to Lal Bahadur Shastri.

- (A) He worked as the General Secretary of the Congress Party till 1966.
- (B) He was in the Union Cabinet for a short period of three years.
- (C) He resigned from the Union Cabinet taking responsibility for a Railway accident.
- (D) He gave the famous slogan 'Jai Jawan Jai Kisan'.

SECTION B

- 13. Explain the meaning of the term 'defection' in politics. 2
- 14. State any two advantages of international organisations like the UNO. 2
- 15. Explain any two factors that are responsible for Pakistan's failure in building a stable democracy. 2

16. भारत के योजना आयोग की स्थापना किस वर्ष में और कैसे हुई ? 2
17. बांग्लादेश के संविधान की किन्हीं दो विशेषताओं को उजागर कीजिए । 2
18. अन्य पिछड़े वर्ग (ओबीसी) के राजनीतिक और सामाजिक दावों को मान लेने से भारत के राजनीतिक दलों पर हुए प्रभाव की व्याख्या कीजिए । 2

खण्ड ग

19. संयुक्त राष्ट्र सुरक्षा परिषद के नए स्थायी एवं अस्थायी सदस्यों के लिए 1997 में प्रस्तावित किए गए किन्हीं चार मानदण्डों का वर्णन कीजिए । 4
20. (क) मानवता की सुरक्षा का प्राथमिक लक्ष्य क्या है ? मानवता की सुरक्षा के संकीर्ण तथा व्यापक दृष्टिकोण में अंतर स्पष्ट कीजिए । 4

अथवा

- (ख) एशिया तथा अफ्रीका के नए स्वतंत्र देशों के समक्ष आई सुरक्षा चुनौतियों की व्याख्या कीजिए । 4
21. (क) यूरोपीय संघ के आर्थिक महत्त्व का आकलन कीजिए । 4

अथवा

- (ख) अधिराष्ट्रीय संगठन के तौर पर यूरोपीय संघ की भूमिका का उदाहरणों की सहायता से विश्लेषण कीजिए । 4
22. काँग्रेस पार्टी ने किस प्रकार 20वीं सदी में विभिन्न वर्गों और जातियों के एक सामाजिक गठबंधन का रूप ले लिया ? स्पष्ट कीजिए । 4
23. 1999 के कारगिल संघर्ष के लिए उत्तरदायी परिस्थितियों का विश्लेषण कीजिए । 4

16. In which year was the Planning Commission of India set up and how ? 2
17. Highlight any two features of the Constitution of Bangladesh. 2
18. Explain the impact of acceptance of the political and social claims of the Other Backward Classes (OBCs) on the political parties of India. 2

SECTION C

19. Describe any four criteria proposed in 1997 for new permanent and non-permanent members of the UN Security Council. 4

20. (a) What is the primary goal of human security ? Explain the difference between the narrow and broad concepts of human security. 4

OR

- (b) Explain the security challenges faced by the newly independent countries of Asia and Africa. 4

21. (a) Assess the economic importance of the European Union. 4

OR

- (b) Analyse the role of the European Union as a supranational organisation with the help of examples. 4

22. How was the Congress party transformed into a social coalition of classes and castes in the 20th century ? Explain. 4

23. Analyse the circumstances that led to the Kargil conflict in 1999. 4

खण्ड घ

24. निम्नलिखित अवतरण को ध्यानपूर्वक पढ़िए और नीचे दिए गए प्रश्नों के उत्तर दीजिए : $4 \times 1 = 4$

वैश्वीकरण एक बहुआयामी अवधारणा है। इसके अनेक आयाम हैं और उनके बीच ठीक-ठीक भेद किया जाना चाहिए। यह मान लेना गलत है कि वैश्वीकरण का केवल एक आयाम है। ठीक इसी तरह, यह मान लेना भी भूल होगी कि वैश्वीकरण एकदम सांस्कृतिक परिघटना है। वैश्वीकरण का प्रभाव बहुआयामी रहा है; यह कुछ समाजों को बाकियों की अपेक्षा अधिक प्रभावित करता है। ऐसे में ज़रूरी हो जाता है कि विशिष्ट संदर्भों पर पर्याप्त ध्यान दिए बिना, हम वैश्वीकरण के प्रभाव के बारे में सर्व-सामान्य निष्कर्ष निकालने से परहेज करें।

- (i) निम्नलिखित में से कौन-सा आयाम, वैश्वीकरण का आयाम *नहीं* है ?
- (A) राजनीतिक (B) नैतिक
(C) सांस्कृतिक (D) आर्थिक
- (ii) वैश्वीकरण से संबंधित निम्नलिखित कथनों में से कौन-सा सही *नहीं* है ?
- (A) प्रौद्योगिकीय तरक्की विचारों, पूँजी, वस्तुओं और लोगों के प्रवाह में पर्याप्त सहायक होती है।
(B) वैश्वीकरण विभिन्न देशों की संस्कृतियों को प्रभावित करता है।
(C) यह सम्पूर्ण विश्व को समान रूप से प्रभावित करता है।
(D) जब बड़ी आर्थिक घटनाएँ घटित होती हैं, तो उनका प्रभाव वैश्विक स्तर पर महसूस किया जाता है।
- (iii) एक अवधारणा के रूप में वैश्वीकरण निम्नलिखित में से किस एक के साथ संबंधित *नहीं* है ?
- (A) विचारों के प्रवाह से (B) पूँजी के प्रवाह से
(C) नदियों के प्रवाह से (D) लोगों के प्रवाह से
- (iv) वैश्वीकरण का प्रभाव प्रायः कैसा होता है ?
- (A) एकसमान (B) असमान
(C) भेदभावपूर्ण (D) क्षेत्रीय

SECTION D

24. Read the following passage carefully and answer the questions that follow :

4×1=4

Globalisation is a multi-dimensional concept. It has various manifestations, and these must be adequately distinguished. It is wrong to assume that globalisation has only one dimension, just as it would also be mistaken to assume that it is a purely cultural phenomenon. The impact of globalisation is multi-dimensional; it affects some societies more than others and it is important to avoid drawing general conclusions about the impact of globalisation without paying sufficient attention to specific contexts.

- (i) Which one of the following is **not** a dimension of globalisation ?
- (A) Political (B) Ethical
(C) Cultural (D) Economic
- (ii) Which one of the following statements related to globalisation is **not** correct ?
- (A) The technological advances do help a lot in the flow of ideas, capital, commodities and people.
(B) Globalisation affects the cultures of different countries.
(C) It affects all over the world equally.
(D) When major economic events take place, their impact is felt at the global level.
- (iii) Globalisation as a concept does **not** deal with which one of the following ?
- (A) Flow of ideas (B) Flow of capital
(C) Flow of rivers (D) Flow of people
- (iv) The impact of globalisation is vastly _____.
- (A) even (B) uneven
(C) discriminatory (D) regional

25. भारत के दिए गए राजनीतिक रेखा-मानचित्र (पृष्ठ 15 पर), में चार राज्यों को (A), (B), (C) तथा (D) के द्वारा अंकित किया गया है। नीचे दी गई जानकारी के आधार पर इन राज्यों की पहचान कीजिए और अपनी उत्तर-पुस्तिका में इनके सही नाम, प्रयोग की गई जानकारी की क्रम-संख्या तथा मानचित्र में दिया गया संबंधित अक्षर, नीचे दी गई तालिका के रूप में लिखिए :

4×1=4

प्रयोग की गई जानकारी की क्रम-संख्या	मानचित्र में दिया गया संबंधित अक्षर	राज्य का नाम
(i)		
(ii)		
(iii)		
(iv)		

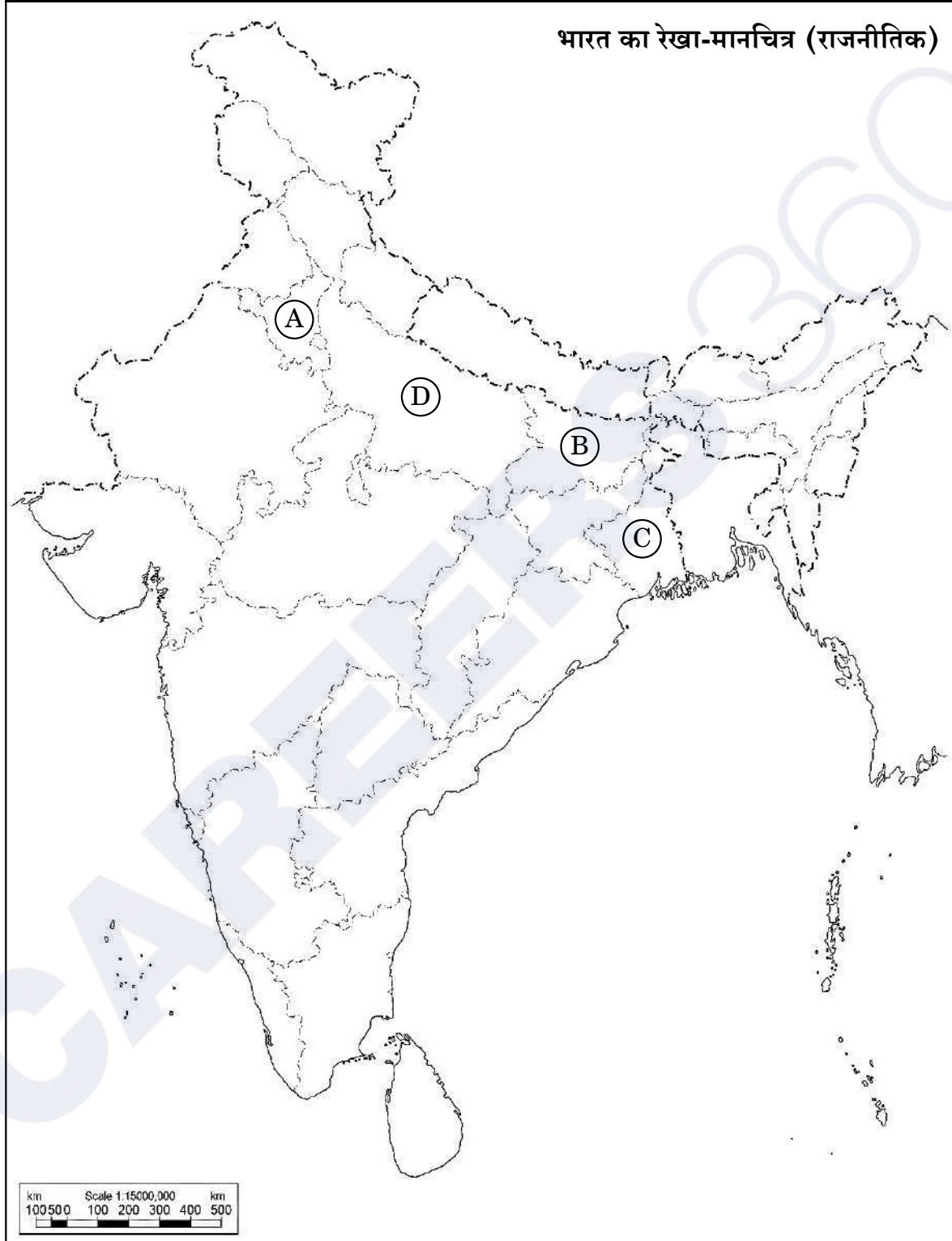
- (i) वह राज्य जिससे पूर्व प्रधानमंत्री चौधरी चरण सिंह संबंधित थे।
(ii) वह राज्य जिससे पूर्व उप-प्रधानमंत्री जगजीवन राम संबंधित थे।
(iii) वह राज्य जहाँ नक्सलवादी सबसे अधिक सक्रिय थे।
(iv) एक राज्य जहाँ से कांग्रेस पार्टी 1977 के लोक सभा चुनावों में एक भी सीट नहीं जीत पाई थी।

नोट : निम्नलिखित प्रश्न केवल दृष्टिबाधित परीक्षार्थियों के लिए प्रश्न संख्या 25 के स्थान पर हैं :

4×1=4

- (25.1) उस राज्य का नाम लिखिए जहाँ नक्सलवादी सबसे अधिक सक्रिय थे।
(25.2) उस राज्य का नाम लिखिए जिससे पूर्व प्रधानमंत्री चौधरी चरण सिंह का संबंध था।
(25.3) एक राज्य का नाम लिखिए जहाँ से कांग्रेस पार्टी 1977 के लोक सभा चुनावों में केवल एक सीट जीत पाई थी।
(25.4) उस राज्य का नाम लिखिए जहाँ मोरारजी देसाई ने 1974 – 75 में छात्र आन्दोलन का नेतृत्व किया था।

प्रश्न सं. 25 के लिए



25. In the given political outline map of **India** (on page 17), four States have been marked as (A), (B), (C) and (D). Identify these States on the basis of the information given below and write their correct names in your answer-book along with the respective serial number of the information used and the concerned alphabets given in the map as per the following format :

4×1=4

Serial number of the information used	Concerned alphabet given in the map	Name of the State
(i)		
(ii)		
(iii)		
(iv)		

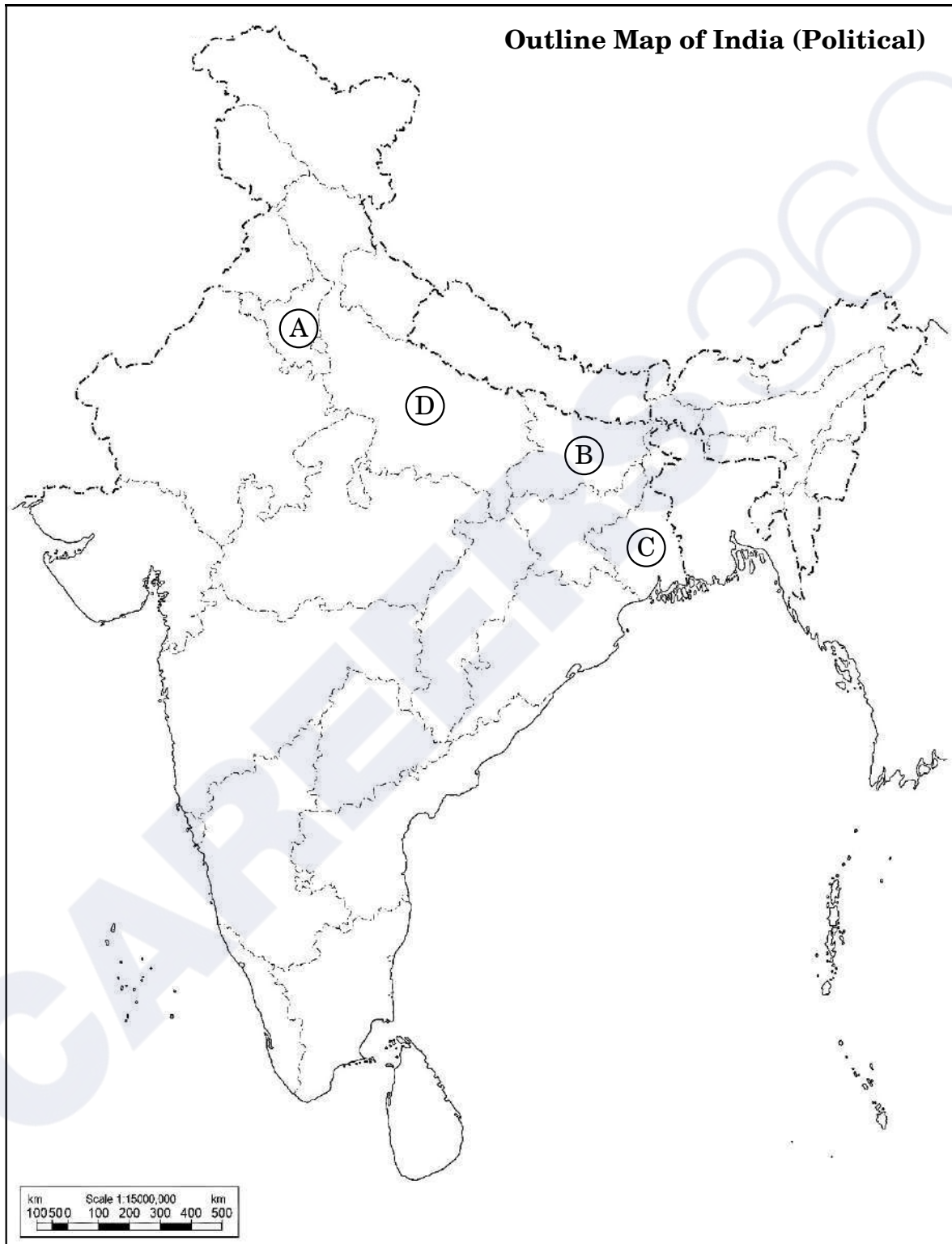
- (i) The State related to former Prime Minister Chaudhary Charan Singh.
- (ii) The State to which former Deputy Prime Minister Jagjivan Ram belonged.
- (iii) The State where the Naxalites were very active.
- (iv) A State where the Congress party could not win even a single seat in the Lok Sabha elections in 1977.

Note : The following questions are for the **Visually Impaired Candidates** only, in lieu of Q. No. 25 :

4×1=4


- (25.1) Name the State where the Naxalites were very active.
- (25.2) Name the State to which former Prime Minister Chaudhary Charan Singh belonged.
- (25.3) Name a State from where the Congress Party could win only one seat in the 1977 Lok Sabha elections.
- (25.4) Name the State where Morarji Desai led the Students' Movement in 1974 – 75.

For question no. 25



26. दिया गया कार्टून गठबंधन की सरकारों के युग से संबंधित है। कार्टून का अध्ययन कीजिए और निम्नलिखित प्रश्नों के उत्तर दीजिए :


1+1+2=4



- (i) 'रथ यात्रा' का प्लेकार्ड थामे हुए नेता को पहचान कर उसका नाम लिखिए।
- (ii) किस राजनीतिक पार्टी ने 'रथ यात्रा' का आयोजन किया था ?
- (iii) कार्टून में दिखाए गए किन्हीं दो प्रधानमंत्रियों को पहचान कर उनके नाम लिखिए जिन्होंने गठबंधन की सरकारों का नेतृत्व किया था।

26. The given cartoon is related to the era of coalition governments. Study the cartoon and answer the questions that follow :

1+1+2=4



- (i) Identify and name the leader who is holding the placard 'Rath Yatra'.
- (ii) Which political party organised the 'Rath Yatra' ?
- (iii) Identify and name any two Prime Ministers shown in the cartoon who led the coalition governments.

नोट: निम्नलिखित प्रश्न केवल दृष्टिबाधित परीक्षार्थियों के लिए प्रश्न संख्या 26 के स्थान पर हैं :

2+1+1=4

- (26.1) मण्डल आयोग की सिफ़ारिशों को लागू करने का फैसला किस गठबंधन सरकार ने किया था और क्यों ?
- (26.2) भारत के पहले गैर-काँग्रेसी प्रधानमंत्री का नाम लिखिए ।
- (26.3) उस प्रधानमंत्री का नाम लिखिए जिन्होंने मई 1996 से जून 1996 तक गठबंधन की सरकार का नेतृत्व किया ।

खण्ड ड

27. (क) 1979 से 1985 तक असम में बाहरी लोगों के विरुद्ध चले आन्दोलन के किन्हीं तीन कारणों का विश्लेषण कीजिए । 6

अथवा

- (ख) “क्षेत्रीय आकांक्षाएँ लोकतान्त्रिक राजनीति का अविभाज्य अंग हैं ।” कथन को न्यायसंगत ठहराइए । 6

28. (क) वैश्विक स्तर पर मूलवासियों की किन्हीं तीन सामान्य माँगों को स्पष्ट कीजिए । 6

अथवा

- (ख) पर्यावरण की रक्षा के लिए भारत सरकार द्वारा उठाए गए किन्हीं चार कदमों की व्याख्या कीजिए । 6

29. (क) 1948 में हैदराबाद के भारत में विलय के लिए उत्तरदायी परिस्थितियों तथा संबंधित घटनाओं का वर्णन कीजिए । 6

अथवा

- (ख) ब्रिटिश इन्डिया के विभाजन के किन्हीं चार परिणामों का वर्णन कीजिए । 6

Note : The following questions are for the **Visually Impaired Candidates** only, in lieu of Q. No. 26 :

2+1+1=4

- (26.1) Which coalition government decided to implement the recommendations of the Mandal Commission and why ?
- (26.2) Name the first Non-Congress Prime Minister of India.
- (26.3) Name the Prime Minister who headed a coalition government from May 1996 to June 1996.

SECTION E

27. (a) Analyse any three reasons for the movement against outsiders in Assam from 1979 to 1985. 6

OR

- (b) "Regional aspirations are very much a part of democratic politics." Justify the statement. 6

28. (a) Explain any three common demands of the indigenous people at the global level. 6

OR

- (b) Explain any four steps taken by the Government of India to protect the environment. 6

29. (a) Describe the circumstances and events that led to Hyderabad's accession to India in 1948. 6

OR

- (b) Describe any four consequences of the partition of British India. 6

30. (क) “भारत और रूस के संबंधों का इतिहास आपसी विश्वास और साझे हितों का इतिहास है।” किन्हीं तीन उपयुक्त तर्कों द्वारा कथन का समर्थन कीजिए। 6

अथवा

- (ख) सोवियत संघ के विघटन के बाद शॉक थेरेपी के किन्हीं तीन प्रभावों का विश्लेषण कीजिए। 6

- 30.** (a) “India’s relations with Russia are embedded in a history of trust and common interests.” Support the statement with any three appropriate arguments. 6

OR

- (b) Analyse any three effects of shock therapy after the disintegration of the Soviet Union. 6

Series P2QRS/2

Set-1

प्रश्न-पत्र कोड
Q.P. Code

59/2/1

रोल नं.
Roll No.



परीक्षार्थी प्रश्न-पत्र कोड को उत्तर-पुस्तिका के मुख-पृष्ठ पर अवश्य लिखें।
Candidates must write the Q.P. Code on the title page of the answer-book.

राजनीति विज्ञान
POLITICAL SCIENCE

निर्धारित समय : 3 घण्टे

अधिकतम अंक : 80

Time allowed : 3 hours

Maximum Marks : 80

नोट	NOTE
(I) कृपया जाँच कर लें कि इस प्रश्न-पत्र में मुद्रित पृष्ठ 23 हैं।	(I) Please check that this question paper contains 23 printed pages.
(II) कृपया जाँच कर लें कि इस प्रश्न-पत्र में 30 प्रश्न हैं।	(II) Please check that this question paper contains 30 questions.
(III) प्रश्न-पत्र में दाहिने हाथ की ओर दिए गए प्रश्न-पत्र कोड को परीक्षार्थी उत्तर-पुस्तिका के मुख-पृष्ठ पर लिखें।	(III) Q.P. Code given on the right hand side of the question paper should be written on the title page of the answer-book by the candidate.
(IV) कृपया प्रश्न का उत्तर लिखना शुरू करने से पहले, उत्तर-पुस्तिका में प्रश्न का क्रमांक अवश्य लिखें।	(IV) Please write down the serial number of the question in the answer-book before attempting it.
(V) इस प्रश्न-पत्र को पढ़ने के लिए 15 मिनट का समय दिया गया है। प्रश्न-पत्र का वितरण पूर्वाह्न में 10.15 बजे किया जाएगा। 10.15 बजे से 10.30 बजे तक छात्र केवल प्रश्न-पत्र को पढ़ेंगे और इस अवधि के दौरान वे उत्तर-पुस्तिका पर कोई उत्तर नहीं लिखेंगे।	(V) 15 minute time has been allotted to read this question paper. The question paper will be distributed at 10.15 a.m. From 10.15 a.m. to 10.30 a.m., the students will read the question paper only and will not write any answer on the answer-book during this period.

सामान्य निर्देश :

निम्नलिखित निर्देशों को बहुत सावधानी से पढ़िए और उनका पालन कीजिए :

- (i) इस प्रश्न-पत्र में 30 प्रश्न हैं। सभी प्रश्न अनिवार्य हैं।
- (ii) प्रश्न-पत्र पाँच खण्डों में विभाजित है – खण्ड क, ख, ग, घ एवं ङ।
- (iii) खण्ड क – प्रश्न संख्या 1 से 12 तक बहुविकल्पीय प्रकार के प्रश्न हैं। प्रत्येक प्रश्न 1 अंक का है।
- (iv) खण्ड ख – प्रश्न संख्या 13 से 18 तक लघु-उत्तरीय प्रकार के प्रश्न हैं। प्रत्येक प्रश्न 2 अंकों का है। प्रत्येक प्रश्न का उत्तर 50 से 60 शब्दों में लिखिए।
- (v) खण्ड ग – प्रश्न संख्या 19 से 23 तक दीर्घ-उत्तरीय प्रकार-I के प्रश्न हैं। प्रत्येक प्रश्न 4 अंकों का है। प्रत्येक प्रश्न का उत्तर 100 से 120 शब्दों में लिखिए।
- (vi) खण्ड घ – प्रश्न संख्या 24 से 26 अवतरण, कार्टून तथा मानचित्र-आधारित प्रश्न हैं। प्रत्येक प्रश्न का उत्तर यथानुसार लिखिए।
- (vii) खण्ड ङ – प्रश्न संख्या 27 से 30 तक दीर्घ-उत्तरीय प्रकार-II के प्रश्न हैं। प्रत्येक प्रश्न 6 अंकों का है। प्रत्येक प्रश्न का उत्तर 170 से 180 शब्दों में लिखिए।
- (viii) प्रश्न-पत्र में कोई समग्र विकल्प नहीं है। यद्यपि कुछ प्रश्नों में आंतरिक विकल्प का प्रावधान दिया गया है। इन प्रश्नों में से केवल एक ही प्रश्न का उत्तर लिखा जाए।
- (ix) इसके अतिरिक्त, ध्यान दें कि दृष्टिबाधित परीक्षार्थियों के लिए फोटो तथा मानचित्र आदि आधारित प्रश्नों के स्थान पर एक अन्य प्रश्न दिया गया है। इन प्रश्नों के उत्तर केवल दृष्टिबाधित परीक्षार्थी ही लिखें।

खण्ड क

प्रश्न संख्या 1 से 12 तक बहुविकल्पीय प्रकार के 1 अंक के प्रश्न हैं।

12×1=12

1. निम्नलिखित घटनाओं को कालक्रमानुसार व्यवस्थित कीजिए :

- (i) अफगानिस्तान पर सोवियत संघ का आक्रमण
- (ii) रूस की क्रांति
- (iii) ताजिकिस्तान में गृहयुद्ध का अन्त
- (iv) बर्लिन की दीवार का गिरना

सही विकल्प चुनिए :

- (A) (i), (ii), (iii), (iv)
- (B) (ii), (i), (iv), (iii)
- (C) (iii), (iv), (i), (ii)
- (D) (iv), (iii), (ii), (i)

General Instructions :

Read the following instructions very carefully and follow them :

- (i) This question paper contains **30** questions. **All** questions are **compulsory**.
- (ii) Question paper is divided into **five** sections – **Sections A, B, C, D and E**.
- (iii) **Section A** – questions number **1 to 12** are Multiple Choice type questions. Each question carries **1** mark.
- (iv) **Section B** – questions number **13 to 18** are Short Answer type questions. Each question carries **2** marks. Write answer to each question in **50 to 60** words.
- (v) **Section C** – questions number **19 to 23** are Long Answer type-I questions. Each question carries **4** marks. Write answer to each question in **100 to 120** words.
- (vi) **Section D** – questions number **24 to 26** are Passage, Cartoon and Map-based questions. Answer each question accordingly.
- (vii) **Section E** – questions number **27 to 30** are Long Answer type-II questions. Each question carries **6** marks. Write answer to each question in **170 to 180** words.
- (viii) There is no overall choice in the question paper. However, an internal choice has been provided in few questions. Only **one** of the choices in such questions has to be attempted.
- (ix) In addition to this, note that a separate question has been provided for Visually Impaired candidates in lieu of questions having visual inputs, map etc. Such questions are to be attempted by Visually Impaired candidates only.

SECTION A

Questions number **1 to 12** are Multiple Choice type questions, carrying **1** mark each.

$12 \times 1 = 12$

1. Arrange the following events in the chronological order :

- (i) Soviet invasion of Afghanistan
- (ii) Russian Revolution
- (iii) End of Civil War in Tajikistan
- (iv) Fall of the Berlin Wall

Choose the correct option :

- (A) (i), (ii), (iii), (iv)
- (B) (ii), (i), (iv), (iii)
- (C) (iii), (iv), (i), (ii)
- (D) (iv), (iii), (ii), (i)

2. रूस के कौन-से दो गणराज्यों में हिंसक अलगाववादी आन्दोलन हुए थे ?
- (A) चेचन्या और अज़रबैजान
(B) क्रोएशिया और उज़्बेकिस्तान
(C) चेचन्या और दागिस्तान
(D) दागिस्तान और क्रोएशिया
3. 'शक्ति सन्तुलन' में देशों से निम्नलिखित में से किसकी अपेक्षा होती है ?
- (A) विशेष प्रकार के हथियार त्यागने की
(B) हथियारों को प्राप्त और विकसित करने की प्रक्रिया को नियमित करने की
(C) सैन्य हमले से रक्षा के लिए अपनी कार्रवाइयों में सहयोग बनाने की
(D) अन्य देशों के साथ अनुकूल संतुलन बनाने की
4. वे लोग क्या कहलाते हैं जो अपने घर-बार छोड़ के भाग जाते हैं लेकिन राष्ट्रीय सीमाओं के भीतर ही रहते हैं ?
- (A) भगोड़े
(B) आप्रवासी
(C) आन्तरिक रूप से विस्थापित जन
(D) मूल निवासी
5. सूची I का सूची II से मिलान कीजिए और सही विकल्प का चयन कीजिए :

<i>सूची I</i>	<i>सूची II</i>
1. क्योटो प्रोटोकॉल	(i) विकासात्मक नियमाचार की सूची
2. बिजली अधिनियम 2003, भारत	(ii) पारिस्थितिक तंत्र के प्रति उत्तरदायित्व के साथ आर्थिक वृद्धि
3. एजेन्डा 21	(iii) ग्रीनहाउस गैसों के उत्सर्जन को कम करने का उद्देश्य
4. सतत पोषणीय विकास	(iv) नवीकरणीय ऊर्जा के प्रयोग को बढ़ावा देना

विकल्प :

- (A) 1-(iii), 2-(iv), 3-(i), 4-(ii)
(B) 1-(ii), 2-(iii), 3-(iv), 4-(i)
(C) 1-(iv), 2-(i), 3-(iii), 4-(ii)
(D) 1-(i), 2-(ii), 3-(iii), 4-(iv)

2. Which two republics of Russia have had violent secessionist movements ?

- (A) Chechnya and Azerbaijan
- (B) Croatia and Uzbekistan
- (C) Chechnya and Dagestan
- (D) Dagestan and Croatia

3. 'Balance of power' requires countries to _____.

- (A) give up certain kinds of weapons
- (B) regulate acquisition and development of weapons
- (C) coordinate their actions to defend against military attack
- (D) maintain a favourable balance with other countries

4. People who flee their homes but remain within national borders are called _____.

- (A) fugitives
- (B) migrants
- (C) internally displaced people
- (D) indigenous people

5. Match List I with List II and choose the correct option :

<i>List I</i>		<i>List II</i>
1. Kyoto Protocol	(i)	List of developmental practices
2. Electricity Act of 2003, India	(ii)	Economic growth with ecological responsibility
3. Agenda 21	(iii)	Aims to cut greenhouse gas emissions
4. Sustainable Development	(iv)	Encourages use of renewable energy

Options :

- (A) 1-(iii), 2-(iv), 3-(i), 4-(ii)
- (B) 1-(ii), 2-(iii), 3-(iv), 4-(i)
- (C) 1-(iv), 2-(i), 3-(iii), 4-(ii)
- (D) 1-(i), 2-(ii), 3-(iii), 4-(iv)

प्रश्न संख्या 6 के लिए, दो कथन दिए गए हैं — जिनमें एक को अभिकथन (A) तथा दूसरे को कारण (R) द्वारा अंकित किया गया है। इन कथनों को ध्यान से पढ़िए और नीचे दिए गए विकल्पों (A), (B), (C) और (D) में से उत्तर के रूप में सही विकल्प चुनिए।

6. अभिकथन (A) : वैश्विक रणनीति में तेल आज भी सबसे महत्वपूर्ण संसाधन बना हुआ है।
कारण (R) : तेल के साथ जुड़ी अपार सम्पदा से राजनीतिक संघर्ष पैदा होते हैं।
- (A) अभिकथन (A) और कारण (R) दोनों सही हैं और कारण (R), अभिकथन (A) की सही व्याख्या करता है।
(B) अभिकथन (A) और कारण (R) दोनों सही हैं, परन्तु कारण (R), अभिकथन (A) की सही व्याख्या नहीं करता है।
(C) अभिकथन (A) सही है, परन्तु कारण (R) ग़लत है।
(D) अभिकथन (A) ग़लत है, परन्तु कारण (R) सही है।
7. 1952 में कौन-सी राजनीतिक पार्टी जम्मू और कश्मीर में सत्ता में आई थी ?
- (A) भारतीय राष्ट्रीय काँग्रेस
(B) कश्मीर राष्ट्रीय काँग्रेस
(C) कम्युनिस्ट पार्टी ऑफ़ इन्डिया
(D) नेशनल कॉन्फ़ेरेंस
8. भारत का निर्वाचन आयोग किस वर्ष गठित किया गया था ?
- (A) 1949 (B) 1950
(C) 1951 (D) 1952
9. दलाई लामा ने निम्नलिखित में से किस देश में राजनीतिक शरण प्राप्त की थी ?
- (A) नेपाल
(B) भूटान
(C) भारत
(D) म्याँमार

For Question number 6, two statements are given — one labelled as Assertion (A) and the other labelled as Reason (R). Read these statements carefully and choose the correct option as the answer from the options (A), (B), (C) and (D) given below.

6. Assertion (A) : Oil continues to be the most important resource in global strategy.

Reason (R) : The immense wealth associated with oil generates political struggles.

- (A) Both Assertion (A) and Reason (R) are true and Reason (R) is the correct explanation of the Assertion (A).
- (B) Both Assertion (A) and Reason (R) are true, but Reason (R) is *not* the correct explanation of the Assertion (A).
- (C) Assertion (A) is true, but Reason (R) is false.
- (D) Assertion (A) is false, but Reason (R) is true.

7. Which political party came to power in Jammu and Kashmir in 1952 ?

- (A) Indian National Congress
- (B) Kashmir National Congress
- (C) Communist Party of India
- (D) National Conference

8. In which year was the Election Commission of India set up ?

- (A) 1949
- (B) 1950
- (C) 1951
- (D) 1952

9. In which of the following countries did Dalai Lama obtain political asylum ?

- (A) Nepal
- (B) Bhutan
- (C) India
- (D) Myanmar

प्रश्न संख्या 10 के लिए, दो कथन दिए गए हैं — जिनमें एक को अभिकथन (A) तथा दूसरे को कारण (R) द्वारा अंकित किया गया है। इन कथनों को ध्यान से पढ़िए और नीचे दिए गए विकल्पों (A), (B), (C) और (D) में से उत्तर के रूप में सही विकल्प चुनिए।

10. अभिकथन (A) : 1979 में, ऑल असम स्टूडेंट्स यूनियन (AASU) ने बाहरी लोगों के विरुद्ध आन्दोलन का नेतृत्व किया।

कारण (R) : आन्दोलन अवैध आप्रवासियों तथा ग़लत मतदाता सूचियों के विरुद्ध था।

- (A) अभिकथन (A) और कारण (R) दोनों सही हैं और कारण (R), अभिकथन (A) की सही व्याख्या करता है।
- (B) अभिकथन (A) और कारण (R) दोनों सही हैं, परन्तु कारण (R), अभिकथन (A) की सही व्याख्या नहीं करता है।
- (C) अभिकथन (A) सही है, परन्तु कारण (R) ग़लत है।
- (D) अभिकथन (A) ग़लत है, परन्तु कारण (R) सही है।

11. गुटनिरपेक्ष आन्दोलन (NAM) का प्रथम शिखर सम्मेलन कहाँ आयोजित किया गया था ?

- (A) काहिरा
- (B) बेलग्रेड
- (C) भारत
- (D) इण्डोनेशिया

12. 'खासी हिल्स' (पहाड़ियाँ) भारत के किस राज्य में स्थित हैं ?

- (A) मेघालय
- (B) मणिपुर
- (C) मिज़ोरम
- (D) त्रिपुरा

For Question number 10, two statements are given — one labelled as Assertion (A) and the other labelled as Reason (R). Read these statements carefully and choose the correct option as the answer from the options (A), (B), (C) and (D) given below.

10. Assertion (A) : In 1979, the All Assam Students' Union (AASU) led an anti-foreigner movement.

Reason (R) : The movement was against illegal migrations and against faulty voters' lists.

- (A) Both Assertion (A) and Reason (R) are true and Reason (R) is the correct explanation of the Assertion (A).
- (B) Both Assertion (A) and Reason (R) are true, but Reason (R) is **not** the correct explanation of the Assertion (A).
- (C) Assertion (A) is true, but Reason (R) is false.
- (D) Assertion (A) is false, but Reason (R) is true.

11. The first summit of NAM was held in :

- (A) Cairo
- (B) Belgrade
- (C) India
- (D) Indonesia

12. In which state of India are the 'Khasi Hills' located ?

- (A) Meghalaya
- (B) Manipur
- (C) Mizoram
- (D) Tripura

खण्ड ख

13. पूर्वी पाकिस्तान में 1970 के चुनावों में, किस राजनीतिक पार्टी ने किस नेता के नेतृत्व में सभी सीटों पर विजय प्राप्त की थी ? 2
14. वैश्विक सुरक्षा का अर्थ स्पष्ट कीजिए । 2
15. प्रथम पंचवर्षीय योजना की कोई दो विशेषताएँ उजागर कीजिए । 2
16. 1952 में भारत में हुआ आम चुनाव क्यों पूरे विश्व में लोकतन्त्र के इतिहास के लिए मील का एक पत्थर बन गया ? स्पष्ट कीजिए । 2
17. अन्तर्राष्ट्रीय मानदंडों और संस्थाओं को मजबूती प्रदान करने से किस प्रकार भारत ने अपने सुरक्षा हितों की रक्षा की है ? स्पष्ट कीजिए । 2
18. केन्द्र में गठबंधन सरकार के किन्हीं दो लाभों का आकलन कीजिए । 2

खण्ड ग

19. 1971 में बांग्लादेश युद्ध की ओर ले जाने वाली परिस्थितियों का वर्णन कीजिए । 4
20. सोवियत संघ के विघटन के कोई दो कारण स्पष्ट कीजिए । 4
21. (क) पाकिस्तान के साथ भारत के सम्बन्धों को बेहतर बनाने के लिए कोई दो उपाय सुझाइए । 4

अथवा

- (ख) भारत और चीन के बीच सम्बन्ध सुधारने के लिए कोई दो उपाय सुझाइए । 4
22. (क) वैश्वीकरण के लिए उत्तरदायी किन्हीं दो कारणों को उजागर कीजिए । 4

अथवा

- (ख) वैश्वीकरण के कोई दो सकारात्मक प्रभाव उजागर कीजिए । 4
23. “क्षेत्रीय आकांक्षाओं से निपटने का सबसे अच्छा तरीका दमन के बजाय लोकतान्त्रिक ढंग से बातचीत करना है ।” उदाहरण देकर कथन की पुष्टि कीजिए । 4

SECTION B

13. Which political party won all the seats in the 1970 elections in East Pakistan and under whose leadership? 2
14. Explain the meaning of Global Security. 2
15. Highlight any two features of the First Five Year Plan. 2
16. Why did India's general elections of 1952 become a landmark in the history of democracy all over the world? Explain. 2
17. How has the strengthening of international norms and international institutions helped India protect its security interests? Explain. 2
18. Assess any two advantages of coalition governments at the Centre. 2

SECTION C

19. Describe the circumstances that led to the Bangladesh War in 1971. 4
20. Explain any two reasons for the disintegration of the Soviet Union. 4
21. (a) Suggest any two measures to improve India's relations with Pakistan. 4

OR

- (b) Suggest any two measures to improve Indo-China relations. 4
22. (a) Highlight any two causes of globalisation. 4

OR

- (b) Highlight any two positive effects of globalisation. 4
23. "The best way to respond to regional aspirations is through democratic negotiations rather than through suppression." Justify the statement with examples. 4

खण्ड घ

24. निम्नलिखित अवतरण को ध्यानपूर्वक पढ़िए और नीचे दिए गए प्रश्नों के उत्तर दीजिए : $4 \times 1 = 4$

भारत का विचार है कि ग्रीनहाउस गैसों के उत्सर्जन को कम करने की मुख्य जिम्मेवारी विकसित देशों की है, जिन्होंने एक लम्बे समय तक बहुत ज्यादा उत्सर्जन किया है। भारत ने ध्यान दिलाया कि विकासशील देशों में ग्रीनहाउस गैसों की प्रति व्यक्ति उत्सर्जन दर विकसित देशों की तुलना में नाममात्र है।

- (i) भारत ने क्योटो प्रोटोकॉल पर हस्ताक्षर तथा इसका अनुमोदन कब किया था ?
- (A) अगस्त 2000 (B) अगस्त 2001
(C) अगस्त 2002 (D) अगस्त 2003
- (ii) कुछ विकासशील देशों को क्योटो प्रोटोकॉल की बाध्यताओं से छूट क्यों दी गई थी ?
- (A) वे पारिस्थितिकी तंत्र के अनुकूल प्रौद्योगिकी विकसित करने में अग्रणी थे।
(B) वे कुछ अन्य देशों को स्वच्छ प्रौद्योगिकियों को अपनाने में सहायता कर रहे थे।
(C) उन्होंने पहले से ही नवीकरणीय ऊर्जा को प्रयोग करने के कार्यक्रम शुरू कर दिए थे।
(D) ग्रीनहाउस गैसों के उत्सर्जन में उनका योगदान नाममात्र का था।
- (iii) 'पृथ्वी सम्मेलन' कहाँ आयोजित हुआ था ?
- (A) पेरिस (B) रियो डी जनेरियो
(C) क्योटो (D) माँट्रियल
- (iv) निम्नलिखित में से कौन-सा एक 'वैश्विक सम्पदा' का उदाहरण है ?
- (A) ग्रेट बैरियर रीफ (B) महाखड्ड (ग्रैंड कैनियन)
(C) बाहरी अंतरिक्ष (D) सहारा मरुस्थल

SECTION D

24. Read the following passage carefully and answer the questions that follow :

4×1=4

India is of the view that the major responsibility of curbing emission of greenhouse gases rests with the developed countries, which have accumulated emissions over a long period of time. India pointed out that the per capita emission rates of the developing countries are a tiny fraction of those in the developed world.

- (i) India signed and ratified the Kyoto Protocol in :
- (A) August 2000 (B) August 2001
(C) August 2002 (D) August 2003
- (ii) Why were some developing countries exempted from the requirements of the Kyoto Protocol ?
- (A) They were pioneers in developing eco-friendly technology.
(B) They were assisting some other countries to adopt clean technologies.
(C) They had already launched renewable energy programmes.
(D) Their contribution to emission of greenhouse gases was insignificant.
- (iii) Where was the 'Earth Summit' held ?
- (A) Paris (B) Rio de Janeiro
(C) Kyoto (D) Montreal
- (iv) Which one of the following is an example of 'Global Commons' ?
- (A) The Great Barrier Reef (B) The Grand Canyon
(C) The Outer Space (D) The Sahara Desert

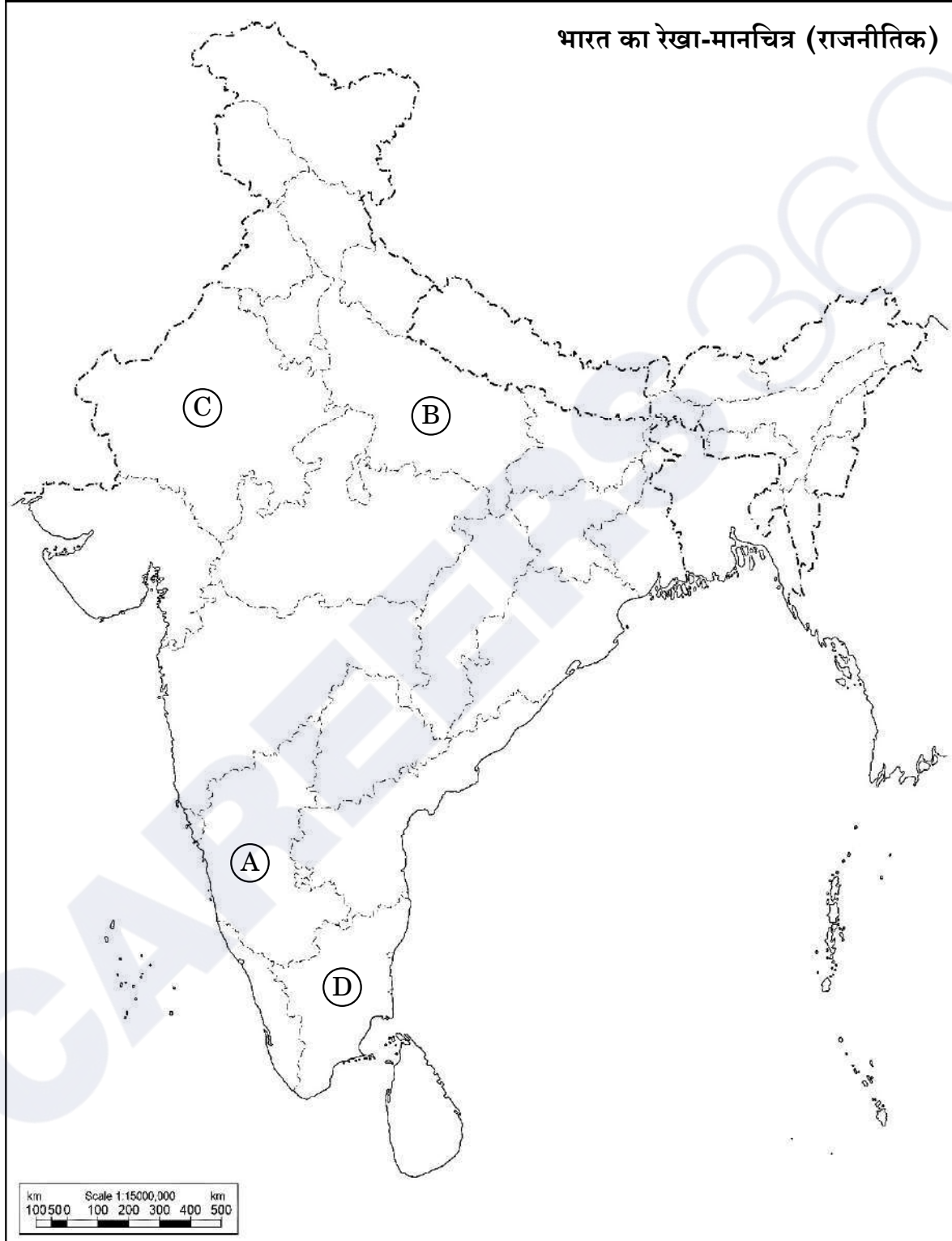
25. भारत के दिए गए राजनीतिक रेखा-मानचित्र (पृष्ठ 15 पर) में चार राज्यों को (A), (B), (C) तथा (D) के द्वारा अंकित किया गया है। नीचे दी गई जानकारी के आधार पर इन राज्यों की पहचान कीजिए और अपनी उत्तर-पुस्तिका में इनके सही नाम, प्रयोग की गई जानकारी की क्रम-संख्या तथा मानचित्र में दिया गया संबंधित अक्षर, नीचे दी गई तालिका के रूप में लिखिए :

4×1=4

प्रयोग की गई जानकारी की क्रम-संख्या	मानचित्र में दिया गया संबंधित अक्षर	राज्य का नाम
(i)		
(ii)		
(iii)		
(iv)		

- (i) वह राज्य जिससे पूर्व प्रधानमंत्री लाल बहादुर शास्त्री का सम्बन्ध था।
- (ii) वह राज्य जिससे पूर्व मुख्यमंत्री एस. निजलिंगप्पा का सम्बन्ध था।
- (iii) वह राज्य जहाँ 1967 में डीएमके (द्रविड़ मुन्नेत्र कषगम) पार्टी सत्ता में आई।
- (iv) वह राज्य जहाँ 1967 के विधानसभा चुनावों में काँग्रेस पार्टी को बहुमत नहीं मिली थी।

प्रश्न सं. 25 के लिए



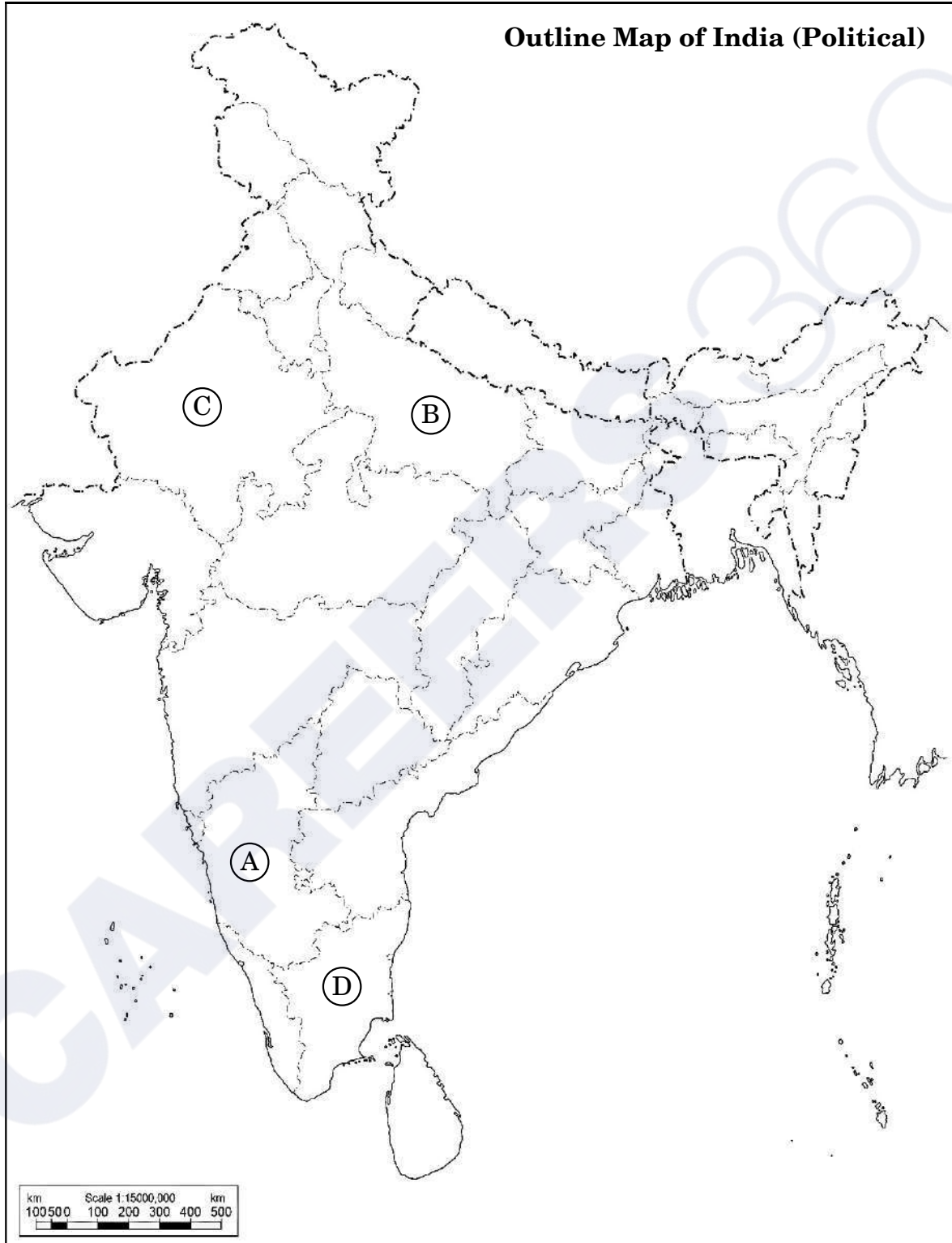
25. In the given political outline map of **India** (on page 17), four States have been marked as (A), (B), (C) and (D). Identify these States on the basis of the information given below and write their correct names in your answer-book along with the respective serial number of the information used and the concerned alphabets given in the map as per the following format :

4×1=4

Serial number of the information used	Concerned alphabet given in the map	Name of the State
(i)		
(ii)		
(iii)		
(iv)		

- (i) The State to which the former Prime Minister Lal Bahadur Shastri belonged.
- (ii) The State to which former Chief Minister S. Nijalingappa belonged.
- (iii) The State where DMK (Dravida Munnetra Kazhagam) came to power in 1967.
- (iv) The State where the Congress Party did not get majority in 1967 Assembly elections.

For question no. 25



नोट: निम्नलिखित प्रश्न केवल दृष्टिबाधित परीक्षार्थियों के लिए प्रश्न संख्या 25 के स्थान पर हैं: 4×1=4

- (25.1) उस राज्य का नाम लिखिए जिससे पूर्व मुख्यमंत्री कर्पूरी ठाकुर का सम्बन्ध था।
- (25.2) उस राज्य का नाम लिखिए जिससे राजनीतिक पार्टी डीएमके (द्रविड़ मुन्नेत्र कषगम) का सम्बन्ध है।
- (25.3) उस राज्य का नाम लिखिए जिससे पूर्व प्रधानमंत्री लाल बहादुर शास्त्री सम्बन्ध रखते थे।
- (25.4) उस राज्य का नाम लिखिए जिससे भारत के पूर्व राष्ट्रपति वी.वी. गिरि का सम्बन्ध था।

26. नीचे दिए गए कार्टून का अध्ययन कीजिए और निम्नलिखित प्रश्नों के उत्तर दीजिए: 1+1+2=4



यह झूठ है! हर कोई जानता है
कि हम सभी ने दो वर्ष तक
मेहनत की और इसे गिराया!


- (i) जनता पार्टी की सरकार को गिराने वाले नेता को पहचानकर उसका नाम लिखिए।
- (ii) कार्टून में दिखाए गए जनता पार्टी की सरकार के प्रधानमंत्री को पहचान कर उसका नाम लिखिए।
- (iii) 1980 में जनता पार्टी की हार के कोई दो कारण उजागर कीजिए।

Note : The following questions are for the **Visually Impaired Candidates** only, in lieu of Q. No. 25 :

4×1=4

- (25.1) Name the state to which the former Chief Minister Karpoori Thakur belonged.
- (25.2) Name the state to which the political party DMK (Dravida Munnetra Kazhagam) belongs.
- (25.3) Name the state to which the former Prime Minister Lal Bahadur Shastri belonged.
- (25.4) Name the state to which the former President of India V.V. Giri belonged.

26. Study the cartoon given below and answer the questions that follow : 1+1+2=4



- (i) Identify and name the leader who toppled the Janata Government.
- (ii) Identify and name the Prime Minister of the Janata Party Government shown in the cartoon.
- (iii) Highlight any two reasons for the defeat of the Janata Party in 1980.

नोट: निम्नलिखित प्रश्न केवल दृष्टिबाधित परीक्षार्थियों के लिए प्रश्न संख्या 26 के स्थान पर हैं :

2+1+1=4

- (26.1) 1977 के आम चुनावों में काँग्रेस पार्टी की हार के किन्हीं दो कारणों को उजागर कीजिए ।
- (26.2) 1977 के आम चुनावों में विजय प्राप्त करने वाली राजनीतिक पार्टी का नाम लिखिए ।
- (26.3) 1980 के चुनावों में काँग्रेस पार्टी की जीत से पहले भारत के प्रधानमंत्री का नाम लिखिए ।

खण्ड ड

27. (क) यूरोपीय संघ को एक प्रभावशाली क्षेत्रीय संगठन बनाने वाले किन्हीं चार कारणों का विश्लेषण कीजिए । 6
- अथवा
- (ख) “आसियान बहुत तेज़ी से एक महत्वपूर्ण क्षेत्रीय संगठन के रूप में बढ़ रहा है ।” कथन को न्यायोचित ठहराइए । 6
28. (क) उन आधारों की व्याख्या कीजिए जिनके बल पर भारत संयुक्त राष्ट्र सुरक्षा परिषद् में स्थायी सदस्यता प्राप्त करने का दावा करता है । 6
- अथवा
- (ख) संयुक्त राष्ट्र महासभा द्वारा 1992 में संयुक्त राष्ट्र सुरक्षा परिषद् में सुधार लाने के लिए स्वीकृत प्रस्ताव में दर्ज तीन मुख्य शिकायतों की व्याख्या कीजिए । 6
29. (क) भारतीय संघ में सभी देसी रियासतों का विलय करवाने में भारत के सामने आई कठिनाइयों का वर्णन कीजिए । 6
- अथवा
- (ख) हैदराबाद रिसायत को भारतीय संघ में विलय की ओर ले जाने वाले घटनाक्रम का वर्णन कीजिए । 6

Note : *The following questions are for the Visually Impaired Candidates only, in lieu of Q. No. 26 :*

2+1+1=4

(26.1) Highlight any two reasons for the defeat of the Congress Party in the general elections of 1977.

(26.2) Name the political party that won the general elections in 1977.

(26.3) Name the Prime Minister of India before the Congress Party won the elections in 1980.

SECTION E

27. (a) Analyse any four factors that make the European Union an influential regional organisation. 6

OR

(b) "ASEAN is rapidly growing into a very important regional organisation." Justify the statement. 6

28. (a) Explain the grounds on the basis of which India seeks to become a permanent member of the UN Security Council. 6

OR

(b) Explain the three main complaints reflected in the resolution adopted by the UN General Assembly in 1992 to reform the UN Security Council. 6

29. (a) Describe the difficulties faced by India to get the merger of all the Princely States into the Union of India. 6

OR

(b) Describe the events that led to the accession of Hyderabad into the Union of India. 6

30. (क) भारतीय राजनीति में 1989 और उसके बाद घटी किन्हीं चार मुख्य घटनाओं का वर्णन कीजिए ।

6

अथवा

(ख) भारत की अधिकांश राजनीतिक पार्टियों में उभरी आम सहमति के किन्हीं तीन मुद्दों का वर्णन कीजिए ।

6

30. (a) Describe any four major developments in Indian politics since 1989. 6

OR

(b) Describe any three issues on which a general consensus has emerged among most of the political parties of India. 6

Series P2QRS/2

Set-2

प्रश्न-पत्र कोड
Q.P. Code

59/2/2

रोल नं.
Roll No.



परीक्षार्थी प्रश्न-पत्र कोड को उत्तर-पुस्तिका के मुख-पृष्ठ पर अवश्य लिखें।

Candidates must write the Q.P. Code on the title page of the answer-book.

राजनीति विज्ञान POLITICAL SCIENCE

निर्धारित समय : 3 घण्टे

अधिकतम अंक : 80

Time allowed : 3 hours

Maximum Marks : 80

नोट	NOTE
(I) कृपया जाँच कर लें कि इस प्रश्न-पत्र में मुद्रित पृष्ठ 23 हैं।	(I) Please check that this question paper contains 23 printed pages.
(II) कृपया जाँच कर लें कि इस प्रश्न-पत्र में 30 प्रश्न हैं।	(II) Please check that this question paper contains 30 questions.
(III) प्रश्न-पत्र में दाहिने हाथ की ओर दिए गए प्रश्न-पत्र कोड को परीक्षार्थी उत्तर-पुस्तिका के मुख-पृष्ठ पर लिखें।	(III) Q.P. Code given on the right hand side of the question paper should be written on the title page of the answer-book by the candidate.
(IV) कृपया प्रश्न का उत्तर लिखना शुरू करने से पहले, उत्तर-पुस्तिका में प्रश्न का क्रमांक अवश्य लिखें।	(IV) Please write down the serial number of the question in the answer-book before attempting it.
(V) इस प्रश्न-पत्र को पढ़ने के लिए 15 मिनट का समय दिया गया है। प्रश्न-पत्र का वितरण पूर्वाह्न में 10.15 बजे किया जाएगा। 10.15 बजे से 10.30 बजे तक छात्र केवल प्रश्न-पत्र को पढ़ेंगे और इस अवधि के दौरान वे उत्तर-पुस्तिका पर कोई उत्तर नहीं लिखेंगे।	(V) 15 minute time has been allotted to read this question paper. The question paper will be distributed at 10.15 a.m. From 10.15 a.m. to 10.30 a.m., the students will read the question paper only and will not write any answer on the answer-book during this period.

सामान्य निर्देश :

निम्नलिखित निर्देशों को बहुत सावधानी से पढ़िए और उनका पालन कीजिए :

- (i) इस प्रश्न-पत्र में 30 प्रश्न हैं। सभी प्रश्न अनिवार्य हैं।
- (ii) प्रश्न-पत्र पाँच खण्डों में विभाजित है – खण्ड क, ख, ग, घ एवं ङ।
- (iii) खण्ड क – प्रश्न संख्या 1 से 12 तक बहुविकल्पीय प्रकार के प्रश्न हैं। प्रत्येक प्रश्न 1 अंक का है।
- (iv) खण्ड ख – प्रश्न संख्या 13 से 18 तक लघु-उत्तरीय प्रकार के प्रश्न हैं। प्रत्येक प्रश्न 2 अंकों का है। प्रत्येक प्रश्न का उत्तर 50 से 60 शब्दों में लिखिए।
- (v) खण्ड ग – प्रश्न संख्या 19 से 23 तक दीर्घ-उत्तरीय प्रकार-I के प्रश्न हैं। प्रत्येक प्रश्न 4 अंकों का है। प्रत्येक प्रश्न का उत्तर 100 से 120 शब्दों में लिखिए।
- (vi) खण्ड घ – प्रश्न संख्या 24 से 26 अवतरण, कार्टून तथा मानचित्र-आधारित प्रश्न हैं। प्रत्येक प्रश्न का उत्तर यथानुसार लिखिए।
- (vii) खण्ड ङ – प्रश्न संख्या 27 से 30 तक दीर्घ-उत्तरीय प्रकार-II के प्रश्न हैं। प्रत्येक प्रश्न 6 अंकों का है। प्रत्येक प्रश्न का उत्तर 170 से 180 शब्दों में लिखिए।
- (viii) प्रश्न-पत्र में कोई समग्र विकल्प नहीं है। यद्यपि कुछ प्रश्नों में आंतरिक विकल्प का प्रावधान दिया गया है। इन प्रश्नों में से केवल एक ही प्रश्न का उत्तर लिखा जाए।
- (ix) इसके अतिरिक्त, ध्यान दें कि दृष्टिबाधित परीक्षार्थियों के लिए फोटो तथा मानचित्र आदि आधारित प्रश्नों के स्थान पर एक अन्य प्रश्न दिया गया है। इन प्रश्नों के उत्तर केवल दृष्टिबाधित परीक्षार्थी ही लिखें।

खण्ड क

प्रश्न संख्या 1 से 12 तक बहुविकल्पीय प्रकार के 1 अंक के प्रश्न हैं।

12×1=12

1. 'खासी हिल्स' (पहाड़ियाँ) भारत के किस राज्य में स्थित हैं ?
 - (A) मेघालय
 - (B) मणिपुर
 - (C) मिज़ोरम
 - (D) त्रिपुरा
2. गुटनिरपेक्ष आन्दोलन (NAM) का प्रथम शिखर सम्मेलन कहाँ आयोजित किया गया था ?
 - (A) काहिरा
 - (B) बेलग्रेड
 - (C) भारत
 - (D) इण्डोनेशिया

General Instructions :

Read the following instructions very carefully and follow them :

- (i) This question paper contains **30** questions. **All** questions are **compulsory**.
- (ii) Question paper is divided into **five** sections – **Sections A, B, C, D and E**.
- (iii) **Section A** – questions number **1 to 12** are Multiple Choice type questions. Each question carries **1** mark.
- (iv) **Section B** – questions number **13 to 18** are Short Answer type questions. Each question carries **2** marks. Write answer to each question in **50 to 60** words.
- (v) **Section C** – questions number **19 to 23** are Long Answer type-I questions. Each question carries **4** marks. Write answer to each question in **100 to 120** words.
- (vi) **Section D** – questions number **24 to 26** are Passage, Cartoon and Map-based questions. Answer each question accordingly.
- (vii) **Section E** – questions number **27 to 30** are Long Answer type-II questions. Each question carries **6** marks. Write answer to each question in **170 to 180** words.
- (viii) There is no overall choice in the question paper. However, an internal choice has been provided in few questions. Only **one** of the choices in such questions has to be attempted.
- (ix) In addition to this, note that a separate question has been provided for Visually Impaired candidates in lieu of questions having visual inputs, map etc. Such questions are to be attempted by Visually Impaired candidates only.

SECTION A

Questions number **1 to 12** are Multiple Choice type questions, carrying **1** mark each.

$12 \times 1 = 12$

1. In which state of India are the 'Khasi Hills' located ?
 - (A) Meghalaya
 - (B) Manipur
 - (C) Mizoram
 - (D) Tripura
2. The first summit of NAM was held in :
 - (A) Cairo
 - (B) Belgrade
 - (C) India
 - (D) Indonesia

प्रश्न संख्या 3 के लिए, दो कथन दिए गए हैं — जिनमें एक को अभिकथन (A) तथा दूसरे को कारण (R) द्वारा अंकित किया गया है। इन कथनों को ध्यान से पढ़िए और नीचे दिए गए विकल्पों (A), (B), (C) और (D) में से उत्तर के रूप में सही विकल्प चुनिए।

3. अभिकथन (A) : 1979 में, ऑल असम स्टूडेंट्स यूनियन (AASU) ने बाहरी लोगों के विरुद्ध आन्दोलन का नेतृत्व किया।

कारण (R) : आन्दोलन अवैध आप्रवासियों तथा ग़लत मतदाता सूचियों के विरुद्ध था।

- (A) अभिकथन (A) और कारण (R) दोनों सही हैं और कारण (R), अभिकथन (A) की सही व्याख्या करता है।
- (B) अभिकथन (A) और कारण (R) दोनों सही हैं, परन्तु कारण (R), अभिकथन (A) की सही व्याख्या नहीं करता है।
- (C) अभिकथन (A) सही है, परन्तु कारण (R) ग़लत है।
- (D) अभिकथन (A) ग़लत है, परन्तु कारण (R) सही है।

4. दलाई लामा ने निम्नलिखित में से किस देश में राजनीतिक शरण प्राप्त की थी ?

- (A) नेपाल
- (B) भूटान
- (C) भारत
- (D) म्याँमार

5. भारत का निर्वाचन आयोग किस वर्ष गठित किया गया था ?

- (A) 1949 (B) 1950
- (C) 1951 (D) 1952

6. 1952 में कौन-सी राजनीतिक पार्टी जम्मू और कश्मीर में सत्ता में आई थी ?

- (A) भारतीय राष्ट्रीय काँग्रेस
- (B) कश्मीर राष्ट्रीय काँग्रेस
- (C) कम्युनिस्ट पार्टी ऑफ़ इन्डिया
- (D) नेशनल कॉन्फेरेंस

For Question number 3, two statements are given — one labelled as Assertion (A) and the other labelled as Reason (R). Read these statements carefully and choose the correct option as the answer from the options (A), (B), (C) and (D) given below.

3. Assertion (A) : In 1979, the All Assam Students' Union (AASU) led an anti-foreigner movement.

Reason (R) : The movement was against illegal migrations and against faulty voters' lists.

(A) Both Assertion (A) and Reason (R) are true and Reason (R) is the correct explanation of the Assertion (A).

(B) Both Assertion (A) and Reason (R) are true, but Reason (R) is **not** the correct explanation of the Assertion (A).

(C) Assertion (A) is true, but Reason (R) is false.

(D) Assertion (A) is false, but Reason (R) is true.

4. In which of the following countries did Dalai Lama obtain political asylum ?

(A) Nepal

(B) Bhutan

(C) India

(D) Myanmar

5. In which year was the Election Commission of India set up ?

(A) 1949

(B) 1950

(C) 1951

(D) 1952

6. Which political party came to power in Jammu and Kashmir in 1952 ?

(A) Indian National Congress

(B) Kashmir National Congress

(C) Communist Party of India

(D) National Conference

प्रश्न संख्या 7 के लिए, दो कथन दिए गए हैं — जिनमें एक को अभिकथन (A) तथा दूसरे को कारण (R) द्वारा अंकित किया गया है। इन कथनों को ध्यान से पढ़िए और नीचे दिए गए विकल्पों (A), (B), (C) और (D) में से उत्तर के रूप में सही विकल्प चुनिए।

7. अभिकथन (A) : वैश्विक रणनीति में तेल आज भी सबसे महत्वपूर्ण संसाधन बना हुआ है।
कारण (R) : तेल के साथ जुड़ी अपार सम्पदा से राजनीतिक संघर्ष पैदा होते हैं।
- (A) अभिकथन (A) और कारण (R) दोनों सही हैं और कारण (R), अभिकथन (A) की सही व्याख्या करता है।
(B) अभिकथन (A) और कारण (R) दोनों सही हैं, परन्तु कारण (R), अभिकथन (A) की सही व्याख्या नहीं करता है।
(C) अभिकथन (A) सही है, परन्तु कारण (R) ग़लत है।
(D) अभिकथन (A) ग़लत है, परन्तु कारण (R) सही है।

8. सूची I का सूची II से मिलान कीजिए और सही विकल्प का चयन कीजिए :

सूची I	सूची II
1. क्योटो प्रोटोकॉल	(i) विकासात्मक नियमाचार की सूची
2. बिजली अधिनियम 2003, भारत	(ii) पारिस्थितिक तंत्र के प्रति उत्तरदायित्व के साथ आर्थिक वृद्धि
3. एजेन्डा 21	(iii) ग्रीनहाउस गैसों के उत्सर्जन को कम करने का उद्देश्य
4. सतत पोषणीय विकास	(iv) नवीकरणीय ऊर्जा के प्रयोग को बढ़ावा देना

विकल्प :

- (A) 1-(iii), 2-(iv), 3-(i), 4-(ii)
(B) 1-(ii), 2-(iii), 3-(iv), 4-(i)
(C) 1-(iv), 2-(i), 3-(iii), 4-(ii)
(D) 1-(i), 2-(ii), 3-(iii), 4-(iv)

For Question number 7, two statements are given — one labelled as Assertion (A) and the other labelled as Reason (R). Read these statements carefully and choose the correct option as the answer from the options (A), (B), (C) and (D) given below.

7. Assertion (A) : Oil continues to be the most important resource in global strategy.

Reason (R) : The immense wealth associated with oil generates political struggles.

- (A) Both Assertion (A) and Reason (R) are true and Reason (R) is the correct explanation of the Assertion (A).
- (B) Both Assertion (A) and Reason (R) are true, but Reason (R) is **not** the correct explanation of the Assertion (A).
- (C) Assertion (A) is true, but Reason (R) is false.
- (D) Assertion (A) is false, but Reason (R) is true.

8. Match List I with List II and choose the correct option :

<i>List I</i>		<i>List II</i>	
1.	Kyoto Protocol	(i)	List of developmental practices
2.	Electricity Act of 2003, India	(ii)	Economic growth with ecological responsibility
3.	Agenda 21	(iii)	Aims to cut greenhouse gas emissions
4.	Sustainable Development	(iv)	Encourages use of renewable energy

Options :

- (A) 1-(iii), 2-(iv), 3-(i), 4-(ii)
- (B) 1-(ii), 2-(iii), 3-(iv), 4-(i)
- (C) 1-(iv), 2-(i), 3-(iii), 4-(ii)
- (D) 1-(i), 2-(ii), 3-(iii), 4-(iv)

9. वे लोग क्या कहलाते हैं जो अपने घर-बार छोड़ के भाग जाते हैं लेकिन राष्ट्रीय सीमाओं के भीतर ही रहते हैं ?
- (A) भगोड़े
(B) आप्रवासी
(C) आन्तरिक रूप से विस्थापित जन
(D) मूल निवासी
10. 'शक्ति सन्तुलन' में देशों से निम्नलिखित में से किसकी अपेक्षा होती है ?
- (A) विशेष प्रकार के हथियार त्यागने की
(B) हथियारों को प्राप्त और विकसित करने की प्रक्रिया को नियमित करने की
(C) सैन्य हमले से रक्षा के लिए अपनी कार्रवाइयों में सहयोग बनाने की
(D) अन्य देशों के साथ अनुकूल संतुलन बनाने की
11. रूस के कौन-से दो गणराज्यों में हिंसक अलगाववादी आन्दोलन हुए थे ?
- (A) चेचन्या और अज़रबैजान
(B) क्रोएशिया और उज़्बेकिस्तान
(C) चेचन्या और दागिस्तान
(D) दागिस्तान और क्रोएशिया
12. निम्नलिखित घटनाओं को कालक्रमानुसार व्यवस्थित कीजिए :
- (i) अफगानिस्तान पर सोवियत संघ का आक्रमण
(ii) रूस की क्रांति
(iii) ताज़िकिस्तान में गृहयुद्ध का अन्त
(iv) बर्लिन की दीवार का गिरना
- सही विकल्प चुनिए :
- (A) (i), (ii), (iii), (iv)
(B) (ii), (i), (iv), (iii)
(C) (iii), (iv), (i), (ii)
(D) (iv), (iii), (ii), (i)

9. People who flee their homes but remain within national borders are called _____.
- (A) fugitives
 - (B) migrants
 - (C) internally displaced people
 - (D) indigenous people
10. 'Balance of power' requires countries to _____.
- (A) give up certain kinds of weapons
 - (B) regulate acquisition and development of weapons
 - (C) coordinate their actions to defend against military attack
 - (D) maintain a favourable balance with other countries
11. Which two republics of Russia have had violent secessionist movements ?
- (A) Chechnya and Azerbaijan
 - (B) Croatia and Uzbekistan
 - (C) Chechnya and Dagestan
 - (D) Dagestan and Croatia
12. Arrange the following events in the chronological order :
- (i) Soviet invasion of Afghanistan
 - (ii) Russian Revolution
 - (iii) End of Civil War in Tajikistan
 - (iv) Fall of the Berlin Wall
- Choose the correct option :
- (A) (i), (ii), (iii), (iv)
 - (B) (ii), (i), (iv), (iii)
 - (C) (iii), (iv), (i), (ii)
 - (D) (iv), (iii), (ii), (i)

खण्ड ख

13. अन्तर्राष्ट्रीय मानदंडों और संस्थाओं को मजबूती प्रदान करने से किस प्रकार भारत ने अपने सुरक्षा हितों की रक्षा की है ? स्पष्ट कीजिए । 2
14. 1952 में भारत में हुआ आम चुनाव क्यों पूरे विश्व में लोकतन्त्र के इतिहास के लिए मील का एक पत्थर बन गया ? स्पष्ट कीजिए । 2
15. प्रथम पंचवर्षीय योजना की कोई दो विशेषताएँ उजागर कीजिए । 2
16. वैश्विक सुरक्षा का अर्थ स्पष्ट कीजिए । 2
17. पूर्वी पाकिस्तान में 1970 के चुनावों में, किस राजनीतिक पार्टी ने किस नेता के नेतृत्व में सभी सीटों पर विजय प्राप्त की थी ? 2
18. मण्डल आयोग की सिफारिशों को लागू करने के प्रभाव का आकलन कीजिए । 2

खण्ड ग

19. स्वतंत्रता के पश्चात् भारत द्वारा गुटनिरपेक्षता की नीति को चुनने के किन्हीं दो कारणों को उजागर कीजिए । 4
20. 'शॉक थेरेपी' के कारण समाज कल्याण की पुरानी व्यवस्था को क्रमिक ढंग से नष्ट करने के किन्हीं दो परिणामों की व्याख्या कीजिए । 4
21. (क) 1971 में बांग्लादेश के निर्माण से जुड़े घटनाक्रम का वर्णन कीजिए । 4

अथवा

- (ख) श्रीलंका में जातीय संघर्ष के किन्हीं दो कारणों का वर्णन कीजिए । 4
22. (क) वैश्वीकरण के लिए उत्तरदायी किन्हीं दो कारणों को उजागर कीजिए । 4

अथवा

- (ख) वैश्वीकरण के कोई दो सकारात्मक प्रभाव उजागर कीजिए । 4
23. 1979 से 1985 तक चले असम आन्दोलन के किन्हीं दो कारणों का विश्लेषण कीजिए । 4

SECTION B

13. How has the strengthening of international norms and international institutions helped India protect its security interests ? Explain. 2
14. Why did India's general elections of 1952 become a landmark in the history of democracy all over the world ? Explain. 2
15. Highlight any two features of the First Five Year Plan. 2
16. Explain the meaning of Global Security. 2
17. Which political party won all the seats in the 1970 elections in East Pakistan and under whose leadership ? 2
18. Assess the impact of the implementation of the recommendations of the Mandal Commission. 2

SECTION C

19. Highlight any two reasons for India to choose the policy of Non-Alignment after independence. 4
20. Explain any two consequences of the systematic destruction of the old system of social welfare due to 'shock therapy'. 4
21. (a) Describe the developments leading to the creation of Bangladesh in 1971. 4

OR

- (b) Describe any two reasons for the ethnic conflict in Sri Lanka. 4
22. (a) Highlight any two causes of globalisation. 4

OR

- (b) Highlight any two positive effects of globalisation. 4
23. Analyse any two causes of the Assam Movement from 1979 to 1985. 4

खण्ड घ

24. निम्नलिखित अवतरण को ध्यानपूर्वक पढ़िए और नीचे दिए गए प्रश्नों के उत्तर दीजिए : $4 \times 1 = 4$

भारत का विचार है कि ग्रीनहाउस गैसों के उत्सर्जन को कम करने की मुख्य जिम्मेवारी विकसित देशों की है, जिन्होंने एक लम्बे समय तक बहुत ज्यादा उत्सर्जन किया है। भारत ने ध्यान दिलाया कि विकासशील देशों में ग्रीनहाउस गैसों की प्रति व्यक्ति उत्सर्जन दर विकसित देशों की तुलना में नाममात्र है।

- (i) भारत ने क्योटो प्रोटोकॉल पर हस्ताक्षर तथा इसका अनुमोदन कब किया था ?
- (A) अगस्त 2000 (B) अगस्त 2001
(C) अगस्त 2002 (D) अगस्त 2003
- (ii) कुछ विकासशील देशों को क्योटो प्रोटोकॉल की बाध्यताओं से छूट क्यों दी गई थी ?
- (A) वे पारिस्थितिकी तंत्र के अनुकूल प्रौद्योगिकी विकसित करने में अग्रणी थे।
(B) वे कुछ अन्य देशों को स्वच्छ प्रौद्योगिकियों को अपनाने में सहायता कर रहे थे।
(C) उन्होंने पहले से ही नवीकरणीय ऊर्जा को प्रयोग करने के कार्यक्रम शुरू कर दिए थे।
(D) ग्रीनहाउस गैसों के उत्सर्जन में उनका योगदान नाममात्र का था।
- (iii) 'पृथ्वी सम्मेलन' कहाँ आयोजित हुआ था ?
- (A) पेरिस (B) रियो डी जनेरियो
(C) क्योटो (D) माँट्रियल
- (iv) निम्नलिखित में से कौन-सा एक 'वैश्विक सम्पदा' का उदाहरण है ?
- (A) ग्रेट बैरियर रीफ (B) महाखड्ड (ग्रैंड कैनियन)
(C) बाहरी अंतरिक्ष (D) सहारा मरुस्थल

SECTION D

24. Read the following passage carefully and answer the questions that follow :

4×1=4

India is of the view that the major responsibility of curbing emission of greenhouse gases rests with the developed countries, which have accumulated emissions over a long period of time. India pointed out that the per capita emission rates of the developing countries are a tiny fraction of those in the developed world.

- (i) India signed and ratified the Kyoto Protocol in :
- (A) August 2000 (B) August 2001
(C) August 2002 (D) August 2003
- (ii) Why were some developing countries exempted from the requirements of the Kyoto Protocol ?
- (A) They were pioneers in developing eco-friendly technology.
(B) They were assisting some other countries to adopt clean technologies.
(C) They had already launched renewable energy programmes.
(D) Their contribution to emission of greenhouse gases was insignificant.
- (iii) Where was the 'Earth Summit' held ?
- (A) Paris (B) Rio de Janeiro
(C) Kyoto (D) Montreal
- (iv) Which one of the following is an example of 'Global Commons' ?
- (A) The Great Barrier Reef (B) The Grand Canyon
(C) The Outer Space (D) The Sahara Desert

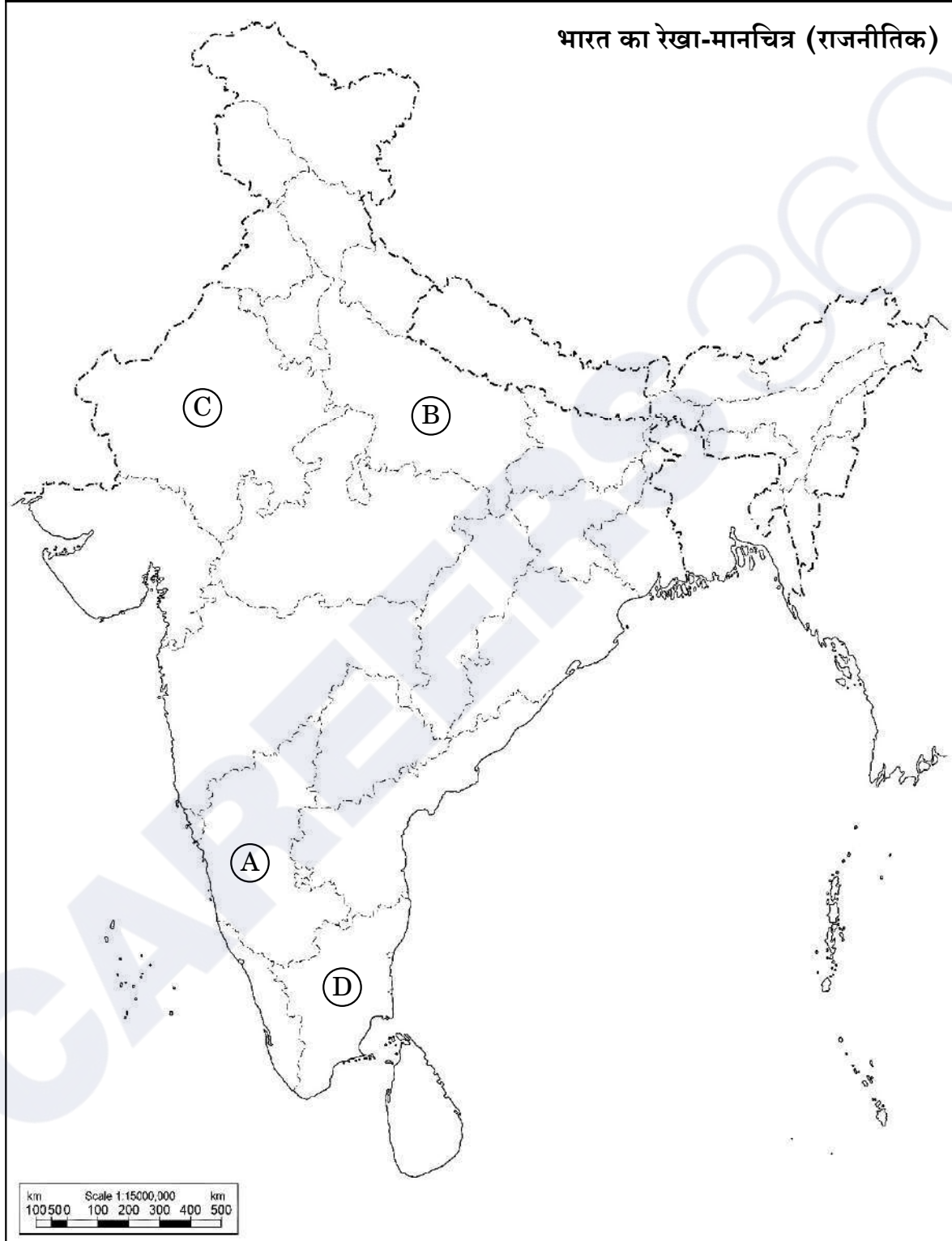
25. भारत के दिए गए राजनीतिक रेखा-मानचित्र (पृष्ठ 15 पर) में चार राज्यों को (A), (B), (C) तथा (D) के द्वारा अंकित किया गया है। नीचे दी गई जानकारी के आधार पर इन राज्यों की पहचान कीजिए और अपनी उत्तर-पुस्तिका में इनके सही नाम, प्रयोग की गई जानकारी की क्रम-संख्या तथा मानचित्र में दिया गया संबंधित अक्षर, नीचे दी गई तालिका के रूप में लिखिए :

4×1=4

प्रयोग की गई जानकारी की क्रम-संख्या	मानचित्र में दिया गया संबंधित अक्षर	राज्य का नाम
(i)		
(ii)		
(iii)		
(iv)		

- (i) वह राज्य जिससे पूर्व प्रधानमंत्री लाल बहादुर शास्त्री का सम्बन्ध था।
- (ii) वह राज्य जिससे पूर्व मुख्यमंत्री एस. निजलिंगप्पा का सम्बन्ध था।
- (iii) वह राज्य जहाँ 1967 में डीएमके (द्रविड़ मुन्नेत्र कषगम) पार्टी सत्ता में आई।
- (iv) वह राज्य जहाँ 1967 के विधानसभा चुनावों में काँग्रेस पार्टी को बहुमत नहीं मिली थी।

प्रश्न सं. 25 के लिए



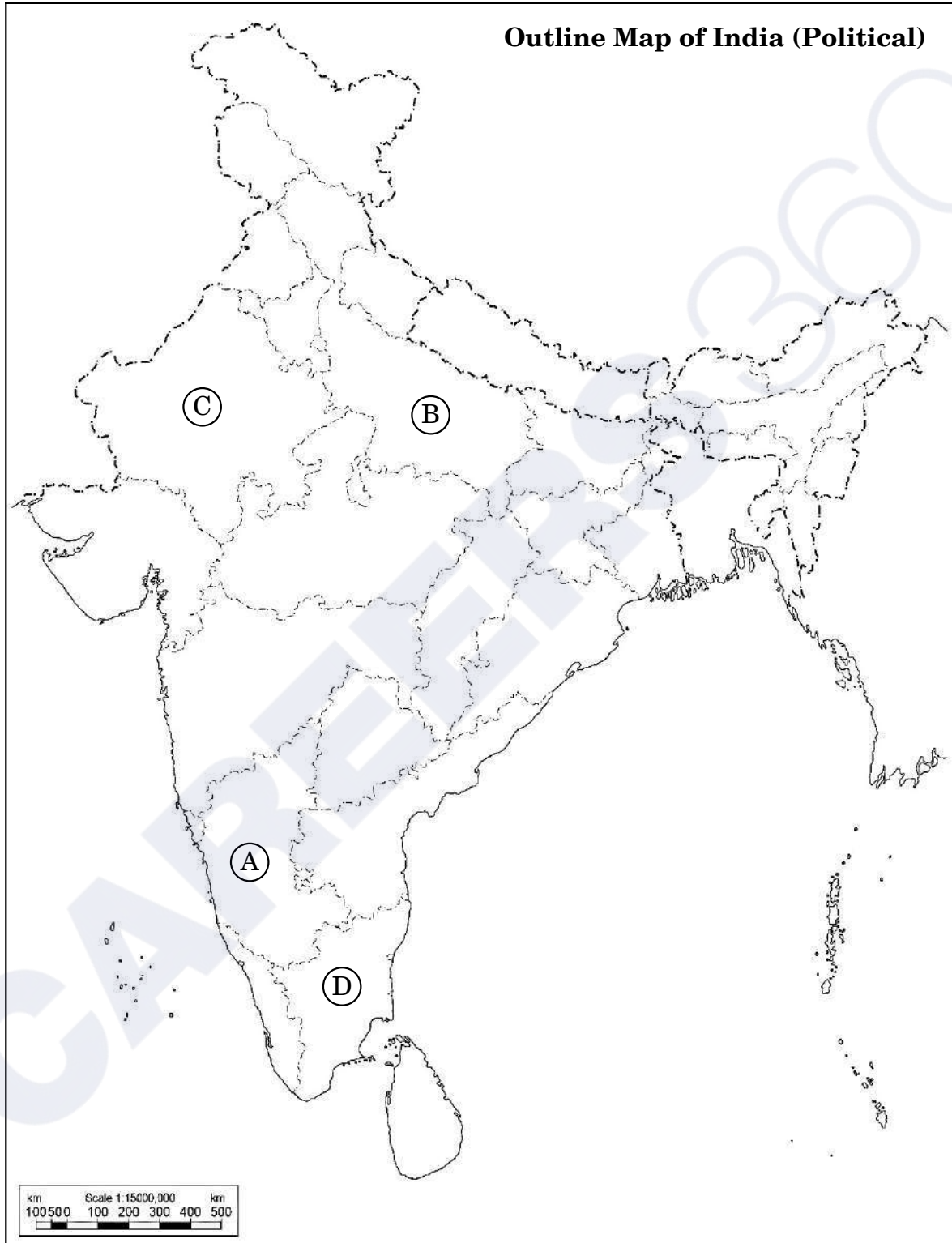
25. In the given political outline map of **India** (on page 17), four States have been marked as (A), (B), (C) and (D). Identify these States on the basis of the information given below and write their correct names in your answer-book along with the respective serial number of the information used and the concerned alphabets given in the map as per the following format :

4×1=4

Serial number of the information used	Concerned alphabet given in the map	Name of the State
(i)		
(ii)		
(iii)		
(iv)		

- (i) The State to which the former Prime Minister Lal Bahadur Shastri belonged.
- (ii) The State to which former Chief Minister S. Nijalingappa belonged.
- (iii) The State where DMK (Dravida Munnetra Kazhagam) came to power in 1967.
- (iv) The State where the Congress Party did not get majority in 1967 Assembly elections.

For question no. 25



नोट: निम्नलिखित प्रश्न केवल दृष्टिबाधित परीक्षार्थियों के लिए प्रश्न संख्या 25 के स्थान पर हैं: 4×1=4

- (25.1) उस राज्य का नाम लिखिए जिससे पूर्व मुख्यमंत्री कर्पूरी ठाकुर का सम्बन्ध था ।
- (25.2) उस राज्य का नाम लिखिए जिससे राजनीतिक पार्टी डीएमके (द्रविड़ मुन्नेत्र कषगम) का सम्बन्ध है ।
- (25.3) उस राज्य का नाम लिखिए जिससे पूर्व प्रधानमंत्री लाल बहादुर शास्त्री सम्बन्ध रखते थे ।
- (25.4) उस राज्य का नाम लिखिए जिससे भारत के पूर्व राष्ट्रपति वी.वी. गिरि का सम्बन्ध था ।

26. नीचे दिए गए कार्टून का अध्ययन कीजिए और निम्नलिखित प्रश्नों के उत्तर दीजिए : 1+1+2=4



यह झूठ है! हर कोई जानता है
कि हम सभी ने दो वर्ष तक
मेहनत की और इसे गिराया !


- (i) जनता पार्टी की सरकार को गिराने वाले नेता को पहचानकर उसका नाम लिखिए ।
- (ii) कार्टून में दिखाए गए जनता पार्टी की सरकार के प्रधानमंत्री को पहचान कर उसका नाम लिखिए ।
- (iii) 1980 में जनता पार्टी की हार के कोई दो कारण उजागर कीजिए ।

Note : The following questions are for the **Visually Impaired Candidates** only, in lieu of Q. No. 25 :

4×1=4

- (25.1) Name the state to which the former Chief Minister Karpoori Thakur belonged.
- (25.2) Name the state to which the political party DMK (Dravida Munnetra Kazhagam) belongs.
- (25.3) Name the state to which the former Prime Minister Lal Bahadur Shastri belonged.
- (25.4) Name the state to which the former President of India V.V. Giri belonged.

26. Study the cartoon given below and answer the questions that follow : 1+1+2=4



- (i) Identify and name the leader who toppled the Janata Government.
- (ii) Identify and name the Prime Minister of the Janata Party Government shown in the cartoon.
- (iii) Highlight any two reasons for the defeat of the Janata Party in 1980.

नोट: निम्नलिखित प्रश्न केवल दृष्टिबाधित परीक्षार्थियों के लिए प्रश्न संख्या 26 के स्थान पर हैं :

2+1+1=4

- (26.1) 1977 के आम चुनावों में काँग्रेस पार्टी की हार के किन्हीं दो कारणों को उजागर कीजिए ।
- (26.2) 1977 के आम चुनावों में विजय प्राप्त करने वाली राजनीतिक पार्टी का नाम लिखिए ।
- (26.3) 1980 के चुनावों में काँग्रेस पार्टी की जीत से पहले भारत के प्रधानमंत्री का नाम लिखिए ।

खण्ड ड

27. (क) उन आधारों की व्याख्या कीजिए जिनके बल पर भारत संयुक्त राष्ट्र सुरक्षा परिषद् में स्थायी सदस्यता प्राप्त करने का दावा करता है । 6
- अथवा
- (ख) संयुक्त राष्ट्र महासभा द्वारा 1992 में संयुक्त राष्ट्र सुरक्षा परिषद् में सुधार लाने के लिए स्वीकृत प्रस्ताव में दर्ज तीन मुख्य शिकायतों की व्याख्या कीजिए । 6
28. (क) यूरोपीय संघ को एक प्रभावशाली क्षेत्रीय संगठन बनाने वाले किन्हीं चार कारकों का विश्लेषण कीजिए । 6
- अथवा
- (ख) “आसियान बहुत तेज़ी से एक महत्वपूर्ण क्षेत्रीय संगठन के रूप में बढ़ रहा है ।” कथन को न्यायोचित ठहराइए । 6
29. (क) 1947 में हुए ब्रिटिश इन्डिया के विभाजन के किन्हीं चार परिणामों का वर्णन कीजिए । 6
- अथवा
- (ख) स्वतंत्र भारत में राज्यों के पुनर्गठन की प्रक्रिया का वर्णन कीजिए । 6

Note : The following questions are for the **Visually Impaired Candidates** only, in lieu of Q. No. 26 :

2+1+1=4

(26.1) Highlight any two reasons for the defeat of the Congress Party in the general elections of 1977.

(26.2) Name the political party that won the general elections in 1977.

(26.3) Name the Prime Minister of India before the Congress Party won the elections in 1980.

SECTION E

27. (a) Explain the grounds on the basis of which India seeks to become a permanent member of the UN Security Council. 6

OR

(b) Explain the three main complaints reflected in the resolution adopted by the UN General Assembly in 1992 to reform the UN Security Council. 6

28. (a) Analyse any four factors that make the European Union an influential regional organisation. 6

OR

(b) "ASEAN is rapidly growing into a very important regional organisation." Justify the statement. 6

29. (a) Describe any four consequences of the partition of British India in 1947. 6

OR

(b) Describe the process of reorganisation of states in free India. 6

30. (क) भारतीय राजनीति में 1989 और उसके बाद घटी किन्हीं चार मुख्य घटनाओं का वर्णन कीजिए ।

6

अथवा

- (ख) भारत की अधिकांश राजनीतिक पार्टियों में उभरी आम सहमति के किन्हीं तीन मुद्दों का वर्णन कीजिए ।

6

30. (a) Describe any four major developments in Indian politics since 1989. 6

OR

(b) Describe any three issues on which a general consensus has emerged among most of the political parties of India. 6

Series P2QRS/2

Set-3

प्रश्न-पत्र कोड
Q.P. Code

59/2/3

रोल नं.

--	--	--	--	--	--	--	--

Roll No.

परीक्षार्थी प्रश्न-पत्र कोड को उत्तर-पुस्तिका के मुख-पृष्ठ पर अवश्य लिखें।

Candidates must write the Q.P. Code on the title page of the answer-book.



राजनीति विज्ञान
POLITICAL SCIENCE

निर्धारित समय : 3 घण्टे

अधिकतम अंक : 80

Time allowed : 3 hours

Maximum Marks : 80

नोट	NOTE
(I) कृपया जाँच कर लें कि इस प्रश्न-पत्र में मुद्रित पृष्ठ 23 हैं।	(I) Please check that this question paper contains 23 printed pages.
(II) कृपया जाँच कर लें कि इस प्रश्न-पत्र में 30 प्रश्न हैं।	(II) Please check that this question paper contains 30 questions.
(III) प्रश्न-पत्र में दाहिने हाथ की ओर दिए गए प्रश्न-पत्र कोड को परीक्षार्थी उत्तर-पुस्तिका के मुख-पृष्ठ पर लिखें।	(III) Q.P. Code given on the right hand side of the question paper should be written on the title page of the answer-book by the candidate.
(IV) कृपया प्रश्न का उत्तर लिखना शुरू करने से पहले, उत्तर-पुस्तिका में प्रश्न का क्रमांक अवश्य लिखें।	(IV) Please write down the serial number of the question in the answer-book before attempting it.
(V) इस प्रश्न-पत्र को पढ़ने के लिए 15 मिनट का समय दिया गया है। प्रश्न-पत्र का वितरण पूर्वाह्न में 10.15 बजे किया जाएगा। 10.15 बजे से 10.30 बजे तक छात्र केवल प्रश्न-पत्र को पढ़ेंगे और इस अवधि के दौरान वे उत्तर-पुस्तिका पर कोई उत्तर नहीं लिखेंगे।	(V) 15 minute time has been allotted to read this question paper. The question paper will be distributed at 10.15 a.m. From 10.15 a.m. to 10.30 a.m., the students will read the question paper only and will not write any answer on the answer-book during this period.

सामान्य निर्देश :

निम्नलिखित निर्देशों को बहुत सावधानी से पढ़िए और उनका पालन कीजिए :

- (i) इस प्रश्न-पत्र में 30 प्रश्न हैं। सभी प्रश्न अनिवार्य हैं।
- (ii) प्रश्न-पत्र पाँच खण्डों में विभाजित है – खण्ड क, ख, ग, घ एवं ङ।
- (iii) खण्ड क – प्रश्न संख्या 1 से 12 तक बहुविकल्पीय प्रकार के प्रश्न हैं। प्रत्येक प्रश्न 1 अंक का है।
- (iv) खण्ड ख – प्रश्न संख्या 13 से 18 तक लघु-उत्तरीय प्रकार के प्रश्न हैं। प्रत्येक प्रश्न 2 अंकों का है। प्रत्येक प्रश्न का उत्तर 50 से 60 शब्दों में लिखिए।
- (v) खण्ड ग – प्रश्न संख्या 19 से 23 तक दीर्घ-उत्तरीय प्रकार-I के प्रश्न हैं। प्रत्येक प्रश्न 4 अंकों का है। प्रत्येक प्रश्न का उत्तर 100 से 120 शब्दों में लिखिए।
- (vi) खण्ड घ – प्रश्न संख्या 24 से 26 अवतरण, कार्टून तथा मानचित्र-आधारित प्रश्न हैं। प्रत्येक प्रश्न का उत्तर यथानुसार लिखिए।
- (vii) खण्ड ङ – प्रश्न संख्या 27 से 30 तक दीर्घ-उत्तरीय प्रकार-II के प्रश्न हैं। प्रत्येक प्रश्न 6 अंकों का है। प्रत्येक प्रश्न का उत्तर 170 से 180 शब्दों में लिखिए।
- (viii) प्रश्न-पत्र में कोई समग्र विकल्प नहीं है। यद्यपि कुछ प्रश्नों में आंतरिक विकल्प का प्रावधान दिया गया है। इन प्रश्नों में से केवल एक ही प्रश्न का उत्तर लिखा जाए।
- (ix) इसके अतिरिक्त, ध्यान दें कि दृष्टिबाधित परीक्षार्थियों के लिए फोटो तथा मानचित्र आदि आधारित प्रश्नों के स्थान पर एक अन्य प्रश्न दिया गया है। इन प्रश्नों के उत्तर केवल दृष्टिबाधित परीक्षार्थी ही लिखें।

खण्ड क

प्रश्न संख्या 1 से 12 तक बहुविकल्पीय प्रकार के 1 अंक के प्रश्न हैं।

12×1=12

प्रश्न संख्या 1 के लिए, दो कथन दिए गए हैं — जिनमें एक को अभिकथन (A) तथा दूसरे को कारण (R) द्वारा अंकित किया गया है। इन कथनों को ध्यान से पढ़िए और नीचे दिए गए विकल्पों (A), (B), (C) और (D) में से उत्तर के रूप में सही विकल्प चुनिए।

1. अभिकथन (A) : वैश्विक रणनीति में तेल आज भी सबसे महत्वपूर्ण संसाधन बना हुआ है।
कारण (R) : तेल के साथ जुड़ी अपार सम्पदा से राजनीतिक संघर्ष पैदा होते हैं।
(A) अभिकथन (A) और कारण (R) दोनों सही हैं और कारण (R), अभिकथन (A) की सही व्याख्या करता है।
(B) अभिकथन (A) और कारण (R) दोनों सही हैं, परन्तु कारण (R), अभिकथन (A) की सही व्याख्या नहीं करता है।
(C) अभिकथन (A) सही है, परन्तु कारण (R) ग़लत है।
(D) अभिकथन (A) ग़लत है, परन्तु कारण (R) सही है।

General Instructions :

Read the following instructions very carefully and follow them :

- (i) This question paper contains **30** questions. **All** questions are **compulsory**.
- (ii) Question paper is divided into **five** sections – **Sections A, B, C, D and E**.
- (iii) **Section A** – questions number **1 to 12** are Multiple Choice type questions. Each question carries **1** mark.
- (iv) **Section B** – questions number **13 to 18** are Short Answer type questions. Each question carries **2** marks. Write answer to each question in **50 to 60** words.
- (v) **Section C** – questions number **19 to 23** are Long Answer type-I questions. Each question carries **4** marks. Write answer to each question in **100 to 120** words.
- (vi) **Section D** – questions number **24 to 26** are Passage, Cartoon and Map-based questions. Answer each question accordingly.
- (vii) **Section E** – questions number **27 to 30** are Long Answer type-II questions. Each question carries **6** marks. Write answer to each question in **170 to 180** words.
- (viii) There is no overall choice in the question paper. However, an internal choice has been provided in few questions. Only **one** of the choices in such questions has to be attempted.
- (ix) In addition to this, note that a separate question has been provided for Visually Impaired candidates in lieu of questions having visual inputs, map etc. Such questions are to be attempted by Visually Impaired candidates only.

SECTION A

Questions number **1 to 12** are Multiple Choice type questions, carrying **1** mark each. $12 \times 1 = 12$

For Question number 1, two statements are given — one labelled as Assertion (A) and the other labelled as Reason (R). Read these statements carefully and choose the correct option as the answer from the options (A), (B), (C) and (D) given below.

1. Assertion (A) : Oil continues to be the most important resource in global strategy.
Reason (R) : The immense wealth associated with oil generates political struggles.
 - (A) Both Assertion (A) and Reason (R) are true and Reason (R) is the correct explanation of the Assertion (A).
 - (B) Both Assertion (A) and Reason (R) are true, but Reason (R) is **not** the correct explanation of the Assertion (A).
 - (C) Assertion (A) is true, but Reason (R) is false.
 - (D) Assertion (A) is false, but Reason (R) is true.

2. सूची I का सूची II से मिलान कीजिए और सही विकल्प का चयन कीजिए :

सूची I	सूची II
1. क्योटो प्रोटोकॉल	(i) विकासात्मक नियमाचार की सूची
2. बिजली अधिनियम 2003, भारत	(ii) पारिस्थितिक तंत्र के प्रति उत्तरदायित्व के साथ आर्थिक वृद्धि
3. एजेन्डा 21	(iii) ग्रीनहाउस गैसों के उत्सर्जन को कम करने का उद्देश्य
4. सतत पोषणीय विकास	(iv) नवीकरणीय ऊर्जा के प्रयोग को बढ़ावा देना

विकल्प :

- (A) 1-(iii), 2-(iv), 3-(i), 4-(ii)
(B) 1-(ii), 2-(iii), 3-(iv), 4-(i)
(C) 1-(iv), 2-(i), 3-(iii), 4-(ii)
(D) 1-(i), 2-(ii), 3-(iii), 4-(iv)

3. वे लोग क्या कहलाते हैं जो अपने घर-बार छोड़ के भाग जाते हैं लेकिन राष्ट्रीय सीमाओं के भीतर ही रहते हैं ?

- (A) भगोड़े
(B) आप्रवासी
(C) आन्तरिक रूप से विस्थापित जन
(D) मूल निवासी

4. 'शक्ति सन्तुलन' में देशों से निम्नलिखित में से किसकी अपेक्षा होती है ?

- (A) विशेष प्रकार के हथियार त्यागने की
(B) हथियारों को प्राप्त और विकसित करने की प्रक्रिया को नियमित करने की
(C) सैन्य हमले से रक्षा के लिए अपनी कार्रवाइयों में सहयोग बनाने की
(D) अन्य देशों के साथ अनुकूल संतुलन बनाने की

5. रूस के कौन-से दो गणराज्यों में हिंसक अलगाववादी आन्दोलन हुए थे ?

- (A) चेचन्या और अज़रबैजान
(B) क्रोएशिया और उज़्बेकिस्तान
(C) चेचन्या और दागिस्तान
(D) दागिस्तान और क्रोएशिया

2. Match List I with List II and choose the correct option :

<i>List I</i>		<i>List II</i>	
1.	Kyoto Protocol	(i)	List of developmental practices
2.	Electricity Act of 2003, India	(ii)	Economic growth with ecological responsibility
3.	Agenda 21	(iii)	Aims to cut greenhouse gas emissions
4.	Sustainable Development	(iv)	Encourages use of renewable energy

Options :

- (A) 1-(iii), 2-(iv), 3-(i), 4-(ii)
(B) 1-(ii), 2-(iii), 3-(iv), 4-(i)
(C) 1-(iv), 2-(i), 3-(iii), 4-(ii)
(D) 1-(i), 2-(ii), 3-(iii), 4-(iv)
3. People who flee their homes but remain within national borders are called _____.
- (A) fugitives
(B) migrants
(C) internally displaced people
(D) indigenous people
4. 'Balance of power' requires countries to _____.
- (A) give up certain kinds of weapons
(B) regulate acquisition and development of weapons
(C) coordinate their actions to defend against military attack
(D) maintain a favourable balance with other countries
5. Which two republics of Russia have had violent secessionist movements ?
- (A) Chechnya and Azerbaijan
(B) Croatia and Uzbekistan
(C) Chechnya and Dagestan
(D) Dagestan and Croatia

6. निम्नलिखित घटनाओं को कालक्रमानुसार व्यवस्थित कीजिए :

- (i) अफगानिस्तान पर सोवियत संघ का आक्रमण
- (ii) रूस की क्रांति
- (iii) ताज़िकिस्तान में गृहयुद्ध का अन्त
- (iv) बर्लिन की दीवार का गिरना

सही विकल्प चुनिए :

- (A) (i), (ii), (iii), (iv)
- (B) (ii), (i), (iv), (iii)
- (C) (iii), (iv), (i), (ii)
- (D) (iv), (iii), (ii), (i)

7. 'खासी हिल्स' (पहाड़ियाँ) भारत के किस राज्य में स्थित हैं ?

- (A) मेघालय
- (B) मणिपुर
- (C) मिज़ोरम
- (D) त्रिपुरा

8. गुटनिरपेक्ष आन्दोलन (NAM) का प्रथम शिखर सम्मेलन कहाँ आयोजित किया गया था ?

- (A) काहिरा
- (B) बेलग्रेड
- (C) भारत
- (D) इण्डोनेशिया

6. Arrange the following events in the chronological order :

- (i) Soviet invasion of Afghanistan
- (ii) Russian Revolution
- (iii) End of Civil War in Tajikistan
- (iv) Fall of the Berlin Wall

Choose the correct option :

- (A) (i), (ii), (iii), (iv)
- (B) (ii), (i), (iv), (iii)
- (C) (iii), (iv), (i), (ii)
- (D) (iv), (iii), (ii), (i)

7. In which state of India are the 'Khasi Hills' located ?

- (A) Meghalaya
- (B) Manipur
- (C) Mizoram
- (D) Tripura

8. The first summit of NAM was held in :

- (A) Cairo
- (B) Belgrade
- (C) India
- (D) Indonesia

प्रश्न संख्या 9 के लिए, दो कथन दिए गए हैं — जिनमें एक को अभिकथन (A) तथा दूसरे को कारण (R) द्वारा अंकित किया गया है। इन कथनों को ध्यान से पढ़िए और नीचे दिए गए विकल्पों (A), (B), (C) और (D) में से उत्तर के रूप में सही विकल्प चुनिए।

9. अभिकथन (A): 1979 में, ऑल असम स्टूडेंट्स यूनियन (AASU) ने बाहरी लोगों के विरुद्ध आन्दोलन का नेतृत्व किया।

कारण (R): आन्दोलन अवैध आप्रवासियों तथा ग़लत मतदाता सूचियों के विरुद्ध था।

- (A) अभिकथन (A) और कारण (R) दोनों सही हैं और कारण (R), अभिकथन (A) की सही व्याख्या करता है।
- (B) अभिकथन (A) और कारण (R) दोनों सही हैं, परन्तु कारण (R), अभिकथन (A) की सही व्याख्या नहीं करता है।
- (C) अभिकथन (A) सही है, परन्तु कारण (R) ग़लत है।
- (D) अभिकथन (A) ग़लत है, परन्तु कारण (R) सही है।

10. दलाई लामा ने निम्नलिखित में से किस देश में राजनीतिक शरण प्राप्त की थी ?

- (A) नेपाल
(B) भूटान
(C) भारत
(D) म्याँमार

11. भारत का निर्वाचन आयोग किस वर्ष गठित किया गया था ?

- (A) 1949 (B) 1950
(C) 1951 (D) 1952

12. 1952 में कौन-सी राजनीतिक पार्टी जम्मू और कश्मीर में सत्ता में आई थी ?

- (A) भारतीय राष्ट्रीय काँग्रेस
(B) कश्मीर राष्ट्रीय काँग्रेस
(C) कम्युनिस्ट पार्टी ऑफ़ इन्डिया
(D) नेशनल कॉन्फेरेंस

For Question number 9, two statements are given — one labelled as Assertion (A) and the other labelled as Reason (R). Read these statements carefully and choose the correct option as the answer from the options (A), (B), (C) and (D) given below.

9. Assertion (A) : In 1979, the All Assam Students' Union (AASU) led an anti-foreigner movement.

Reason (R) : The movement was against illegal migrations and against faulty voters' lists.

- (A) Both Assertion (A) and Reason (R) are true and Reason (R) is the correct explanation of the Assertion (A).
- (B) Both Assertion (A) and Reason (R) are true, but Reason (R) is *not* the correct explanation of the Assertion (A).
- (C) Assertion (A) is true, but Reason (R) is false.
- (D) Assertion (A) is false, but Reason (R) is true.

10. In which of the following countries did Dalai Lama obtain political asylum ?

- (A) Nepal
- (B) Bhutan
- (C) India
- (D) Myanmar

11. In which year was the Election Commission of India set up ?

- (A) 1949
- (B) 1950
- (C) 1951
- (D) 1952

12. Which political party came to power in Jammu and Kashmir in 1952 ?

- (A) Indian National Congress
- (B) Kashmir National Congress
- (C) Communist Party of India
- (D) National Conference

खण्ड ख

13. वैश्विक सुरक्षा का अर्थ स्पष्ट कीजिए । 2
14. 1952 में भारत में हुआ आम चुनाव क्यों पूरे विश्व में लोकतन्त्र के इतिहास के लिए मील का एक पत्थर बन गया ? स्पष्ट कीजिए । 2
15. अन्तर्राष्ट्रीय मानदंडों और संस्थाओं को मजबूती प्रदान करने से किस प्रकार भारत ने अपने सुरक्षा हितों की रक्षा की है ? स्पष्ट कीजिए । 2
16. प्रथम पंचवर्षीय योजना की कोई दो विशेषताएँ उजागर कीजिए । 2
17. पूर्वी पाकिस्तान में 1970 के चुनावों में, किस राजनीतिक पार्टी ने किस नेता के नेतृत्व में सभी सीटों पर विजय प्राप्त की थी ? 2
18. भारत में 1989 से 1999 तक बनी गठबंधन की सरकारों की किन्हीं दो कमज़ोरियों का आकलन कीजिए । 2

खण्ड ग

19. 1962 में भारत पर हुए चीन के आक्रमण के किन्हीं दो परिणामों का वर्णन कीजिए । 4
20. सोवियत संघ के विघटन के किन्हीं दो कारणों की व्याख्या कीजिए । 4
21. (क) भारत और नेपाल के बीच विवाद और तनाव के कोई दो कारण उजागर कीजिए । 4
- अथवा**
- (ख) भारत और पाकिस्तान के बीच विवाद के कोई दो कारण उजागर कीजिए । 4
22. (क) वैश्वीकरण के लिए उत्तरदायी किन्हीं दो कारणों को उजागर कीजिए । 4
- अथवा**
- (ख) वैश्वीकरण के कोई दो सकारात्मक प्रभाव उजागर कीजिए । 4
23. 1959 के बाद मिज़ोरम में भारत के विरुद्ध सशस्त्र संघर्ष के कारणों का विश्लेषण कीजिए । 4

SECTION B

13. Explain the meaning of Global Security. 2
14. Why did India's general elections of 1952 become a landmark in the history of democracy all over the world ? Explain. 2
15. How has the strengthening of international norms and international institutions helped India protect its security interests ? Explain. 2
16. Highlight any two features of the First Five Year Plan. 2
17. Which political party won all the seats in the 1970 elections in East Pakistan and under whose leadership ? 2
18. Assess any two weaknesses of the coalition governments formed in India from 1989 to 1999. 2

SECTION C

19. Describe any two consequences of Chinese invasion of India in 1962. 4
20. Explain any two causes for the disintegration of the Soviet Union. 4
21. (a) Highlight any two causes of dispute and tension between India and Nepal. 4

OR

- (b) Highlight any two causes of conflict between India and Pakistan. 4
22. (a) Highlight any two causes of globalisation. 4

OR

- (b) Highlight any two positive effects of globalisation. 4
23. Analyse the causes of armed struggle in Mizoram against India after 1959. 4

खण्ड घ

24. निम्नलिखित अवतरण को ध्यानपूर्वक पढ़िए और नीचे दिए गए प्रश्नों के उत्तर दीजिए : $4 \times 1 = 4$

भारत का विचार है कि ग्रीनहाउस गैसों के उत्सर्जन को कम करने की मुख्य जिम्मेवारी विकसित देशों की है, जिन्होंने एक लम्बे समय तक बहुत ज्यादा उत्सर्जन किया है। भारत ने ध्यान दिलाया कि विकासशील देशों में ग्रीनहाउस गैसों की प्रति व्यक्ति उत्सर्जन दर विकसित देशों की तुलना में नाममात्र है।

- (i) भारत ने क्योटो प्रोटोकॉल पर हस्ताक्षर तथा इसका अनुमोदन कब किया था ?
- (A) अगस्त 2000 (B) अगस्त 2001
(C) अगस्त 2002 (D) अगस्त 2003
- (ii) कुछ विकासशील देशों को क्योटो प्रोटोकॉल की बाध्यताओं से छूट क्यों दी गई थी ?
- (A) वे पारिस्थितिकी तंत्र के अनुकूल प्रौद्योगिकी विकसित करने में अग्रणी थे।
(B) वे कुछ अन्य देशों को स्वच्छ प्रौद्योगिकियों को अपनाने में सहायता कर रहे थे।
(C) उन्होंने पहले से ही नवीकरणीय ऊर्जा को प्रयोग करने के कार्यक्रम शुरू कर दिए थे।
(D) ग्रीनहाउस गैसों के उत्सर्जन में उनका योगदान नाममात्र का था।
- (iii) 'पृथ्वी सम्मेलन' कहाँ आयोजित हुआ था ?
- (A) पेरिस (B) रियो डी जनेरियो
(C) क्योटो (D) माँट्रियल
- (iv) निम्नलिखित में से कौन-सा एक 'वैश्विक सम्पदा' का उदाहरण है ?
- (A) ग्रेट बैरियर रीफ (B) महाखड्ड (ग्रैंड कैनियन)
(C) बाहरी अंतरिक्ष (D) सहारा मरुस्थल

SECTION D

24. Read the following passage carefully and answer the questions that follow :

4×1=4

India is of the view that the major responsibility of curbing emission of greenhouse gases rests with the developed countries, which have accumulated emissions over a long period of time. India pointed out that the per capita emission rates of the developing countries are a tiny fraction of those in the developed world.

- (i) India signed and ratified the Kyoto Protocol in :
- (A) August 2000 (B) August 2001
(C) August 2002 (D) August 2003
- (ii) Why were some developing countries exempted from the requirements of the Kyoto Protocol ?
- (A) They were pioneers in developing eco-friendly technology.
(B) They were assisting some other countries to adopt clean technologies.
(C) They had already launched renewable energy programmes.
(D) Their contribution to emission of greenhouse gases was insignificant.
- (iii) Where was the 'Earth Summit' held ?
- (A) Paris (B) Rio de Janeiro
(C) Kyoto (D) Montreal
- (iv) Which one of the following is an example of 'Global Commons' ?
- (A) The Great Barrier Reef (B) The Grand Canyon
(C) The Outer Space (D) The Sahara Desert

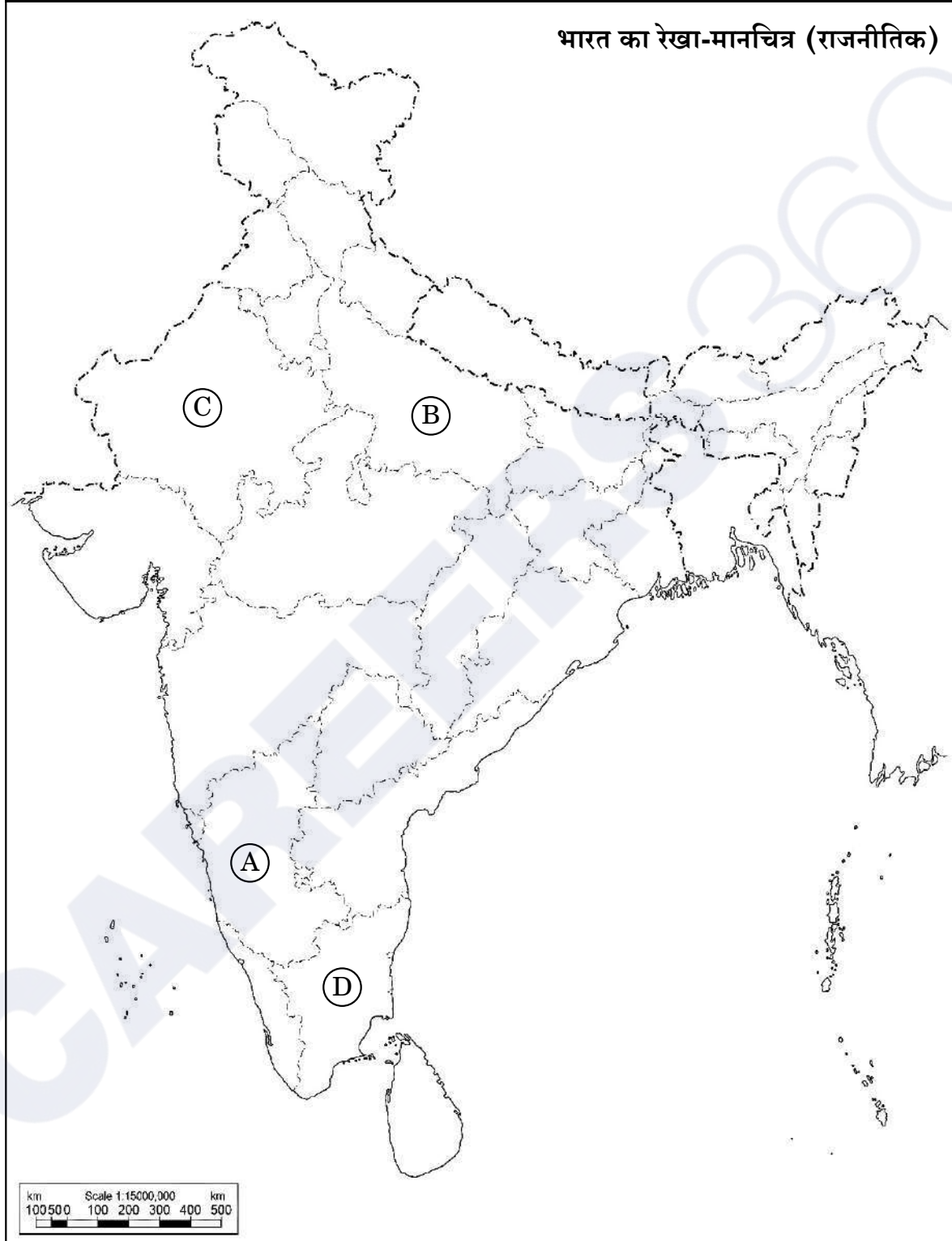
25. भारत के दिए गए राजनीतिक रेखा-मानचित्र (पृष्ठ 15 पर) में चार राज्यों को (A), (B), (C) तथा (D) के द्वारा अंकित किया गया है। नीचे दी गई जानकारी के आधार पर इन राज्यों की पहचान कीजिए और अपनी उत्तर-पुस्तिका में इनके सही नाम, प्रयोग की गई जानकारी की क्रम-संख्या तथा मानचित्र में दिया गया संबंधित अक्षर, नीचे दी गई तालिका के रूप में लिखिए :

4×1=4

प्रयोग की गई जानकारी की क्रम-संख्या	मानचित्र में दिया गया संबंधित अक्षर	राज्य का नाम
(i)		
(ii)		
(iii)		
(iv)		

- (i) वह राज्य जिससे पूर्व प्रधानमंत्री लाल बहादुर शास्त्री का सम्बन्ध था।
- (ii) वह राज्य जिससे पूर्व मुख्यमंत्री एस. निजलिंगप्पा का सम्बन्ध था।
- (iii) वह राज्य जहाँ 1967 में डीएमके (द्रविड़ मुन्नेत्र कषगम) पार्टी सत्ता में आई।
- (iv) वह राज्य जहाँ 1967 के विधानसभा चुनावों में काँग्रेस पार्टी को बहुमत नहीं मिली थी।

प्रश्न सं. 25 के लिए



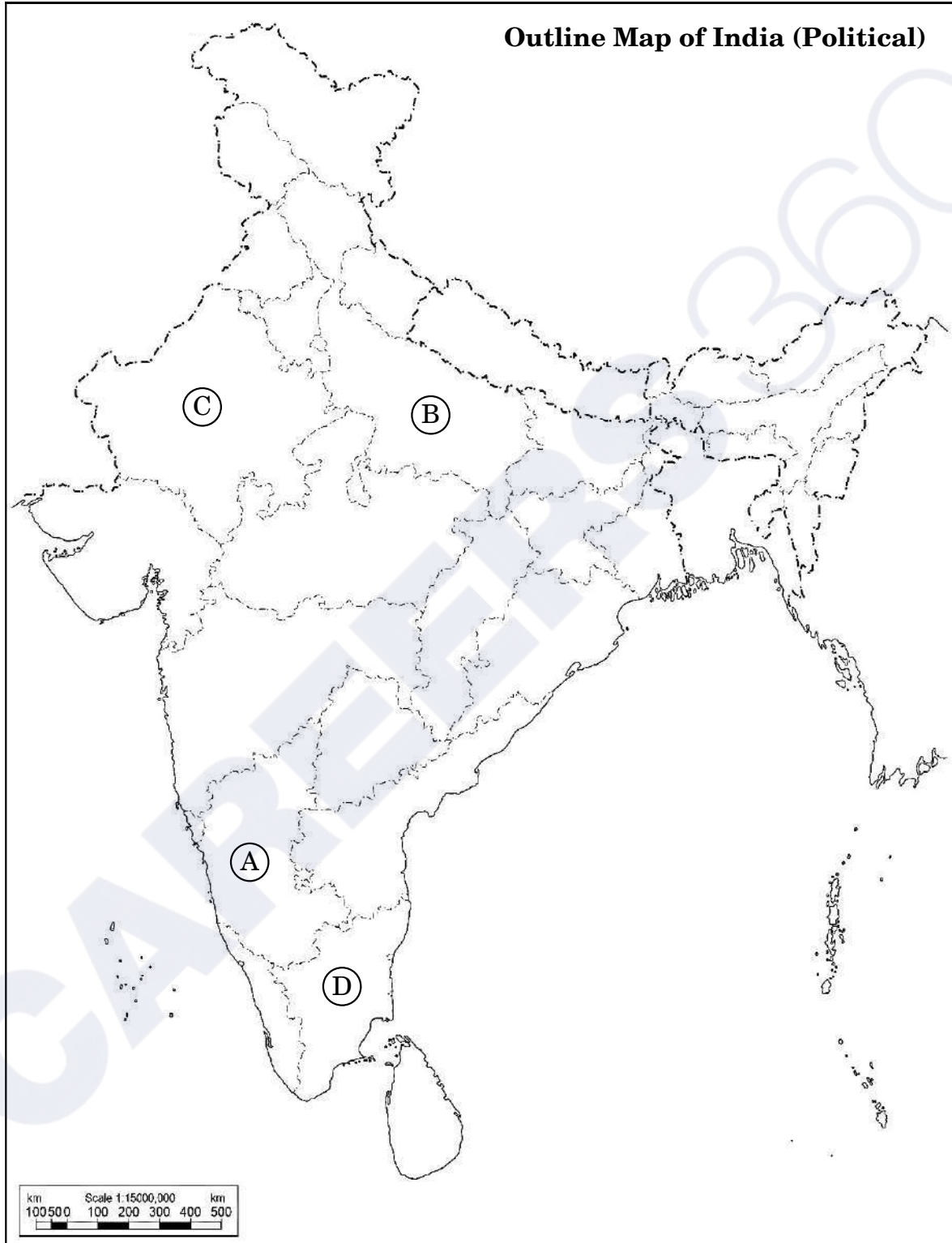
25. In the given political outline map of **India** (on page 17), four States have been marked as **Ⓐ**, **Ⓑ**, **Ⓒ** and **Ⓓ**. Identify these States on the basis of the information given below and write their correct names in your answer-book along with the respective serial number of the information used and the concerned alphabets given in the map as per the following format :

4×1=4

Serial number of the information used	Concerned alphabet given in the map	Name of the State
(i)		
(ii)		
(iii)		
(iv)		

- (i) The State to which the former Prime Minister Lal Bahadur Shastri belonged.
- (ii) The State to which former Chief Minister S. Nijalingappa belonged.
- (iii) The State where DMK (Dravida Munnetra Kazhagam) came to power in 1967.
- (iv) The State where the Congress Party did not get majority in 1967 Assembly elections.

For question no. 25



नोट: निम्नलिखित प्रश्न केवल दृष्टिबाधित परीक्षार्थियों के लिए प्रश्न संख्या 25 के स्थान पर हैं: 4×1=4

- (25.1) उस राज्य का नाम लिखिए जिससे पूर्व मुख्यमंत्री कर्पूरी ठाकुर का सम्बन्ध था ।
- (25.2) उस राज्य का नाम लिखिए जिससे राजनीतिक पार्टी डीएमके (द्रविड़ मुन्नेत्र कषगम) का सम्बन्ध है ।
- (25.3) उस राज्य का नाम लिखिए जिससे पूर्व प्रधानमंत्री लाल बहादुर शास्त्री सम्बन्ध रखते थे ।
- (25.4) उस राज्य का नाम लिखिए जिससे भारत के पूर्व राष्ट्रपति वी.वी. गिरि का सम्बन्ध था ।

26. नीचे दिए गए कार्टून का अध्ययन कीजिए और निम्नलिखित प्रश्नों के उत्तर दीजिए : 1+1+2=4



यह झूठ है! हर कोई जानता है
कि हम सभी ने दो वर्ष तक
मेहनत की और इसे गिराया!


- (i) जनता पार्टी की सरकार को गिराने वाले नेता को पहचानकर उसका नाम लिखिए ।
- (ii) कार्टून में दिखाए गए जनता पार्टी की सरकार के प्रधानमंत्री को पहचान कर उसका नाम लिखिए ।
- (iii) 1980 में जनता पार्टी की हार के कोई दो कारण उजागर कीजिए ।

Note : The following questions are for the **Visually Impaired Candidates** only, in lieu of Q. No. 25 :

4×1=4

- (25.1) Name the state to which the former Chief Minister Karpoori Thakur belonged.
- (25.2) Name the state to which the political party DMK (Dravida Munnetra Kazhagam) belongs.
- (25.3) Name the state to which the former Prime Minister Lal Bahadur Shastri belonged.
- (25.4) Name the state to which the former President of India V.V. Giri belonged.

26. Study the cartoon given below and answer the questions that follow : 1+1+2=4



- (i) Identify and name the leader who toppled the Janata Government.
- (ii) Identify and name the Prime Minister of the Janata Party Government shown in the cartoon.
- (iii) Highlight any two reasons for the defeat of the Janata Party in 1980.

नोट: निम्नलिखित प्रश्न केवल दृष्टिबाधित परीक्षार्थियों के लिए प्रश्न संख्या 26 के स्थान पर हैं :

2+1+1=4

- (26.1) 1977 के आम चुनावों में काँग्रेस पार्टी की हार के किन्हीं दो कारणों को उजागर कीजिए ।
- (26.2) 1977 के आम चुनावों में विजय प्राप्त करने वाली राजनीतिक पार्टी का नाम लिखिए ।
- (26.3) 1980 के चुनावों में काँग्रेस पार्टी की जीत से पहले भारत के प्रधानमंत्री का नाम लिखिए ।

खण्ड ड

27. (क) भारतीय राजनीति में 1989 और उसके बाद घटी किन्हीं चार मुख्य घटनाओं का वर्णन कीजिए । 6

अथवा

- (ख) भारत की अधिकांश राजनीतिक पार्टियों में उभरी आम सहमति के किन्हीं तीन मुद्दों का वर्णन कीजिए । 6

28. (क) यूरोपीय संघ को एक प्रभावशाली क्षेत्रीय संगठन बनाने वाले किन्हीं चार कारकों का विश्लेषण कीजिए । 6

अथवा

- (ख) “आसियान बहुत तेज़ी से एक महत्वपूर्ण क्षेत्रीय संगठन के रूप में बढ़ रहा है ।” कथन को न्यायोचित ठहराइए । 6

29. (क) स्वतंत्रता के तुरन्त बाद भारत के समक्ष आई किन्हीं तीन चुनौतियों का वर्णन कीजिए । 6

अथवा

- (ख) मणिपुर देसी रियासत को भारतीय संघ में विलय की ओर ले जाने वाले घटनाक्रम का वर्णन कीजिए । 6

Note : The following questions are for the **Visually Impaired Candidates** only, in lieu of Q. No. 26 :

2+1+1=4

(26.1) Highlight any two reasons for the defeat of the Congress Party in the general elections of 1977.

(26.2) Name the political party that won the general elections in 1977.

(26.3) Name the Prime Minister of India when the Congress Party won the elections in 1980.

SECTION E

27. (a) Describe any four major developments in Indian politics since 1989. 6

OR

(b) Describe any three issues on which a general consensus has emerged among most of the political parties of India. 6

28. (a) Analyse any four factors that make the European Union an influential regional organisation. 6

OR

(b) "ASEAN is rapidly growing into a very important regional organisation." Justify the statement. 6

29. (a) Describe any three challenges faced by India just after independence. 6

OR

(b) Describe the events that lead to the merger of the princely state of Manipur into the Indian Union. 6

30. (क) उन आधारों की व्याख्या कीजिए जिनके बल पर भारत संयुक्त राष्ट्र सुरक्षा परिषद् में स्थायी सदस्यता प्राप्त करने का दावा करता है । 6

अथवा

- (ख) संयुक्त राष्ट्र महासभा द्वारा 1992 में संयुक्त राष्ट्र सुरक्षा परिषद् में सुधार लाने के लिए स्वीकृत प्रस्ताव में दर्ज तीन मुख्य शिकायतों की व्याख्या कीजिए । 6

30. (a) Explain the grounds on the basis of which India seeks to become a permanent member of the UN Security Council. 6

OR

(b) Explain the three main complaints reflected in the resolution adopted by the UN General Assembly in 1992 to reform the UN Security Council. 6

Series S3RQP/3

Set-1

प्रश्न-पत्र कोड
Q.P. Code

59/3/1

रोल नं.
Roll No.



परीक्षार्थी प्रश्न-पत्र कोड को उत्तर-पुस्तिका के मुख-पृष्ठ पर अवश्य लिखें।
Candidates must write the Q.P. Code on the title page of the answer-book.

राजनीति विज्ञान POLITICAL SCIENCE

निर्धारित समय : 3 घण्टे

अधिकतम अंक : 80

Time allowed : 3 hours

Maximum Marks : 80

नोट	NOTE
(I) कृपया जाँच कर लें कि इस प्रश्न-पत्र में मुद्रित पृष्ठ 23 हैं।	(I) Please check that this question paper contains 23 printed pages.
(II) कृपया जाँच कर लें कि इस प्रश्न-पत्र में 30 प्रश्न हैं।	(II) Please check that this question paper contains 30 questions.
(III) प्रश्न-पत्र में दाहिने हाथ की ओर दिए गए प्रश्न-पत्र कोड को परीक्षार्थी उत्तर-पुस्तिका के मुख-पृष्ठ पर लिखें।	(III) Q.P. Code given on the right hand side of the question paper should be written on the title page of the answer-book by the candidate.
(IV) कृपया प्रश्न का उत्तर लिखना शुरू करने से पहले, उत्तर-पुस्तिका में प्रश्न का क्रमांक अवश्य लिखें।	(IV) Please write down the serial number of the question in the answer-book before attempting it.
(V) इस प्रश्न-पत्र को पढ़ने के लिए 15 मिनट का समय दिया गया है। प्रश्न-पत्र का वितरण पूर्वाह्न में 10.15 बजे किया जाएगा। 10.15 बजे से 10.30 बजे तक छात्र केवल प्रश्न-पत्र को पढ़ेंगे और इस अवधि के दौरान वे उत्तर-पुस्तिका पर कोई उत्तर नहीं लिखेंगे।	(V) 15 minute time has been allotted to read this question paper. The question paper will be distributed at 10.15 a.m. From 10.15 a.m. to 10.30 a.m., the students will read the question paper only and will not write any answer on the answer-book during this period.

सामान्य निर्देश:

निम्नलिखित निर्देशों को बहुत सावधानी से पढ़िए और उनका पालन कीजिए :

- (i) इस प्रश्न-पत्र में 30 प्रश्न हैं। सभी प्रश्न अनिवार्य हैं।
- (ii) प्रश्न-पत्र पाँच खण्डों में विभाजित है – खण्ड क, ख, ग, घ एवं ङ।
- (iii) खण्ड क – प्रश्न संख्या 1 से 12 तक बहुविकल्पीय प्रकार के प्रश्न हैं। प्रत्येक प्रश्न 1 अंक का है।
- (iv) खण्ड ख – प्रश्न संख्या 13 से 18 तक लघु-उत्तरीय प्रकार के प्रश्न हैं। प्रत्येक प्रश्न 2 अंकों का है। प्रत्येक प्रश्न का उत्तर 50 से 60 शब्दों में लिखिए।
- (v) खण्ड ग – प्रश्न संख्या 19 से 23 तक दीर्घ-उत्तरीय प्रकार-I के प्रश्न हैं। प्रत्येक प्रश्न 4 अंकों का है। प्रत्येक प्रश्न का उत्तर 100 से 120 शब्दों में लिखिए।
- (vi) खण्ड घ – प्रश्न संख्या 24 से 26 अवतरण, कार्टून तथा मानचित्र-आधारित प्रश्न हैं। प्रत्येक प्रश्न का उत्तर यथानुसार लिखिए।
- (vii) खण्ड ङ – प्रश्न संख्या 27 से 30 तक दीर्घ-उत्तरीय प्रकार-II के प्रश्न हैं। प्रत्येक प्रश्न 6 अंकों का है। प्रत्येक प्रश्न का उत्तर 170 से 180 शब्दों में लिखिए।
- (viii) प्रश्न-पत्र में कोई समग्र विकल्प नहीं है। यद्यपि कुछ प्रश्नों में आंतरिक विकल्प का प्रावधान दिया गया है। इन प्रश्नों में से केवल एक ही प्रश्न का उत्तर लिखा जाए।
- (ix) इसके अतिरिक्त, ध्यान दें कि दृष्टिबाधित परीक्षार्थियों के लिए फोटो तथा मानचित्र आदि आधारित प्रश्नों के स्थान पर एक अन्य प्रश्न दिया गया है। इन प्रश्नों के उत्तर केवल दृष्टिबाधित परीक्षार्थी ही लिखें।

खण्ड क

प्रश्न संख्या 1 से 12 तक बहुविकल्पीय प्रकार के 1 अंक के प्रश्न हैं।

$12 \times 1 = 12$

1. आपसी सहयोग विकसित करने के लिए 'सार्क' (दक्षेस), दक्षिण एशियाई राज्यों द्वारा की गई एक प्रमुख _____ पहल है।
 - (A) राजनीतिक
 - (B) सैनिक
 - (C) अन्तर्राष्ट्रीय
 - (D) क्षेत्रीय

General Instructions :

Read the following instructions very carefully and follow them :

- (i) This question paper contains **30** questions. **All** questions are **compulsory**.
- (ii) Question paper is divided into **five** sections – **Sections A, B, C, D and E**.
- (iii) **Section A** – questions number **1** to **12** are Multiple Choice type questions. Each question carries **1** mark.
- (iv) **Section B** – questions number **13** to **18** are Short Answer type questions. Each question carries **2** marks. Write answer to each question in **50** to **60** words.
- (v) **Section C** – questions number **19** to **23** are Long Answer type-I questions. Each question carries **4** marks. Write answer to each question in **100** to **120** words.
- (vi) **Section D** – questions number **24** to **26** are Passage, Cartoon and Map-based questions. Answer each question accordingly.
- (vii) **Section E** – questions number **27** to **30** are Long Answer type-II questions. Each question carries **6** marks. Write answer to each question in **170** to **180** words.
- (viii) There is no overall choice in the question paper. However, an internal choice has been provided in few questions. Only **one** of the choices in such questions has to be attempted.
- (ix) In addition to this, note that a separate question has been provided for Visually Impaired candidates in lieu of questions having visual inputs, map etc. Such questions are to be attempted by Visually Impaired candidates only.

SECTION A

Questions number **1** to **12** are Multiple Choice type questions, carrying **1** mark each.

$12 \times 1 = 12$

1. The 'SAARC' is a major _____ initiative by South Asian States to evolve mutual cooperation.
 - (A) Political
 - (B) Military
 - (C) International
 - (D) Regional

2. भारत के किस क्षेत्र को 'सात बहनें' कहा जाता है ?
- (A) उत्तर-पूर्व क्षेत्र (B) दक्षिण-पश्चिम क्षेत्र
(C) उत्तर-पश्चिम क्षेत्र (D) दक्षिण-पूर्व क्षेत्र
3. 1975 में जनता के 'संसद मार्च' का नेतृत्व किसने किया था ?
- (A) जगजीवन राम
(B) एस.के. पाटिल
(C) चारु मजूमदार
(D) जयप्रकाश नारायण
4. 1974 में किन दो राज्यों के छात्रों ने बढ़ती खाद्य कीमतों के खिलाफ आंदोलन किया था ?
- (A) उत्तर प्रदेश और बिहार
(B) राजस्थान और बिहार
(C) बिहार और गुजरात
(D) बिहार और मध्य प्रदेश
5. निम्नलिखित घटनाओं को कालक्रमानुसार व्यवस्थित कीजिए :
- (i) विश्व बैंक की स्थापना
(ii) विश्व व्यापार संगठन की स्थापना
(iii) संयुक्त राष्ट्र संघ की स्थापना
(iv) अन्तर्राष्ट्रीय आण्विक ऊर्जा एजेन्सी की स्थापना
- सही विकल्प चुनिए :
- (A) (i), (iii), (iv), (ii)
(B) (ii), (i), (iii), (iv)
(C) (iii), (ii), (i), (iv)
(D) (iii), (i), (iv), (ii)

2. Which region of India is referred to as the 'Seven Sisters' ?
- (A) North-East region (B) South-West region
(C) North-West region (D) South-East region
3. Who led the 'Peoples' March' to the Parliament in 1975 ?
- (A) Jagjivan Ram
(B) S.K. Patil
(C) Charu Majumdar
(D) Jayaprakash Narayan
4. Students of which two states started an agitation against the rising food prices in 1974 ?
- (A) Uttar Pradesh and Bihar
(B) Rajasthan and Bihar
(C) Bihar and Gujarat
(D) Bihar and Madhya Pradesh
5. Arrange the following events in chronological order :
- (i) Establishment of the World Bank
(ii) Establishment of the WTO
(iii) Establishment of the UNO
(iv) Establishment of the IAEA
- Choose the correct option :
- (A) (i), (iii), (iv), (ii)
(B) (ii), (i), (iii), (iv)
(C) (iii), (ii), (i), (iv)
(D) (iii), (i), (iv), (ii)

प्रश्न संख्या 6 के लिए, दो कथन दिए गए हैं — जिनमें एक को अभिकथन (A) तथा दूसरे को कारण (R) द्वारा अंकित किया गया है। इन कथनों को ध्यान से पढ़िए और नीचे दिए गए विकल्पों (A), (B), (C) और (D) में से उत्तर के रूप में सही विकल्प चुनिए।

6. अभिकथन (A) : राजा ने सेना की मदद से सरकार पर पूर्ण नियंत्रण बनाए रखा और नेपाल में लोकतंत्र के विस्तार को प्रतिबंधित कर दिया।

कारण (R) : राजा ने 2001 में एक मजबूत लोकतंत्र-समर्थक आंदोलन के कारण एक नए लोकतांत्रिक संविधान की माँग को स्वीकार कर लिया।

विकल्प :

- (A) अभिकथन (A) और कारण (R) दोनों सही हैं और कारण (R), अभिकथन (A) की सही व्याख्या करता है।
- (B) अभिकथन (A) और कारण (R) दोनों सही हैं, परन्तु कारण (R), अभिकथन (A) की सही व्याख्या नहीं करता है।
- (C) अभिकथन (A) सही है, परन्तु कारण (R) ग़लत है।
- (D) अभिकथन (A) ग़लत है, परन्तु कारण (R) सही है।
7. निम्नलिखित में से कौन-सा आंदोलन उत्तर-पूर्व के लोगों द्वारा अपनी क्षेत्रीय आकांक्षाओं को व्यक्त करने के लिए नहीं किया गया था ?
- (A) बाहरी लोगों के खिलाफ आंदोलन
- (B) अधिक स्वायत्तता के लिए आंदोलन
- (C) पूर्वोत्तर के राज्यों का संघ बनाने के लिए आंदोलन
- (D) अलगाव के लिए आंदोलन

8. सूची I का सूची II से सही मिलान कीजिए :

सूची I	सूची II
1. यूरोपीय मुद्रा	(i) फ्रांस
2. विशेष आर्थिक क्षेत्र	(ii) आसियान
3. संयुक्त राष्ट्र सुरक्षा परिषद् का स्थाई सदस्य देश	(iii) यूरो
4. क्षेत्रीय संगठन	(iv) चीन

सही विकल्प चुनिए :

- (A) 1-(iii), 2-(iv), 3-(i), 4-(ii) (B) 1-(iii), 2-(i), 3-(ii), 4-(iv)
- (C) 1-(ii), 2-(i), 3-(iv), 4-(iii) (D) 1-(iv), 2-(ii), 3-(iii), 4-(i)

For Question number 6, two statements are given — one labelled as Assertion (A) and the other labelled as Reason (R). Read these statements carefully and choose the correct option as the answer from the options (A), (B), (C) and (D) given below.

6. Assertion (A) : The king, with the help of the army, retained full control over the government and restricted the expansion of democracy in Nepal.

Reason (R) : The king accepted the demand for a new democratic constitution in 2001, in the wake of a strong pro-democracy movement.

Options :

- (A) Both Assertion (A) and Reason (R) are true and Reason (R) is the correct explanation of the Assertion (A).
- (B) Both Assertion (A) and Reason (R) are true, but Reason (R) is **not** the correct explanation of the Assertion (A).
- (C) Assertion (A) is true, but Reason (R) is false.
- (D) Assertion (A) is false, but Reason (R) is true.

7. Which one of the following movements was **not** started by the people of North-East to express their regional aspirations ?

- (A) Movement against outsiders
- (B) Movement for greater autonomy
- (C) Movement to form a union of North-East States
- (D) Movement for secession

8. Match List I correctly with List II :

<i>List I</i>		<i>List II</i>
1. European Currency	(i)	France
2. Special Economic Zone	(ii)	ASEAN
3. A permanent member country of UN Security Council	(iii)	Euro
4. A Regional Organisation	(iv)	China

Choose the correct option :

- (A) 1-(iii), 2-(iv), 3-(i), 4-(ii)
- (B) 1-(iii), 2-(i), 3-(ii), 4-(iv)
- (C) 1-(ii), 2-(i), 3-(iv), 4-(iii)
- (D) 1-(iv), 2-(ii), 3-(iii), 4-(i)

9. भारत के प्रथम आम चुनाव में, कौन-सा राजनीतिक दल लोक सभा की सीटें जीतने में दूसरे स्थान पर था ?
- (A) सोशलिस्ट पार्टी
(B) कम्युनिस्ट पार्टी ऑफ इन्डिया
(C) भारतीय जनसंघ
(D) स्वतंत्र पार्टी

प्रश्न संख्या 10 के लिए, दो कथन दिए गए हैं — जिनमें एक को अभिकथन (A) तथा दूसरे को कारण (R) द्वारा अंकित किया गया है। इन कथनों को ध्यान से पढ़िए और नीचे दिए गए विकल्पों (A), (B), (C) और (D) में से उत्तर के रूप में सही विकल्प चुनिए।

10. अभिकथन (A) : भारत में प्रथम आम चुनाव को दो बार स्थगित करना पड़ा और अंत में अक्टूबर 1951 से फरवरी 1952 तक चुनाव आयोजित किए गए।

कारण (R) : अब यह तर्क देना संभव नहीं था कि गरीबी या अशिक्षा के माहौल में लोकतांत्रिक चुनाव नहीं हो सकते हैं।

विकल्प :

- (A) अभिकथन (A) और कारण (R) दोनों सही हैं और कारण (R), अभिकथन (A) की सही व्याख्या करता है।
(B) अभिकथन (A) और कारण (R) दोनों सही हैं, परन्तु कारण (R), अभिकथन (A) की सही व्याख्या नहीं करता है।
(C) अभिकथन (A) सही है, परन्तु कारण (R) ग़लत है।
(D) अभिकथन (A) ग़लत है, परन्तु कारण (R) सही है।

9. Which political party was at the second place in winning the Lok Sabha seats in the first general elections of India ?
- (A) Socialist Party
 - (B) The Communist Party of India
 - (C) Bharatiya Jana Sangh
 - (D) Swatantra Party

For Question number 10, two statements are given — one labelled as Assertion (A) and the other labelled as Reason (R). Read these statements carefully and choose the correct option as the answer from the options (A), (B), (C) and (D) given below.

10. *Assertion (A) :* The first general elections in India had to be postponed twice and were finally held from October 1951 to February 1952.

Reason (R) : It was no longer possible to argue that democratic elections could not be held in conditions of poverty or lack of education.

Options :

- (A) Both Assertion (A) and Reason (R) are true and Reason (R) is the correct explanation of the Assertion (A).
- (B) Both Assertion (A) and Reason (R) are true, but Reason (R) is **not** the correct explanation of the Assertion (A).
- (C) Assertion (A) is true, but Reason (R) is false.
- (D) Assertion (A) is false, but Reason (R) is true.

11. श्रीलंका में जातीय संघर्ष के बारे में निम्नलिखित में से कौन-सा कथन *ग़लत* है ?
- (A) श्रीलंका में राजनीति सिंहलियों के पक्ष में थी ।
- (B) तमिलों के हितों की उपेक्षा की गई ।
- (C) लिट्टे को सार्क देशों का समर्थन प्राप्त था ।
- (D) श्रीलंका की जातीय समस्या में सिंहली और तमिल शामिल थे ।
12. संयुक्त राष्ट्र की स्थापना निम्नलिखित में से किस उद्देश्य के लिए की गई थी ?
- (A) सदस्य देशों के बीच व्यापार को बढ़ावा देने के लिए ।
- (B) अंतर्राष्ट्रीय संघर्ष को रोकने एवं सदस्य देशों में सहयोग बढ़ाने के लिए ।
- (C) युद्ध के समय सहायता प्रदान करने के लिए ।
- (D) सैन्य गठबंधनों के निर्माण में सदस्य देशों की सहायता करने के लिए ।

खण्ड ख

13. बांग्लादेश के संविधान की किन्हीं दो विशेषताओं को उजागर कीजिए । 2
14. आसियान के किन्हीं दो उद्देश्यों का उल्लेख कीजिए । 2
15. भारत और चीन के मध्य किन्हीं दो मतभेदों का विश्लेषण कीजिए, जिनके कारण 1962 में सैन्य संघर्ष हुआ था । 2
16. 'नीति आयोग' का गठन किस वर्ष में और किस संस्था के स्थान पर किया गया ? 2
17. स्वतंत्रता आंदोलन के दौरान एक वैचारिक गठबंधन के रूप में कांग्रेस पार्टी की प्रकृति को स्पष्ट कीजिए । 2
18. राष्ट्रीय आपातकाल घोषित करने के कोई दो प्रभाव लिखिए । 2

11. Which one of the following statements about the ethnic conflict in Sri Lanka is *false* ?
- (A) Politics in Sri Lanka favoured the Sinhalese.
 - (B) Interests of Tamils were neglected.
 - (C) LTTE was supported by the SAARC countries.
 - (D) The Sri Lanka ethnic problem involved the Sinhalese and the Tamils.
12. UN was established with the objective to :
- (A) boost trade among the member states.
 - (B) prevent international conflict and facilitate cooperation among member states.
 - (C) provide help at the time of war.
 - (D) help the member states in formation of military alliances.

SECTION B

13. Highlight any two features of the Constitution of Bangladesh. 2
14. State any two objectives of ASEAN. 2
15. Analyse any two differences between India and China which led to a military conflict in 1962. 2
16. In which year was 'NITI Aayog' constituted and which organisation did it replace ? 2
17. Explain the nature of the Congress party as an ideological coalition during the freedom movement. 2
18. State any two effects of imposing national emergency. 2

खण्ड ग

19. “क्षेत्रीय आकांक्षाएँ तथा उनका समायोजन भारतीय लोकतांत्रिक राजनीति का एक अभिन्न अंग हैं।” किन्हीं दो उपयुक्त तर्कों से कथन की पुष्टि कीजिए। 4
20. श्रीलंका में आन्तरिक संघर्ष के बावजूद आर्थिक वृद्धि के लिए उत्तरदायी किन्हीं दो कारकों का वर्णन कीजिए। 4
21. वैश्वीकरण के कोई दो राजनीतिक परिणाम लिखिए। 4
22. (क) भारत में गठबंधन सरकारें किस प्रकार लोकतंत्र के लिए वरदान साबित हुई हैं ? स्पष्ट कीजिए। 4

अथवा

- (ख) 2014 के चुनावों में जनता केन्द्र में एक स्थिर सरकार के पक्ष में क्यों थी ? किन्हीं दो कारणों को स्पष्ट कीजिए। 4
23. (क) “भारत ने विभिन्न आधारों पर संयुक्त राष्ट्र के पुनर्गठन का समर्थन किया है।” कथन की पुष्टि कीजिए। 4

अथवा

- (ख) “संयुक्त राष्ट्र में सुधार लाने का अर्थ सुरक्षा परिषद् का पुनर्गठन करना है।” कथन को न्यायसंगत ठहराइए। 4

खण्ड घ

24. निम्नलिखित अवतरण को ध्यानपूर्वक पढ़िए और नीचे दिए गए प्रश्नों के उत्तर दीजिए : $4 \times 1 = 4$
1980 के दशक में दलित जातियों के राजनीतिक संगठनों का भी उदय हुआ। 1978 में ‘बामसेफ’ (BAMCEF) का गठन हुआ। यह संगठन सरकारी कर्मचारियों का कोई साधारण ट्रेड यूनियन नहीं था। इस संगठन ने ‘बहुजन’ यानि अनुसूचित जाति, अनुसूचित जनजाति, अन्य पिछड़ा वर्ग और अल्पसंख्यकों की राजनीतिक सत्ता की ज़बरदस्त तरफ़दारी की। इसी का परवर्ती विकास ‘दलित-शोषित समाज संघर्ष समिति’ है, जिससे बाद के समय में बहुजन समाज पार्टी (बसपा) का उदय हुआ।

SECTION C

19. “Regional aspirations and their accommodation are an integral part of Indian democratic politics.” Support the statement with any two suitable arguments. 4
20. Describe any two factors responsible for the economic growth in Sri Lanka despite the internal conflicts. 4
21. Write any two political consequences of globalisation. 4
22. (a) How did the coalition governments prove to be a boon for democracy in India ? Explain. 4
- OR**
- (b) In the 2014 elections, why were people in favour of a stable government at the Centre ? Explain any two reasons. 4
23. (a) “India has supported the restructuring of the United Nations on several grounds.” Support the statement. 4
- OR**
- (b) “Reforming the United Nations means restructuring of the Security Council.” Justify the statement. 4

SECTION D

24. Read the following passage carefully and answer the questions that follow : 4×1=4
- The 1980s also saw the rise of political organisations of the Dalits. In 1978 the ‘BAMCEF’ was formed. This organisation was not an ordinary trade union of government employees. It took a strong position in favour of political power to the ‘bahujan’ – the SC, ST, OBC and minorities. It was out of this that the subsequent Dalit Shoshit Samaj Sangharsh Samiti and later the Bahujan Samaj Party (BSP) emerged.

- (i) बामसेफ का सही पूर्ण रूप चुनिए :
- (A) बहुजन और अल्पसंख्यक समुदाय कर्मचारी संघ
(B) बहुजन और अल्पसंख्यक समुदाय कर्मचारी संस्थान
(C) पिछड़ा और अल्पसंख्यक समुदाय कर्मचारी संघ
(D) पिछड़ा और अल्पसंख्यक समुदाय कर्मचारी संस्थान
- (ii) बहुजन समाज पार्टी का गठन किस वर्ष में हुआ था ?
- (A) 1981
(B) 1984
(C) 1989
(D) 1991
- (iii) बहुजन समाज पार्टी का संस्थापक नेता कौन था ?
- (A) बी.आर. अम्बेडकर
(B) मायावती
(C) मुलायम सिंह
(D) कांशीराम
- (iv) बहुजन समाज पार्टी (बसपा) ने किस राज्य में अपनी पहली सरकार गठित की थी ?
- (A) पंजाब
(B) हरियाणा
(C) उत्तर प्रदेश
(D) राजस्थान

- (i) Choose the correct full form of BAMCEF :
- (A) Bahujan and Minority Communities Employees Federation
 - (B) Bahujan and Minority Communities Employees Foundation
 - (C) Backward and Minority Communities Employees Federation
 - (D) Backward and Minority Communities Employees Foundation
- (ii) In which year was the Bahujan Samaj Party formed ?
- (A) 1981
 - (B) 1984
 - (C) 1989
 - (D) 1991
- (iii) Who was the founder leader of Bahujan Samaj Party ?
- (A) B.R. Ambedkar
 - (B) Mayawati
 - (C) Mulayam Singh
 - (D) Kanshi Ram
- (iv) In which State did the Bahujan Samaj Party (BSP) form its first government ?
- (A) Punjab
 - (B) Haryana
 - (C) Uttar Pradesh
 - (D) Rajasthan

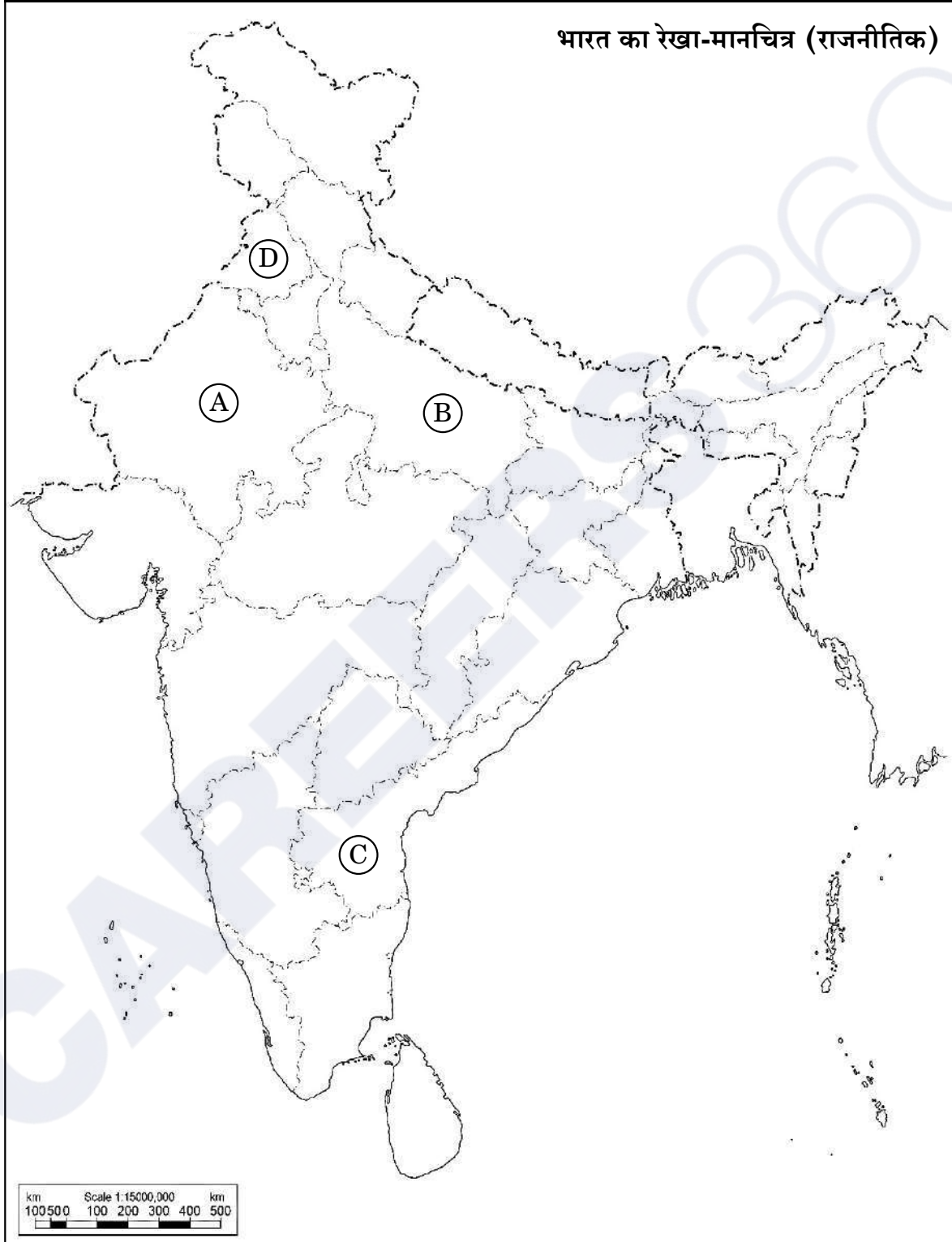
25. भारत के दिए गए राजनीतिक रेखा-मानचित्र (पृष्ठ 17 पर) में चार राज्यों को (A), (B), (C) तथा (D) के द्वारा अंकित किया गया है। नीचे दी गई जानकारी के आधार पर इन राज्यों की पहचान कीजिए और अपनी उत्तर-पुस्तिका में इनके सही नाम, प्रयोग की गई जानकारी की क्रम-संख्या तथा मानचित्र में दिया गया संबंधित अक्षर, नीचे दी गई तालिका के रूप में लिखिए :

4×1=4

प्रयोग की गई जानकारी की क्रम-संख्या	मानचित्र में दिया गया संबंधित अक्षर	राज्य का नाम
(i)		
(ii)		
(iii)		
(iv)		

- (i) वह राज्य जहाँ काँग्रेस पार्टी को 1967 के चुनावों में बहुमत हासिल नहीं हुआ था।
- (ii) वह राज्य जहाँ काँग्रेस पार्टी ने 1967 के चुनावों में बहुमत हासिल नहीं किया था, परंतु अन्य दलों के समर्थन से सरकार बना ली थी।
- (iii) समाजवादी नेता राम मनोहर लोहिया से संबंधित राज्य।
- (iv) भारत के पूर्व राष्ट्रपति वी.वी. गिरि से संबंधित राज्य।

प्रश्न सं. 25 के लिए



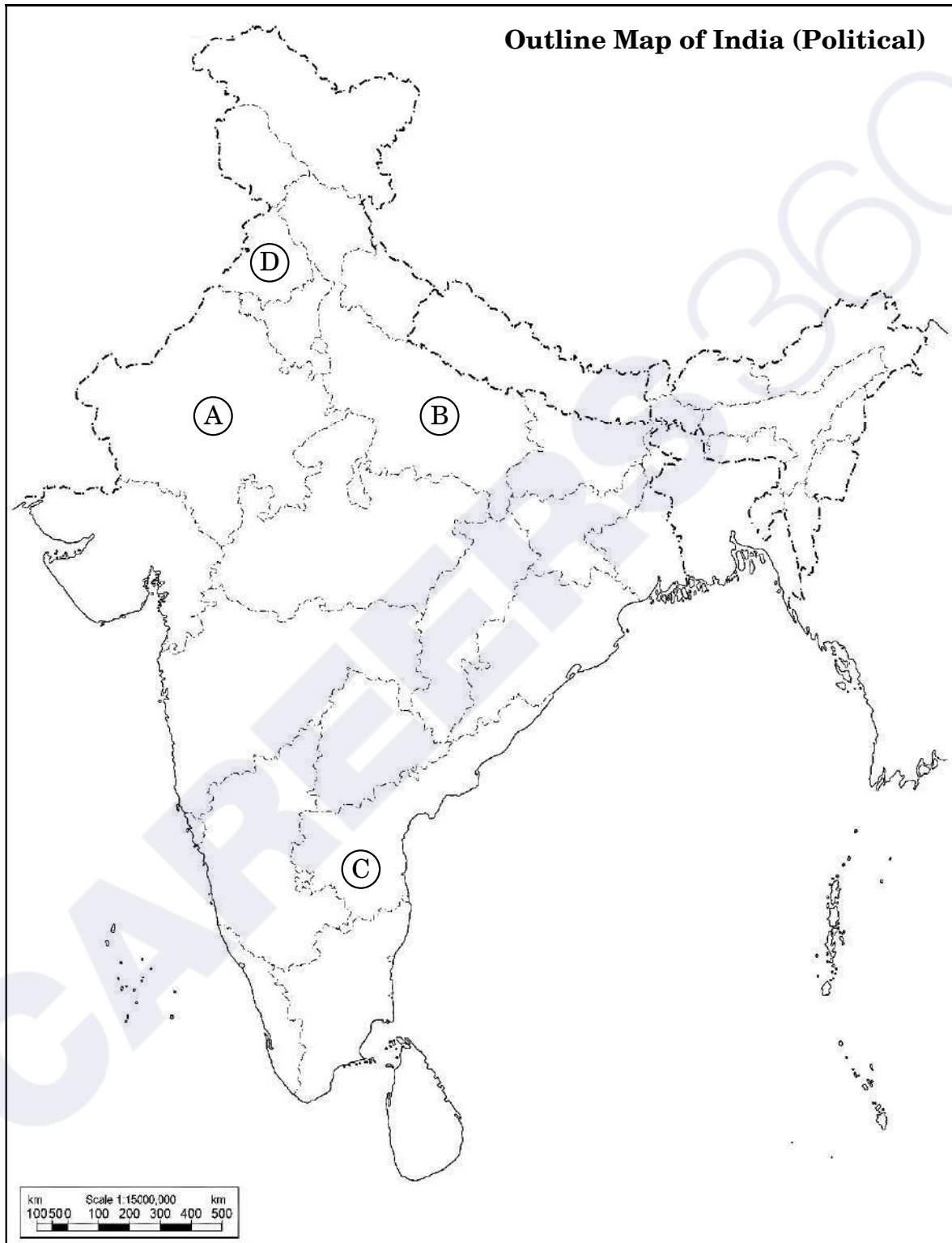
25. In the given political outline map of **India** (on page 19), four States have been marked as **Ⓐ**, **Ⓑ**, **Ⓒ** and **Ⓓ**. Identify these States on the basis of the information given below and write their correct names in your answer-book along with the respective serial number of the information used and the concerned alphabets given in the map as per the following format :

4×1=4

Serial number of the information used	Concerned alphabet given in the map	Name of the State
(i)		
(ii)		
(iii)		
(iv)		

- (i) The State where the Congress party did not secure majority in 1967 elections.
- (ii) The State where Congress party did not secure majority in 1967 elections but formed the government with the support of other parties.
- (iii) The State related to Samajwadi leader, Ram Manohar Lohia.
- (iv) The State related to the former President of India, V.V. Giri.

For question no. 25



नोट : निम्नलिखित प्रश्न केवल दृष्टिबाधित परीक्षार्थियों के लिए प्रश्न संख्या 25 के स्थान पर हैं :

4×1=4

- (25.1) लाल बहादुर शास्त्री ने कौन-सा प्रसिद्ध नारा दिया था ?
(25.2) भारतीय राजनीति के किस दशक को 'खतरनाक दशक' कहा जाता है ?
(25.3) 1969 के राष्ट्रपति चुनाव में इन्दिरा गाँधी ने किस उम्मीदवार का समर्थन किया था ?
(25.4) 'आया राम, गया राम' जुमले से सम्बन्धित राज्य कौन-सा है ?

26. बर्लिन की दीवार से संबंधित नीचे दिए गए चित्र का अध्ययन कीजिए तथा निम्नलिखित प्रश्नों के उत्तर दीजिए :

1+1+2=4



- (i) बर्लिन की दीवार किस बात का प्रतीक थी ?
(ii) बर्लिन की दीवार किन दो देशों के बीच बनी हुई थी ?
(iii) बर्लिन की दीवार के टूटने के किन्हीं दो परिणामों को उजागर कीजिए ।

नोट : निम्नलिखित प्रश्न केवल दृष्टिबाधित परीक्षार्थियों के लिए प्रश्न संख्या 26 के स्थान पर हैं :

4×1=4

- (26.1) द्वितीय विश्व युद्ध किस वर्ष समाप्त हुआ था ?
(26.2) बर्लिन की दीवार किस वर्ष बनाई गई थी ?
(26.3) सोवियत संघ का विघटन किस वर्ष हुआ था ?
(26.4) 1985 में सोवियत संघ की कम्युनिस्ट पार्टी का महासचिव बनने वाले नेता का नाम लिखिए ।

Note : The following questions are for the **Visually Impaired Candidates** only, in lieu of Q. No. 25 :

4×1=4

- (25.1) Which popular slogan was given by Lal Bahadur Shastri ?
- (25.2) Which decade of Indian politics has been referred to as the 'dangerous decade' ?
- (25.3) Which candidate was supported by Indira Gandhi for the post of President in 1969 ?
- (25.4) Which State is related to the phrase 'Aya Ram, Gaya Ram' ?

26. Study the picture given below related to the Berlin Wall and answer the questions that follow :

1+1+2=4



- (i) What did the Berlin Wall symbolise ?
- (ii) Between which two countries was the Berlin Wall built ?
- (iii) Highlight any two outcomes of breaking of the Berlin Wall.

Note : The following questions are for the **Visually Impaired Candidates** only, in lieu of Q. No. 26.

4×1=4

- (26.1) In which year did the Second World War end ?
- (26.2) In which year was the Berlin Wall built ?
- (26.3) In which year did the Soviet Union disintegrate ?
- (26.4) Name the leader who became the General Secretary of the Communist Party of the Soviet Union in 1985.

खण्ड ड

27. (क) “साझी लेकिन अलग-अलग ज़िम्मेदारियों” के सिद्धांत ने किस प्रकार ‘उत्तरी गोलार्द्ध’ और ‘दक्षिणी गोलार्द्ध’ के बीच पर्यावरण के मुद्दों पर अंतर को दूर करने में सहायता की है? स्पष्ट कीजिए। 6

अथवा

- (ख) पर्यावरण की रक्षा एवं संरक्षण के लिए भारत सरकार द्वारा शुरू किए गए किन्हीं तीन कार्यक्रमों की व्याख्या कीजिए। 6

28. (क) द्वितीय विश्व युद्ध के पश्चात् एशिया और अफ्रीका के नव स्वतंत्र देशों के सामने आई किन्हीं तीन सुरक्षा चुनौतियों की व्याख्या कीजिए। 6

अथवा

- (ख) भारतीय सुरक्षा रणनीति के किन्हीं तीन घटकों की व्याख्या कीजिए। 6

29. (क) कोई तीन तर्क देकर भारत द्वारा अपनाई गई ‘गुटनिरपेक्षता की नीति’ को न्यायोचित ठहराइए। 6

अथवा

- (ख) “स्वतंत्र भारत की विदेश नीति ने एक शांतिपूर्ण विश्व के सपने को साकार करने का प्रयास किया है।” तीन उपयुक्त तर्कों के साथ कथन की पुष्टि कीजिए। 6

30. (क) 1947 में स्वतंत्रता के समय भारत के समक्ष आई किन्हीं तीन मुख्य चुनौतियों का वर्णन कीजिए। 6

अथवा

- (ख) 1947 में ब्रिटिश इन्डिया के विभाजन की प्रक्रिया में आई किन्हीं तीन प्रमुख कठिनाइयों का वर्णन कीजिए। 6

SECTION E

27. (a) In what ways has the principle of 'common but differentiated responsibilities' helped in addressing and overcoming the differences between the 'Global North' and 'Global South' over environmental issues ? Explain. 6

OR

- (b) Explain any three programmes initiated by the Government of India to protect and conserve the environment. 6

28. (a) Explain any three security challenges faced by the newly independent countries of Asia and Africa after the Second World War. 6

OR

- (b) Explain any three components of the Indian security strategy. 6

29. (a) Justify the 'policy of Non-Alignment' adopted by India, by giving any three arguments. 6

OR

- (b) "Foreign policy of independent India has pursued the dream of a peaceful world." Support the statement with three suitable arguments. 6

30. (a) Describe any three major challenges faced by India at the time of independence in 1947. 6

OR

- (b) Describe any three major difficulties that came in the way of the partition of British India in 1947. 6

Series S3RQP/3

Set-2

प्रश्न-पत्र कोड
Q.P. Code

59/3/2

रोल नं.
Roll No.

परीक्षार्थी प्रश्न-पत्र कोड को उत्तर-पुस्तिका के मुख-पृष्ठ पर अवश्य लिखें।
Candidates must write the Q.P. Code on the title page of the answer-book.



राजनीति विज्ञान POLITICAL SCIENCE

निर्धारित समय : 3 घण्टे

अधिकतम अंक : 80

Time allowed : 3 hours

Maximum Marks : 80

नोट	NOTE
(I) कृपया जाँच कर लें कि इस प्रश्न-पत्र में मुद्रित पृष्ठ 23 हैं।	(I) Please check that this question paper contains 23 printed pages.
(II) कृपया जाँच कर लें कि इस प्रश्न-पत्र में 30 प्रश्न हैं।	(II) Please check that this question paper contains 30 questions.
(III) प्रश्न-पत्र में दाहिने हाथ की ओर दिए गए प्रश्न-पत्र कोड को परीक्षार्थी उत्तर-पुस्तिका के मुख-पृष्ठ पर लिखें।	(III) Q.P. Code given on the right hand side of the question paper should be written on the title page of the answer-book by the candidate.
(IV) कृपया प्रश्न का उत्तर लिखना शुरू करने से पहले, उत्तर-पुस्तिका में प्रश्न का क्रमांक अवश्य लिखें।	(IV) Please write down the serial number of the question in the answer-book before attempting it.
(V) इस प्रश्न-पत्र को पढ़ने के लिए 15 मिनट का समय दिया गया है। प्रश्न-पत्र का वितरण पूर्वाह्न में 10.15 बजे किया जाएगा। 10.15 बजे से 10.30 बजे तक छात्र केवल प्रश्न-पत्र को पढ़ेंगे और इस अवधि के दौरान वे उत्तर-पुस्तिका पर कोई उत्तर नहीं लिखेंगे।	(V) 15 minute time has been allotted to read this question paper. The question paper will be distributed at 10.15 a.m. From 10.15 a.m. to 10.30 a.m., the students will read the question paper only and will not write any answer on the answer-book during this period.

सामान्य निर्देश :

निम्नलिखित निर्देशों को बहुत सावधानी से पढ़िए और उनका पालन कीजिए :

- (i) इस प्रश्न-पत्र में 30 प्रश्न हैं। सभी प्रश्न अनिवार्य हैं।
- (ii) प्रश्न-पत्र पाँच खण्डों में विभाजित है – खण्ड क, ख, ग, घ एवं ङ।
- (iii) खण्ड क – प्रश्न संख्या 1 से 12 तक बहुविकल्पीय प्रकार के प्रश्न हैं। प्रत्येक प्रश्न 1 अंक का है।
- (iv) खण्ड ख – प्रश्न संख्या 13 से 18 तक लघु-उत्तरीय प्रकार के प्रश्न हैं। प्रत्येक प्रश्न 2 अंकों का है। प्रत्येक प्रश्न का उत्तर 50 से 60 शब्दों में लिखिए।
- (v) खण्ड ग – प्रश्न संख्या 19 से 23 तक दीर्घ-उत्तरीय प्रकार-I के प्रश्न हैं। प्रत्येक प्रश्न 4 अंकों का है। प्रत्येक प्रश्न का उत्तर 100 से 120 शब्दों में लिखिए।
- (vi) खण्ड घ – प्रश्न संख्या 24 से 26 अवतरण, कार्टून तथा मानचित्र-आधारित प्रश्न हैं। प्रत्येक प्रश्न का उत्तर यथानुसार लिखिए।
- (vii) खण्ड ङ – प्रश्न संख्या 27 से 30 तक दीर्घ-उत्तरीय प्रकार-II के प्रश्न हैं। प्रत्येक प्रश्न 6 अंकों का है। प्रत्येक प्रश्न का उत्तर 170 से 180 शब्दों में लिखिए।
- (viii) प्रश्न-पत्र में कोई समग्र विकल्प नहीं है। यद्यपि कुछ प्रश्नों में आंतरिक विकल्प का प्रावधान दिया गया है। इन प्रश्नों में से केवल एक ही प्रश्न का उत्तर लिखा जाए।
- (ix) इसके अतिरिक्त, ध्यान दें कि दृष्टिबाधित परीक्षार्थियों के लिए फोटो तथा मानचित्र आदि आधारित प्रश्नों के स्थान पर एक अन्य प्रश्न दिया गया है। इन प्रश्नों के उत्तर केवल दृष्टिबाधित परीक्षार्थी ही लिखें।

खण्ड क

प्रश्न संख्या 1 से 12 तक बहुविकल्पीय प्रकार के 1 अंक के प्रश्न हैं।

$12 \times 1 = 12$

1. आसियान की स्थापना के लिए निम्नलिखित में से किस एक पर हस्ताक्षर किए गए थे ?
 - (A) सिंगापुर घोषणा
 - (B) बैंकॉक घोषणा
 - (C) आसियान घोषणा
 - (D) बीजिंग घोषणा

General Instructions :

Read the following instructions very carefully and follow them :

- (i) This question paper contains **30** questions. **All** questions are **compulsory**.
- (ii) Question paper is divided into **five** sections – **Sections A, B, C, D and E**.
- (iii) **Section A** – questions number **1** to **12** are Multiple Choice type questions. Each question carries **1** mark.
- (iv) **Section B** – questions number **13** to **18** are Short Answer type questions. Each question carries **2** marks. Write answer to each question in **50** to **60** words.
- (v) **Section C** – questions number **19** to **23** are Long Answer type-I questions. Each question carries **4** marks. Write answer to each question in **100** to **120** words.
- (vi) **Section D** – questions number **24** to **26** are Passage, Cartoon and Map-based questions. Answer each question accordingly.
- (vii) **Section E** – questions number **27** to **30** are Long Answer type-II questions. Each question carries **6** marks. Write answer to each question in **170** to **180** words.
- (viii) There is no overall choice in the question paper. However, an internal choice has been provided in few questions. Only **one** of the choices in such questions has to be attempted.
- (ix) In addition to this, note that a separate question has been provided for Visually Impaired candidates in lieu of questions having visual inputs, map etc. Such questions are to be attempted by Visually Impaired candidates only.

SECTION A

Questions number **1** to **12** are Multiple Choice type questions, carrying **1** mark each.

$12 \times 1 = 12$

1. Which one of the following was signed to establish ASEAN ?
- (A) Singapore Declaration
 - (B) Bangkok Declaration
 - (C) ASEAN Declaration
 - (D) Beijing Declaration

प्रश्न संख्या 2 के लिए, दो कथन दिए गए हैं — जिनमें एक को अभिकथन (A) तथा दूसरे को कारण (R) द्वारा अंकित किया गया है। इन कथनों को ध्यान से पढ़िए और नीचे दिए गए विकल्पों (A), (B), (C) और (D) में से उत्तर के रूप में सही विकल्प चुनिए।

2. अभिकथन (A) : भारत और नेपाल के बीच मधुर सम्बन्ध हैं और दोनों देशों के बीच एक संधि हुई है।

कारण (R) : नेपाल के राजा ने 2001 में एक मजबूत लोकतंत्र-समर्थक आंदोलन के कारण एक नए लोकतांत्रिक संविधान की माँग को स्वीकार कर लिया।

विकल्प :

- (A) अभिकथन (A) और कारण (R) दोनों सही हैं और कारण (R), अभिकथन (A) की सही व्याख्या करता है।
- (B) अभिकथन (A) और कारण (R) दोनों सही हैं, परन्तु कारण (R), अभिकथन (A) की सही व्याख्या नहीं करता है।
- (C) अभिकथन (A) सही है, परन्तु कारण (R) ग़लत है।
- (D) अभिकथन (A) ग़लत है, परन्तु कारण (R) सही है।

3. किस घटना ने जनता पार्टी के गठन का मार्ग प्रशस्त किया ?

- (A) छात्र आंदोलन
- (B) 1969 का राष्ट्रपति चुनाव
- (C) 1975 की आपातकाल घोषणा
- (D) 1974 की रेल हड़ताल

4. निम्नलिखित में से कौन-सा आंदोलन उत्तर-पूर्व के लोगों द्वारा अपनी क्षेत्रीय आकांक्षाओं को व्यक्त करने के लिए नहीं किया गया था ?

- (A) बाहरी लोगों के खिलाफ आंदोलन
- (B) अधिक स्वायत्तता के लिए आंदोलन
- (C) पूर्वोत्तर के राज्यों का संघ बनाने के लिए आंदोलन
- (D) अलगाव के लिए आंदोलन

For Question number 2, two statements are given — one labelled as Assertion (A) and the other labelled as Reason (R). Read these statements carefully and choose the correct option as the answer from the options (A), (B), (C) and (D) given below.

2. Assertion (A) : India and Nepal enjoy friendly relations and both have signed a treaty.

Reason (R) : The king of Nepal accepted the demand for a new democratic constitution in 2001, in the wake of a strong pro-democracy movement.

Options :

- (A) Both Assertion (A) and Reason (R) are true and Reason (R) is the correct explanation of the Assertion (A).
- (B) Both Assertion (A) and Reason (R) are true, but Reason (R) is **not** the correct explanation of the Assertion (A).
- (C) Assertion (A) is true, but Reason (R) is false.
- (D) Assertion (A) is false, but Reason (R) is true.

3. Which incident paved the path to form the Janata Party ?

- (A) Students' Movement
- (B) Presidential Election of 1969
- (C) Declaration of Emergency in 1975
- (D) Railway Strike, 1974

4. Which one of the following movements was **not** started by the people of North-East to express their regional aspirations ?

- (A) Movement against outsiders
- (B) Movement for greater autonomy
- (C) Movement to form a union of North-East States
- (D) Movement for secession

5. श्रीलंका में जातीय संघर्ष के बारे में निम्नलिखित में से कौन-सा कथन *ग़लत* है ?

- (A) श्रीलंका में राजनीति सिंहलियों के पक्ष में थी ।
- (B) तमिलों के हितों की उपेक्षा की गई ।
- (C) लिट्टे को सार्क देशों का समर्थन प्राप्त था ।
- (D) श्रीलंका की जातीय समस्या में सिंहली और तमिल शामिल थे ।

6. भारत के किस क्षेत्र को 'सात बहनें' कहा जाता है ?

- (A) उत्तर-पूर्व क्षेत्र
- (B) दक्षिण-पश्चिम क्षेत्र
- (C) उत्तर-पश्चिम क्षेत्र
- (D) दक्षिण-पूर्व क्षेत्र

प्रश्न संख्या 7 के लिए, दो कथन दिए गए हैं — जिनमें एक को अभिकथन (A) तथा दूसरे को कारण (R) द्वारा अंकित किया गया है । इन कथनों को ध्यान से पढ़िए और नीचे दिए गए विकल्पों (A), (B), (C) और (D) में से उत्तर के रूप में सही विकल्प चुनिए ।

7. अभिकथन (A) : भारत में प्रथम आम चुनाव को दो बार स्थगित करना पड़ा और अंत में अक्टूबर 1951 से फरवरी 1952 तक चुनाव आयोजित किए गए ।

कारण (R) : अब यह तर्क देना संभव नहीं था कि गरीबी या अशिक्षा के माहौल में लोकतांत्रिक चुनाव नहीं हो सकते हैं ।

विकल्प :

- (A) अभिकथन (A) और कारण (R) दोनों सही हैं और कारण (R), अभिकथन (A) की सही व्याख्या करता है ।
- (B) अभिकथन (A) और कारण (R) दोनों सही हैं, परन्तु कारण (R), अभिकथन (A) की सही व्याख्या *नहीं* करता है ।
- (C) अभिकथन (A) सही है, परन्तु कारण (R) ग़लत है ।
- (D) अभिकथन (A) ग़लत है, परन्तु कारण (R) सही है ।

8. 1974 में किन दो राज्यों के छात्रों ने बढ़ती खाद्य कीमतों के खिलाफ आंदोलन किया था ?

- (A) उत्तर प्रदेश और बिहार
- (B) राजस्थान और बिहार
- (C) बिहार और गुजरात
- (D) बिहार और मध्य प्रदेश

5. Which one of the following statements about the ethnic conflict in Sri Lanka is **false** ?
- (A) Politics in Sri Lanka favoured the Sinhalese.
(B) Interests of Tamils were neglected.
(C) LTTE was supported by the SAARC countries.
(D) The Sri Lanka ethnic problem involved the Sinhalese and the Tamils.
6. Which region of India is referred to as the 'Seven Sisters' ?
- (A) North-East region (B) South-West region
(C) North-West region (D) South-East region

For Question number 7, two statements are given — one labelled as Assertion (A) and the other labelled as Reason (R). Read these statements carefully and choose the correct option as the answer from the options (A), (B), (C) and (D) given below.

7. *Assertion (A) :* The first general elections in India had to be postponed twice and were finally held from October 1951 to February 1952.

Reason (R) : It was no longer possible to argue that democratic elections could not be held in conditions of poverty or lack of education.

Options :

- (A) Both Assertion (A) and Reason (R) are true and Reason (R) is the correct explanation of the Assertion (A).
(B) Both Assertion (A) and Reason (R) are true, but Reason (R) is **not** the correct explanation of the Assertion (A).
(C) Assertion (A) is true, but Reason (R) is false.
(D) Assertion (A) is false, but Reason (R) is true.
8. Students of which two states started an agitation against the rising food prices in 1974 ?
- (A) Uttar Pradesh and Bihar
(B) Rajasthan and Bihar
(C) Bihar and Gujarat
(D) Bihar and Madhya Pradesh

9. निम्नलिखित में से कौन भारत का प्रथम मुख्य चुनाव आयुक्त था ?

- (A) सुकुमार सेन (B) कर्पूरी ठाकुर
(C) के. कामराज (D) नरेंद्र देव

10. सूची I का सूची II से सही मिलान कीजिए :

सूची I	सूची II
1. यूरोपीय मुद्रा	(i) फ्रांस
2. विशेष आर्थिक क्षेत्र	(ii) आसियान
3. संयुक्त राष्ट्र सुरक्षा परिषद् का स्थाई सदस्य देश	(iii) यूरो
4. क्षेत्रीय संगठन	(iv) चीन

सही विकल्प चुनिए :

- (A) 1-(iii), 2-(iv), 3-(i), 4-(ii) (B) 1-(iii), 2-(i), 3-(ii), 4-(iv)
(C) 1-(ii), 2-(i), 3-(iv), 4-(iii) (D) 1-(iv), 2-(ii), 3-(iii), 4-(i)

11. निम्नलिखित घटनाओं को कालक्रमानुसार व्यवस्थित कीजिए :

- (i) विश्व बैंक की स्थापना
(ii) विश्व व्यापार संगठन की स्थापना
(iii) संयुक्त राष्ट्र संघ की स्थापना
(iv) अन्तर्राष्ट्रीय आण्विक ऊर्जा एजेन्सी की स्थापना

सही विकल्प चुनिए :

- (A) (i), (iii), (iv), (ii)
(B) (ii), (i), (iii), (iv)
(C) (iii), (ii), (i), (iv)
(D) (iii), (i), (iv), (ii)

9. Who among the following was the First Chief Election Commissioner of India ?

- (A) Sukumar Sen (B) Karpoori Thakur
(C) K. Kamaraj (D) Narendra Dev

10. Match List I correctly with List II :

<i>List I</i>	<i>List II</i>
1. European Currency	(i) France
2. Special Economic Zone	(ii) ASEAN
3. A permanent member country of UN Security Council	(iii) Euro
4. A Regional Organisation	(iv) China

Choose the correct option :

- (A) 1-(iii), 2-(iv), 3-(i), 4-(ii) (B) 1-(iii), 2-(i), 3-(ii), 4-(iv)
(C) 1-(ii), 2-(i), 3-(iv), 4-(iii) (D) 1-(iv), 2-(ii), 3-(iii), 4-(i)

11. Arrange the following events in chronological order :

- (i) Establishment of the World Bank
(ii) Establishment of the WTO
(iii) Establishment of the UNO
(iv) Establishment of the IAEA

Choose the correct option :

- (A) (i), (iii), (iv), (ii)
(B) (ii), (i), (iii), (iv)
(C) (iii), (ii), (i), (iv)
(D) (iii), (i), (iv), (ii)

12. निम्नलिखित में से कौन संयुक्त राष्ट्र की एक एजेन्सी **नहीं** है ?
- (A) यूनेस्को
(B) विश्व स्वास्थ्य संगठन
(C) यूनिसेफ
(D) संयुक्त राष्ट्र सुरक्षा परिषद्

खण्ड ख

13. राष्ट्रीय आपातकाल घोषित करने के कोई दो प्रभाव लिखिए । 2
14. चीन द्वारा अपनी अर्थव्यवस्था में सुधार के लिए उठाए गए किन्हीं दो कदमों का उल्लेख कीजिए । 2
15. बांग्लादेश के संविधान की किन्हीं दो विशेषताओं को उजागर कीजिए । 2
16. बॉम्बे प्लान की व्याख्या कीजिए । 2
17. सामाजिक गठबंधन के रूप में काँग्रेस पार्टी की कार्यप्रणाली को स्पष्ट कीजिए । 2
18. भारत और चीन के मध्य किन्हीं दो मतभेदों का विश्लेषण कीजिए, जिनके कारण 1962 में सैन्य संघर्ष हुआ था । 2

12. Which one of the following is *not* an agency of the United Nations ?

- (A) UNESCO
- (B) WHO
- (C) UNICEF
- (D) UNSC

SECTION B

13. State any two effects of imposing national emergency. 2
14. Mention any two steps taken by China to improve its economy. 2
15. Highlight any two features of the Constitution of Bangladesh. 2
16. Explain the Bombay Plan. 2
17. Explain the functioning of the Congress Party as a social coalition. 2
18. Analyse any two differences between India and China which led to a military conflict in 1962. 2

खण्ड ग

19. (क) भारत में गठबंधन सरकारें किस प्रकार लोकतंत्र के लिए वरदान साबित हुई हैं ? स्पष्ट कीजिए । 4

अथवा

- (ख) 2014 के चुनावों में जनता केन्द्र में एक स्थिर सरकार के पक्ष में क्यों थी ? किन्हीं दो कारणों को स्पष्ट कीजिए । 4

20. नेपाल में लोकतंत्र की स्थापना में देरी पैदा करने वाली किन्हीं दो चुनौतियों का वर्णन कीजिए । 4

21. सोवियत प्रणाली में सुधार के लिए गोर्बाचेव की भूमिका का वर्णन कीजिए । 4

22. (क) “भारत ने विभिन्न आधारों पर संयुक्त राष्ट्र के पुनर्गठन का समर्थन किया है ।” कथन की पुष्टि कीजिए । 4

अथवा

- (ख) “संयुक्त राष्ट्र में सुधार लाने का अर्थ सुरक्षा परिषद् का पुनर्गठन करना है ।” कथन को न्यायसंगत ठहराइए । 4

23. “क्षेत्रीय आकांक्षाएँ तथा उनका समायोजन भारतीय लोकतांत्रिक राजनीति का एक अभिन्न अंग हैं ।” किन्हीं दो उपयुक्त तर्कों से कथन की पुष्टि कीजिए । 4

SECTION C

19. (a) How did the coalition governments prove to be a boon for democracy in India ? Explain. 4

OR

- (b) In the 2014 elections, why were people in favour of a stable government at the Centre ? Explain any two reasons. 4
20. Describe any two challenges that delayed the establishment of democracy in Nepal. 4
21. Describe the role of Gorbachev to reform the Soviet system. 4
22. (a) "India has supported the restructuring of the United Nations on several grounds." Support the statement. 4

OR

- (b) "Reforming the United Nations means restructuring of the Security Council." Justify the statement. 4
23. "Regional aspirations and their accommodation are an integral part of Indian democratic politics." Support the statement with any two suitable arguments. 4

खण्ड घ

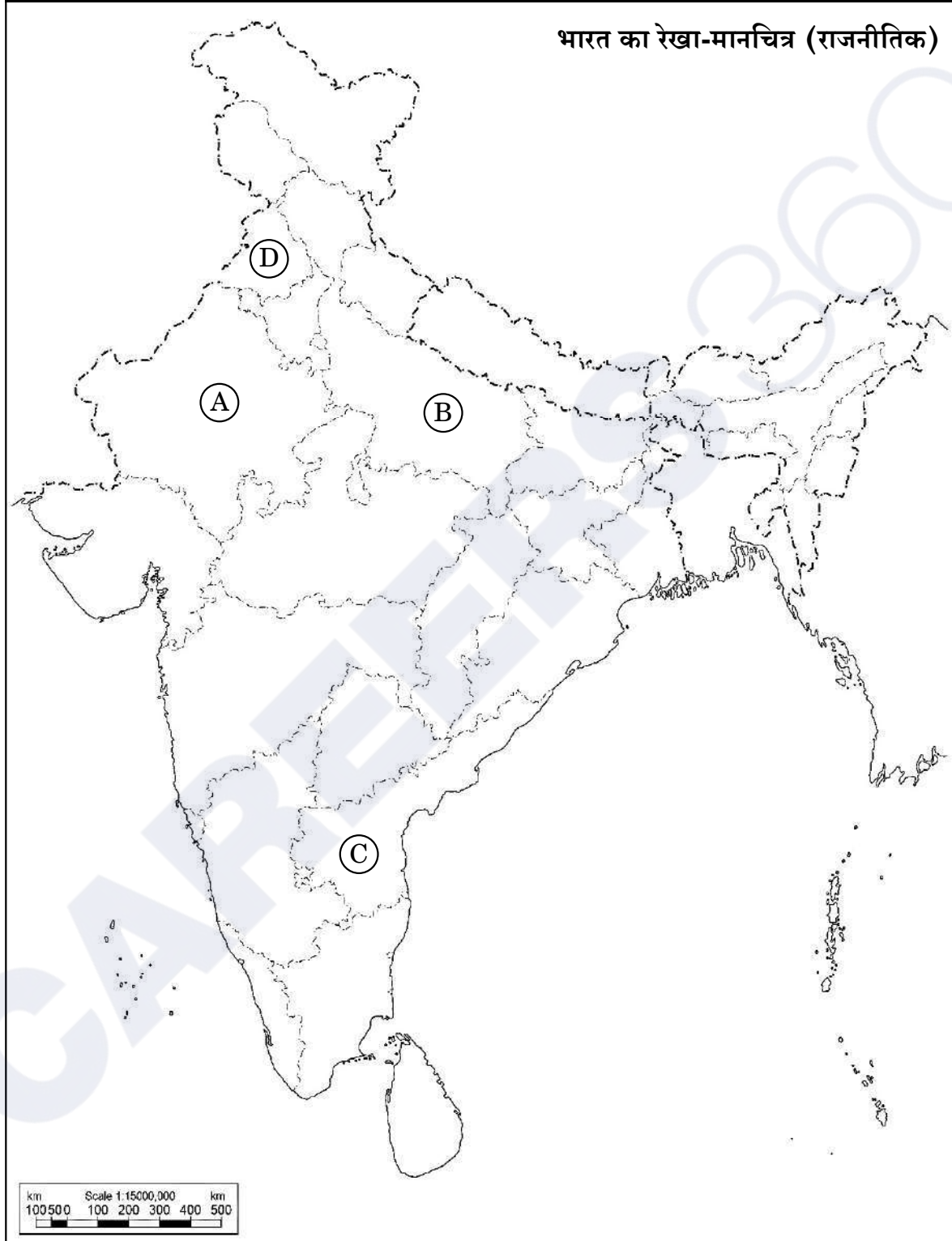
24. भारत के दिए गए राजनीतिक रेखा-मानचित्र (पृष्ठ 15 पर) में चार राज्यों को (A), (B), (C) तथा (D) के द्वारा अंकित किया गया है। नीचे दी गई जानकारी के आधार पर इन राज्यों की पहचान कीजिए और अपनी उत्तर-पुस्तिका में इनके सही नाम, प्रयोग की गई जानकारी की क्रम-संख्या तथा मानचित्र में दिया गया संबंधित अक्षर, नीचे दी गई तालिका के रूप में लिखिए :

4×1=4

प्रयोग की गई जानकारी की क्रम-संख्या	मानचित्र में दिया गया संबंधित अक्षर	राज्य का नाम
(i)		
(ii)		
(iii)		
(iv)		

- (i) वह राज्य जहाँ काँग्रेस पार्टी को 1967 के चुनावों में बहुमत हासिल नहीं हुआ था।
- (ii) वह राज्य जहाँ काँग्रेस पार्टी ने 1967 के चुनावों में बहुमत हासिल नहीं किया था, परंतु अन्य दलों के समर्थन से सरकार बना ली थी।
- (iii) समाजवादी नेता राम मनोहर लोहिया से संबंधित राज्य।
- (iv) भारत के पूर्व राष्ट्रपति वी.वी. गिरि से संबंधित राज्य।

प्रश्न सं. 24 के लिए



SECTION D

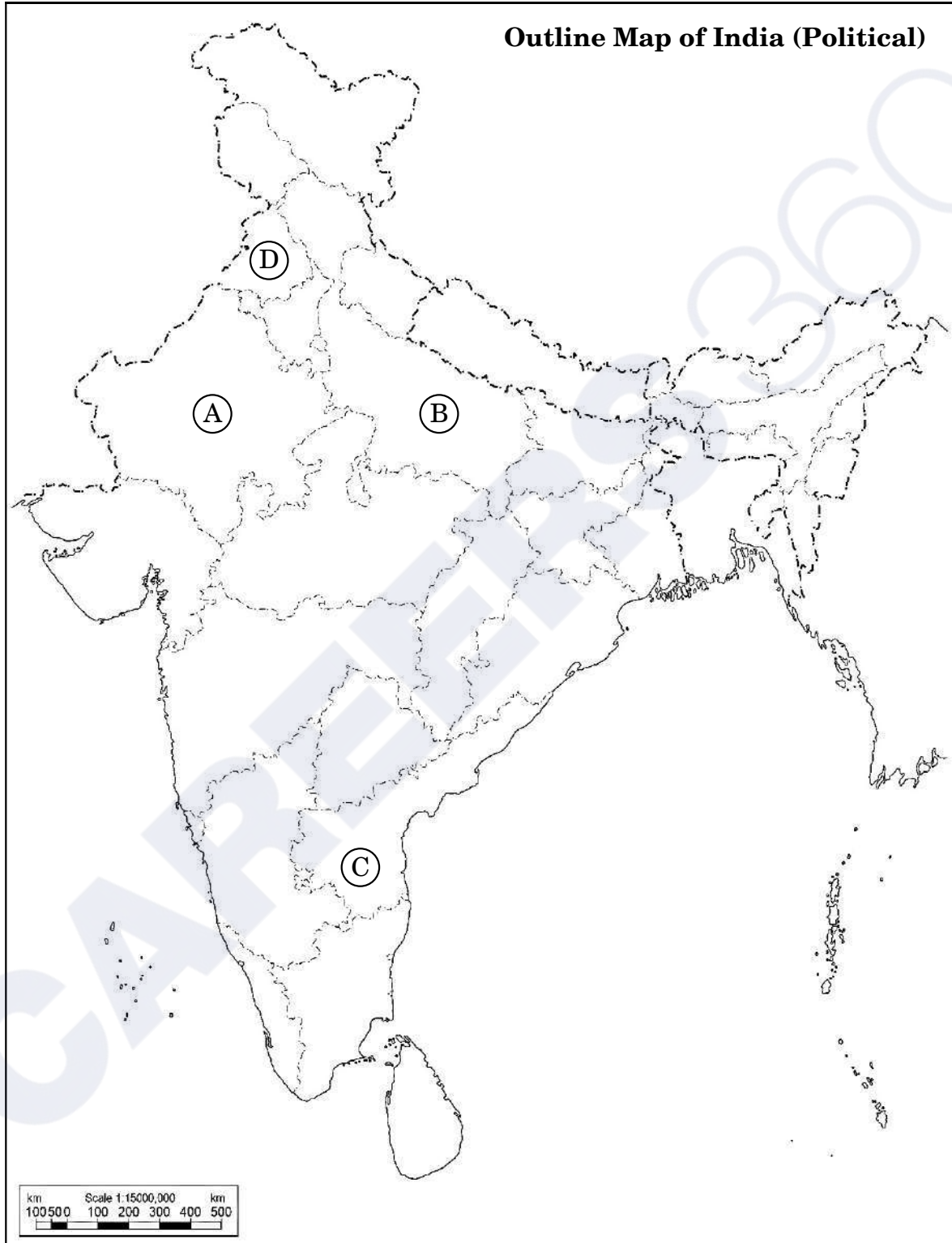
24. In the given political outline map of **India** (on page 17), four States have been marked as (A), (B), (C) and (D). Identify these States on the basis of the information given below and write their correct names in your answer-book along with the respective serial number of the information used and the concerned alphabets given in the map as per the following format :

4×1=4

Serial number of the information used	Concerned alphabet given in the map	Name of the State
(i)		
(ii)		
(iii)		
(iv)		

- (i) The State where the Congress party did not secure majority in 1967 elections.
- (ii) The State where Congress party did not secure majority in 1967 elections but formed the government with the support of other parties.
- (iii) The State related to Samajwadi leader, Ram Manohar Lohia.
- (iv) The State related to the former President of India, V.V. Giri.

For question no. 24



नोट : निम्नलिखित प्रश्न केवल दृष्टिबाधित परीक्षार्थियों के लिए प्रश्न संख्या 24 के स्थान पर हैं :

4×1=4

- (24.1) लाल बहादुर शास्त्री ने कौन-सा प्रसिद्ध नारा दिया था ?
- (24.2) भारतीय राजनीति के किस दशक को 'खतरनाक दशक' कहा जाता है ?
- (24.3) 1969 के राष्ट्रपति चुनाव में इन्दिरा गाँधी ने किस उम्मीदवार का समर्थन किया था ?
- (24.4) 'आया राम, गया राम' जुमले से सम्बन्धित राज्य कौन-सा है ?

25. बर्लिन की दीवार से संबंधित नीचे दिए गए चित्र का अध्ययन कीजिए तथा निम्नलिखित प्रश्नों के उत्तर दीजिए :

1+1+2=4



- (i) बर्लिन की दीवार किस बात का प्रतीक थी ?
- (ii) बर्लिन की दीवार किन दो देशों के बीच बनी हुई थी ?
- (iii) बर्लिन की दीवार के टूटने के किन्हीं दो परिणामों को उजागर कीजिए ।

नोट : निम्नलिखित प्रश्न केवल दृष्टिबाधित परीक्षार्थियों के लिए प्रश्न संख्या 25 के स्थान पर हैं :

4×1=4

- (25.1) द्वितीय विश्व युद्ध किस वर्ष समाप्त हुआ था ?
- (25.2) बर्लिन की दीवार किस वर्ष बनाई गई थी ?
- (25.3) सोवियत संघ का विघटन किस वर्ष हुआ था ?
- (25.4) 1985 में सोवियत संघ की कम्युनिस्ट पार्टी का महासचिव बनने वाले नेता का नाम लिखिए ।

Note : The following questions are for the **Visually Impaired Candidates** only, in lieu of Q. No. 24 :

4×1=4

- (24.1) Which popular slogan was given by Lal Bahadur Shastri ?
- (24.2) Which decade of Indian politics has been referred to as the 'dangerous decade' ?
- (24.3) Which candidate was supported by Indira Gandhi for the post of President in 1969 ?
- (24.4) Which State is related to the phrase 'Aya Ram, Gaya Ram' ?

25. Study the picture given below related to the Berlin Wall and answer the questions that follow :

1+1+2=4



- (i) What did the Berlin Wall symbolise ?
- (ii) Between which two countries was the Berlin Wall built ?
- (iii) Highlight any two outcomes of breaking of the Berlin Wall.

Note : The following questions are for the **Visually Impaired Candidates** only, in lieu of Q. No. 25.

4×1=4

- (25.1) In which year did the Second World War end ?
- (25.2) In which year was the Berlin Wall built ?
- (25.3) In which year did the Soviet Union disintegrate ?
- (25.4) Name the leader who became the General Secretary of the Communist Party of the Soviet Union in 1985.

26. निम्नलिखित अवतरण को ध्यानपूर्वक पढ़िए और नीचे दिए गए प्रश्नों के उत्तर दीजिए : $4 \times 1 = 4$

1980 के दशक में दलित जातियों के राजनीतिक संगठनों का भी उदय हुआ। 1978 में 'बामसेफ' (BAMCEF) का गठन हुआ। यह संगठन सरकारी कर्मचारियों का कोई साधारण ट्रेड यूनियन नहीं था। इस संगठन ने 'बहुजन' यानि अनुसूचित जाति, अनुसूचित जनजाति, अन्य पिछड़ा वर्ग और अल्पसंख्यकों की राजनीतिक सत्ता की ज़बरदस्त तरफ़दारी की। इसी का परवर्ती विकास 'दलित-शोषित समाज संघर्ष समिति' है, जिससे बाद के समय में बहुजन समाज पार्टी (बसपा) का उदय हुआ।

(i) बामसेफ का सही पूर्ण रूप चुनिए :

- (A) बहुजन और अल्पसंख्यक समुदाय कर्मचारी संघ
- (B) बहुजन और अल्पसंख्यक समुदाय कर्मचारी संस्थान
- (C) पिछड़ा और अल्पसंख्यक समुदाय कर्मचारी संघ
- (D) पिछड़ा और अल्पसंख्यक समुदाय कर्मचारी संस्थान

(ii) बहुजन समाज पार्टी का गठन किस वर्ष में हुआ था ?

- (A) 1981
- (B) 1984
- (C) 1989
- (D) 1991

(iii) बहुजन समाज पार्टी का संस्थापक नेता कौन था ?

- (A) बी.आर. अम्बेडकर
- (B) मायावती
- (C) मुलायम सिंह
- (D) कांशीराम

(iv) बहुजन समाज पार्टी (बसपा) ने किस राज्य में अपनी पहली सरकार गठित की थी ?

- (A) पंजाब
- (B) हरियाणा
- (C) उत्तर प्रदेश
- (D) राजस्थान

26. Read the following passage carefully and answer the questions that follow :

4×1=4

The 1980s also saw the rise of political organisations of the Dalits. In 1978 the 'BAMCEF' was formed. This organisation was not an ordinary trade union of government employees. It took a strong position in favour of political power to the 'bahujan' – the SC, ST, OBC and minorities. It was out of this that the subsequent Dalit Shoshit Samaj Sangharsh Samiti and later the Bahujan Samaj Party (BSP) emerged.

- (i) Choose the correct full form of BAMCEF :
- (A) Bahujan and Minority Communities Employees Federation
 - (B) Bahujan and Minority Communities Employees Foundation
 - (C) Backward and Minority Communities Employees Federation
 - (D) Backward and Minority Communities Employees Foundation
- (ii) In which year was the Bahujan Samaj Party formed ?
- (A) 1981
 - (B) 1984
 - (C) 1989
 - (D) 1991
- (iii) Who was the founder leader of Bahujan Samaj Party ?
- (A) B.R. Ambedkar
 - (B) Mayawati
 - (C) Mulayam Singh
 - (D) Kanshi Ram
- (iv) In which State did the Bahujan Samaj Party (BSP) form its first government ?
- (A) Punjab
 - (B) Haryana
 - (C) Uttar Pradesh
 - (D) Rajasthan

खण्ड ड

27. (क) पर्यावरण हास को रोकने के लिए भारत सरकार द्वारा उठाए गए किन्हीं तीन कदमों की व्याख्या कीजिए । 6

अथवा

- (ख) पर्यावरण को हास से बचाने में महत्वपूर्ण भूमिका निभाने वाले किन्हीं तीन पर्यावरणीय आंदोलनों की भूमिका को स्पष्ट कीजिए । 6

28. (क) कोई तीन तर्क देकर भारत द्वारा अपनाई गई 'गुटनिरपेक्षता की नीति' को न्यायोचित ठहराइए । 6

अथवा

- (ख) "स्वतंत्र भारत की विदेश नीति ने एक शांतिपूर्ण विश्व के सपने को साकार करने का प्रयास किया है ।" तीन उपयुक्त तर्कों के साथ कथन की पुष्टि कीजिए । 6

29. (क) 1947 में स्वतंत्रता के समय भारत के समक्ष आई किन्हीं तीन मुख्य चुनौतियों का वर्णन कीजिए । 6

अथवा

- (ख) 1947 में ब्रिटिश इन्डिया के विभाजन की प्रक्रिया में आई किन्हीं तीन प्रमुख कठिनाइयों का वर्णन कीजिए । 6

30. (क) द्वितीय विश्व युद्ध के पश्चात् एशिया और अफ्रीका के नव स्वतंत्र देशों के सामने आई किन्हीं तीन सुरक्षा चुनौतियों की व्याख्या कीजिए । 6

अथवा

- (ख) भारतीय सुरक्षा रणनीति के किन्हीं तीन घटकों की व्याख्या कीजिए । 6

SECTION E

27. (a) Explain any three steps taken by the Indian Government to check environmental degradation. 6

OR

- (b) Explain the role of any three environmental movements which played an important role to save the environment from degradation. 6

28. (a) Justify the 'policy of Non-Alignment' adopted by India, by giving any three arguments. 6

OR

- (b) "Foreign policy of independent India has pursued the dream of a peaceful world." Support the statement with three suitable arguments. 6

29. (a) Describe any three major challenges faced by India at the time of independence in 1947. 6

OR

- (b) Describe any three major difficulties that came in the way of the partition of British India in 1947. 6

30. (a) Explain any three security challenges faced by the newly independent countries of Asia and Africa after the Second World War. 6

OR

- (b) Explain any three components of the Indian security strategy. 6

Series S3RQP/3

Set-3

प्रश्न-पत्र कोड
Q.P. Code

59/3/3

रोल नं.

--	--	--	--	--	--	--	--

Roll No.

--	--	--	--	--	--	--	--



परीक्षार्थी प्रश्न-पत्र कोड को उत्तर-पुस्तिका के मुख-पृष्ठ पर अवश्य लिखें।

Candidates must write the Q.P. Code on the title page of the answer-book.

राजनीति विज्ञान POLITICAL SCIENCE

निर्धारित समय : 3 घण्टे

अधिकतम अंक : 80

Time allowed : 3 hours

Maximum Marks : 80

नोट	NOTE
(I) कृपया जाँच कर लें कि इस प्रश्न-पत्र में मुद्रित पृष्ठ 23 हैं।	(I) Please check that this question paper contains 23 printed pages.
(II) कृपया जाँच कर लें कि इस प्रश्न-पत्र में 30 प्रश्न हैं।	(II) Please check that this question paper contains 30 questions.
(III) प्रश्न-पत्र में दाहिने हाथ की ओर दिए गए प्रश्न-पत्र कोड को परीक्षार्थी उत्तर-पुस्तिका के मुख-पृष्ठ पर लिखें।	(III) Q.P. Code given on the right hand side of the question paper should be written on the title page of the answer-book by the candidate.
(IV) कृपया प्रश्न का उत्तर लिखना शुरू करने से पहले, उत्तर-पुस्तिका में प्रश्न का क्रमांक अवश्य लिखें।	(IV) Please write down the serial number of the question in the answer-book before attempting it.
(V) इस प्रश्न-पत्र को पढ़ने के लिए 15 मिनट का समय दिया गया है। प्रश्न-पत्र का वितरण पूर्वाह्न में 10.15 बजे किया जाएगा। 10.15 बजे से 10.30 बजे तक छात्र केवल प्रश्न-पत्र को पढ़ेंगे और इस अवधि के दौरान वे उत्तर-पुस्तिका पर कोई उत्तर नहीं लिखेंगे।	(V) 15 minute time has been allotted to read this question paper. The question paper will be distributed at 10.15 a.m. From 10.15 a.m. to 10.30 a.m., the students will read the question paper only and will not write any answer on the answer-book during this period.

सामान्य निर्देश :

निम्नलिखित निर्देशों को बहुत सावधानी से पढ़िए और उनका पालन कीजिए :

- (i) इस प्रश्न-पत्र में 30 प्रश्न हैं। सभी प्रश्न अनिवार्य हैं।
- (ii) प्रश्न-पत्र पाँच खण्डों में विभाजित है – खण्ड क, ख, ग, घ एवं ङ।
- (iii) खण्ड क – प्रश्न संख्या 1 से 12 तक बहुविकल्पीय प्रकार के प्रश्न हैं। प्रत्येक प्रश्न 1 अंक का है।
- (iv) खण्ड ख – प्रश्न संख्या 13 से 18 तक लघु-उत्तरीय प्रकार के प्रश्न हैं। प्रत्येक प्रश्न 2 अंकों का है। प्रत्येक प्रश्न का उत्तर 50 से 60 शब्दों में लिखिए।
- (v) खण्ड ग – प्रश्न संख्या 19 से 23 तक दीर्घ-उत्तरीय प्रकार-I के प्रश्न हैं। प्रत्येक प्रश्न 4 अंकों का है। प्रत्येक प्रश्न का उत्तर 100 से 120 शब्दों में लिखिए।
- (vi) खण्ड घ – प्रश्न संख्या 24 से 26 अवतरण, कार्टून तथा मानचित्र-आधारित प्रश्न हैं। प्रत्येक प्रश्न का उत्तर यथानुसार लिखिए।
- (vii) खण्ड ङ – प्रश्न संख्या 27 से 30 तक दीर्घ-उत्तरीय प्रकार-II के प्रश्न हैं। प्रत्येक प्रश्न 6 अंकों का है। प्रत्येक प्रश्न का उत्तर 170 से 180 शब्दों में लिखिए।
- (viii) प्रश्न-पत्र में कोई समग्र विकल्प नहीं है। यद्यपि कुछ प्रश्नों में आंतरिक विकल्प का प्रावधान दिया गया है। इन प्रश्नों में से केवल एक ही प्रश्न का उत्तर लिखा जाए।
- (ix) इसके अतिरिक्त, ध्यान दें कि दृष्टिबाधित परीक्षार्थियों के लिए फोटो तथा मानचित्र आदि आधारित प्रश्नों के स्थान पर एक अन्य प्रश्न दिया गया है। इन प्रश्नों के उत्तर केवल दृष्टिबाधित परीक्षार्थी ही लिखें।

खण्ड क

प्रश्न संख्या 1 से 12 तक बहुविकल्पीय प्रकार के 1 अंक के प्रश्न हैं।

12×1=12

1. निम्नलिखित में से किस देश ने यूरोप की अर्थव्यवस्था को पुनर्जीवित करने के लिए बड़े पैमाने पर आर्थिक मदद प्रदान की ?
 - (A) जापान
 - (B) ब्रिटेन
 - (C) संयुक्त राज्य अमेरिका
 - (D) चीन

General Instructions :

Read the following instructions very carefully and follow them :

- (i) This question paper contains **30** questions. **All** questions are **compulsory**.
- (ii) Question paper is divided into **five** sections – **Sections A, B, C, D and E**.
- (iii) **Section A** – questions number **1** to **12** are Multiple Choice type questions. Each question carries **1** mark.
- (iv) **Section B** – questions number **13** to **18** are Short Answer type questions. Each question carries **2** marks. Write answer to each question in **50** to **60** words.
- (v) **Section C** – questions number **19** to **23** are Long Answer type-I questions. Each question carries **4** marks. Write answer to each question in **100** to **120** words.
- (vi) **Section D** – questions number **24** to **26** are Passage, Cartoon and Map-based questions. Answer each question accordingly.
- (vii) **Section E** – questions number **27** to **30** are Long Answer type-II questions. Each question carries **6** marks. Write answer to each question in **170** to **180** words.
- (viii) There is no overall choice in the question paper. However, an internal choice has been provided in few questions. Only **one** of the choices in such questions has to be attempted.
- (ix) In addition to this, note that a separate question has been provided for Visually Impaired candidates in lieu of questions having visual inputs, map etc. Such questions are to be attempted by Visually Impaired candidates only.

SECTION A

Questions number **1** to **12** are Multiple Choice type questions, carrying **1** mark each.

$12 \times 1 = 12$

1. Which country among the following extended massive economic help for reviving Europe's economy ?
- (A) Japan
 - (B) Britain
 - (C) USA
 - (D) China

2. निम्नलिखित में से कौन-सा आंदोलन उत्तर-पूर्व के लोगों द्वारा अपनी क्षेत्रीय आकांक्षाओं को व्यक्त करने के लिए *नहीं* किया गया था ?
- (A) बाहरी लोगों के खिलाफ आंदोलन
 (B) अधिक स्वायत्तता के लिए आंदोलन
 (C) पूर्वोत्तर के राज्यों का संघ बनाने के लिए आंदोलन
 (D) अलगाव के लिए आंदोलन
3. निम्नलिखित में से कौन-सी घटना 1975 में आपातकाल की उद्घोषणा से संबंधित *नहीं* है ?
- (A) 'संपूर्ण क्रांति' का आह्वान
 (B) नक्सली आंदोलन
 (C) 1974 की रेलवे हड़ताल
 (D) इलाहाबाद उच्च न्यायालय का निर्णय
4. भारत के किस क्षेत्र को 'सात बहनें' कहा जाता है ?
- (A) उत्तर-पूर्व क्षेत्र (B) दक्षिण-पश्चिम क्षेत्र
 (C) उत्तर-पश्चिम क्षेत्र (D) दक्षिण-पूर्व क्षेत्र

प्रश्न संख्या 5 के लिए, दो कथन दिए गए हैं — जिनमें एक को अभिकथन (A) तथा दूसरे को कारण (R) द्वारा अंकित किया गया है। इन कथनों को ध्यान से पढ़िए और नीचे दिए गए विकल्पों (A), (B), (C) और (D) में से उत्तर के रूप में सही विकल्प चुनिए।

5. अभिकथन (A) : भारत में प्रथम आम चुनाव को दो बार स्थगित करना पड़ा और अंत में अक्टूबर 1951 से फरवरी 1952 तक चुनाव आयोजित किए गए।

कारण (R) : अब यह तर्क देना संभव नहीं था कि गरीबी या अशिक्षा के माहौल में लोकतांत्रिक चुनाव नहीं हो सकते हैं।

विकल्प :

- (A) अभिकथन (A) और कारण (R) दोनों सही हैं और कारण (R), अभिकथन (A) की सही व्याख्या करता है।
 (B) अभिकथन (A) और कारण (R) दोनों सही हैं, परन्तु कारण (R), अभिकथन (A) की सही व्याख्या *नहीं* करता है।
 (C) अभिकथन (A) सही है, परन्तु कारण (R) ग़लत है।
 (D) अभिकथन (A) ग़लत है, परन्तु कारण (R) सही है।

2. Which one of the following movements was **not** started by the people of North-East to express their regional aspirations ?
- (A) Movement against outsiders
(B) Movement for greater autonomy
(C) Movement to form a union of North-East States
(D) Movement for secession
3. Which one among the following events is **not** related to the proclamation of emergency in 1975 ?
- (A) The call for 'Total Revolution'
(B) The Naxalite Movement
(C) The Railway Strike in 1974
(D) The Allahabad High Court verdict
4. Which region of India is referred to as the 'Seven Sisters' ?
- (A) North-East region (B) South-West region
(C) North-West region (D) South-East region

For Question number 5, two statements are given — one labelled as Assertion (A) and the other labelled as Reason (R). Read these statements carefully and choose the correct option as the answer from the options (A), (B), (C) and (D) given below.

5. *Assertion (A) :* The first general elections in India had to be postponed twice and were finally held from October 1951 to February 1952.

Reason (R) : It was no longer possible to argue that democratic elections could not be held in conditions of poverty or lack of education.

Options :

- (A) Both Assertion (A) and Reason (R) are true and Reason (R) is the correct explanation of the Assertion (A).
(B) Both Assertion (A) and Reason (R) are true, but Reason (R) is **not** the correct explanation of the Assertion (A).
(C) Assertion (A) is true, but Reason (R) is false.
(D) Assertion (A) is false, but Reason (R) is true.

6. सूची I का सूची II से सही मिलान कीजिए :

सूची I	सूची II
1. यूरोपीय मुद्रा	(i) फ्रांस
2. विशेष आर्थिक क्षेत्र	(ii) आसियान
3. संयुक्त राष्ट्र सुरक्षा परिषद् का स्थाई सदस्य देश	(iii) यूरो
4. क्षेत्रीय संगठन	(iv) चीन

सही विकल्प चुनिए :

- (A) 1-(iii), 2-(iv), 3-(i), 4-(ii) (B) 1-(iii), 2-(i), 3-(ii), 4-(iv)
(C) 1-(ii), 2-(i), 3-(iv), 4-(iii) (D) 1-(iv), 2-(ii), 3-(iii), 4-(i)

7. निम्नलिखित घटनाओं को कालक्रमानुसार व्यवस्थित कीजिए :

- (i) विश्व बैंक की स्थापना
(ii) विश्व व्यापार संगठन की स्थापना
(iii) संयुक्त राष्ट्र संघ की स्थापना
(iv) अन्तर्राष्ट्रीय आण्विक ऊर्जा एजेन्सी की स्थापना

सही विकल्प चुनिए :

- (A) (i), (iii), (iv), (ii)
(B) (ii), (i), (iii), (iv)
(C) (iii), (ii), (i), (iv)
(D) (iii), (i), (iv), (ii)

8. श्रीलंका में जातीय संघर्ष के बारे में निम्नलिखित में से कौन-सा कथन **ग़लत** है ?

- (A) श्रीलंका में राजनीति सिंहलियों के पक्ष में थी ।
(B) तमिलों के हितों की उपेक्षा की गई ।
(C) लिट्टे को सार्क देशों का समर्थन प्राप्त था ।
(D) श्रीलंका की जातीय समस्या में सिंहली और तमिल शामिल थे ।

6. Match List I correctly with List II :

<i>List I</i>		<i>List II</i>
1. European Currency	(i)	France
2. Special Economic Zone	(ii)	ASEAN
3. A permanent member country of UN Security Council	(iii)	Euro
4. A Regional Organisation	(iv)	China

Choose the correct option :

- (A) 1-(iii), 2-(iv), 3-(i), 4-(ii) (B) 1-(iii), 2-(i), 3-(ii), 4-(iv)
(C) 1-(ii), 2-(i), 3-(iv), 4-(iii) (D) 1-(iv), 2-(ii), 3-(iii), 4-(i)

7. Arrange the following events in chronological order :

- (i) Establishment of the World Bank
(ii) Establishment of the WTO
(iii) Establishment of the UNO
(iv) Establishment of the IAEA

Choose the correct option :

- (A) (i), (iii), (iv), (ii)
(B) (ii), (i), (iii), (iv)
(C) (iii), (ii), (i), (iv)
(D) (iii), (i), (iv), (ii)

8. Which one of the following statements about the ethnic conflict in Sri Lanka is **false** ?

- (A) Politics in Sri Lanka favoured the Sinhalese.
(B) Interests of Tamils were neglected.
(C) LTTE was supported by the SAARC countries.
(D) The Sri Lanka ethnic problem involved the Sinhalese and the Tamils.

9. स्वतंत्र भारत के प्रथम केन्द्रीय मंत्रिमंडल में शिक्षा मंत्री कौन था ?
- (A) कर्पूरी ठाकुर
(B) के. कामराज
(C) मौलाना अबुल कलाम आज़ाद
(D) खान अब्दुल गफ़्फ़ार खान
10. 1974 में किन दो राज्यों के छात्रों ने बढ़ती खाद्य कीमतों के खिलाफ आंदोलन किया था ?
- (A) उत्तर प्रदेश और बिहार
(B) राजस्थान और बिहार
(C) बिहार और गुजरात
(D) बिहार और मध्य प्रदेश

प्रश्न संख्या 11 के लिए, दो कथन दिए गए हैं — जिनमें एक को अभिकथन (A) तथा दूसरे को कारण (R) द्वारा अंकित किया गया है। इन कथनों को ध्यान से पढ़िए और नीचे दिए गए विकल्पों (A), (B), (C) और (D) में से उत्तर के रूप में सही विकल्प चुनिए।

11. अभिकथन (A) : राजा ने सेना की मदद से सरकार पर पूर्ण नियंत्रण बनाए रखा और नेपाल में लोकतंत्र के विस्तार को प्रतिबंधित कर दिया।
- कारण (R) : राजा ने 2001 में एक मजबूत लोकतंत्र-समर्थक आंदोलन के कारण एक नए लोकतांत्रिक संविधान की माँग को स्वीकार कर लिया।

विकल्प :

- (A) अभिकथन (A) और कारण (R) दोनों सही हैं और कारण (R), अभिकथन (A) की सही व्याख्या करता है।
- (B) अभिकथन (A) और कारण (R) दोनों सही हैं, परन्तु कारण (R), अभिकथन (A) की सही व्याख्या नहीं करता है।
- (C) अभिकथन (A) सही है, परन्तु कारण (R) ग़लत है।
- (D) अभिकथन (A) ग़लत है, परन्तु कारण (R) सही है।
12. निम्नलिखित में से कौन-सा संयुक्त राष्ट्र का एक अंग है ?
- (A) यूनेस्को (UNESCO)
(B) विश्व बैंक
(C) महासभा
(D) एमनेस्टी इंटरनेशनल

9. Who was the Education Minister in the first Union Cabinet of free India ?
- (A) Karpoori Thakur
(B) K. Kamaraj
(C) Maulana Abul Kalam Azad
(D) Khan Abdul Ghaffar Khan
10. Students of which two states started an agitation against the rising food prices in 1974 ?
- (A) Uttar Pradesh and Bihar
(B) Rajasthan and Bihar
(C) Bihar and Gujarat
(D) Bihar and Madhya Pradesh

For Question number 11, two statements are given — one labelled as Assertion (A) and the other labelled as Reason (R). Read these statements carefully and choose the correct option as the answer from the options (A), (B), (C) and (D) given below.

11. *Assertion (A) :* The king, with the help of the army, retained full control over the government and restricted the expansion of democracy in Nepal.

Reason (R) : The king accepted the demand for a new democratic constitution in 2001, in the wake of a strong pro-democracy movement.

Options :

- (A) Both Assertion (A) and Reason (R) are true and Reason (R) is the correct explanation of the Assertion (A).
(B) Both Assertion (A) and Reason (R) are true, but Reason (R) is **not** the correct explanation of the Assertion (A).
(C) Assertion (A) is true, but Reason (R) is false.
(D) Assertion (A) is false, but Reason (R) is true.
12. Which one of the following is an organ of the United Nations ?
- (A) UNESCO
(B) World Bank
(C) General Assembly
(D) Amnesty International

खण्ड ख

13. भारत और चीन के मध्य किन्हीं दो मतभेदों का विश्लेषण कीजिए, जिनके कारण 1962 में सैन्य संघर्ष हुआ था । 2
14. दक्षिण कोरिया में उच्च मानव विकास के लिए उत्तरदायी किन्हीं दो कारकों का उल्लेख कीजिए । 2
15. राष्ट्रीय आपातकाल घोषित करने के कोई दो प्रभाव लिखिए । 2
16. आज़ादी के बाद भारत ने अपने विकास के लिए कौन-सा मॉडल चुना और क्यों ? 2
17. “नव स्वतंत्र भारत के नेता राजनीति को समस्या के रूप में नहीं, अपितु समस्याओं के समाधान का उपाय मानते थे ।” कथन की व्याख्या कीजिए । 2
18. बांग्लादेश के संविधान की किन्हीं दो विशेषताओं को उजागर कीजिए । 2

खण्ड ग

19. (क) “भारत ने विभिन्न आधारों पर संयुक्त राष्ट्र के पुनर्गठन का समर्थन किया है ।” कथन की पुष्टि कीजिए । 4
- अथवा
- (ख) “संयुक्त राष्ट्र में सुधार लाने का अर्थ सुरक्षा परिषद् का पुनर्गठन करना है ।” कथन को न्यायसंगत ठहराइए । 4
20. पाकिस्तान में मौजूद किन्हीं दो लोकतंत्र-समर्थक कारकों का उल्लेख कीजिए, जो वहाँ एक लोकतांत्रिक व्यवस्था स्थापित करने का मार्ग प्रशस्त कर सकते हैं । 4
21. ‘शॉक थेरेपी’ के किन्हीं चार परिणामों का वर्णन कीजिए । 4
22. “क्षेत्रीय आकांक्षाएँ तथा उनका समायोजन भारतीय लोकतांत्रिक राजनीति का एक अभिन्न अंग हैं ।” किन्हीं दो उपयुक्त तर्कों से कथन की पुष्टि कीजिए । 4

SECTION B

13. Analyse any two differences between India and China which led to a military conflict in 1962. 2
14. Mention any two factors responsible for high human development in South Korea. 2
15. State any two effects of imposing national emergency. 2
16. Which model did India choose for its development after independence and why ? 2
17. "The leaders of the newly independent India did not see politics as a problem, however, they saw it as a way of solving the problems." Explain the statement. 2
18. Highlight any two features of the Constitution of Bangladesh. 2

SECTION C

19. (a) "India has supported the restructuring of the United Nations on several grounds." Support the statement. 4
- OR**
- (b) "Reforming the United Nations means restructuring of the Security Council." Justify the statement. 4
20. State any two pro-democracy factors present in Pakistan which can pave the way for establishing a democratic set-up over there. 4
21. Describe any four consequences of 'Shock Therapy'. 4
22. "Regional aspirations and their accommodation are an integral part of Indian democratic politics." Support the statement with any two suitable arguments. 4

23. (क) भारत में गठबंधन सरकारें किस प्रकार लोकतंत्र के लिए वरदान साबित हुई हैं ? स्पष्ट कीजिए ।

4

अथवा

- (ख) 2014 के चुनावों में जनता केन्द्र में एक स्थिर सरकार के पक्ष में क्यों थी ? किन्हीं दो कारणों को स्पष्ट कीजिए ।

4

खण्ड घ

24. बर्लिन की दीवार से संबंधित नीचे दिए गए चित्र का अध्ययन कीजिए तथा निम्नलिखित प्रश्नों के उत्तर दीजिए :

1+1+2=4



- (i) बर्लिन की दीवार किस बात का प्रतीक थी ?
(ii) बर्लिन की दीवार किन दो देशों के बीच बनी हुई थी ?
(iii) बर्लिन की दीवार के टूटने के किन्हीं दो परिणामों को उजागर कीजिए ।

नोट : निम्नलिखित प्रश्न केवल दृष्टिबाधित परीक्षार्थियों के लिए प्रश्न संख्या 24 के स्थान पर हैं :

4×1=4

- (24.1) द्वितीय विश्व युद्ध किस वर्ष समाप्त हुआ था ?
(24.2) बर्लिन की दीवार किस वर्ष बनाई गई थी ?
(24.3) सोवियत संघ का विघटन किस वर्ष हुआ था ?
(24.4) 1985 में सोवियत संघ की कम्युनिस्ट पार्टी का महासचिव बनने वाले नेता का नाम लिखिए ।

23. (a) How did the coalition governments prove to be a boon for democracy in India ? Explain. 4

OR

- (b) In the 2014 elections, why were people in favour of a stable government at the Centre ? Explain any two reasons. 4

SECTION D

24. Study the picture given below related to the Berlin Wall and answer the questions that follow : 1+1+2=4



- (i) What did the Berlin Wall symbolise ?
(ii) Between which two countries was the Berlin Wall built ?
(iii) Highlight any two outcomes of breaking of the Berlin Wall.

Note : The following questions are for the **Visually Impaired Candidates** only, in lieu of Q. No. 24. 4×1=4

- (24.1) In which year did the Second World War end ?
(24.2) In which year was the Berlin Wall built ?
(24.3) In which year did the Soviet Union disintegrate ?
(24.4) Name the leader who became the General Secretary of the Communist Party of the Soviet Union in 1985.

25. निम्नलिखित अवतरण को ध्यानपूर्वक पढ़िए और नीचे दिए गए प्रश्नों के उत्तर दीजिए : $4 \times 1 = 4$

1980 के दशक में दलित जातियों के राजनीतिक संगठनों का भी उदय हुआ। 1978 में 'बामसेफ' (BAMCEF) का गठन हुआ। यह संगठन सरकारी कर्मचारियों का कोई साधारण ट्रेड यूनियन नहीं था। इस संगठन ने 'बहुजन' यानि अनुसूचित जाति, अनुसूचित जनजाति, अन्य पिछड़ा वर्ग और अल्पसंख्यकों की राजनीतिक सत्ता की ज़बरदस्त तरफ़दारी की। इसी का परवर्ती विकास 'दलित-शोषित समाज संघर्ष समिति' है, जिससे बाद के समय में बहुजन समाज पार्टी (बसपा) का उदय हुआ।

(i) बामसेफ का सही पूर्ण रूप चुनिए :

- (A) बहुजन और अल्पसंख्यक समुदाय कर्मचारी संघ
- (B) बहुजन और अल्पसंख्यक समुदाय कर्मचारी संस्थान
- (C) पिछड़ा और अल्पसंख्यक समुदाय कर्मचारी संघ
- (D) पिछड़ा और अल्पसंख्यक समुदाय कर्मचारी संस्थान

(ii) बहुजन समाज पार्टी का गठन किस वर्ष में हुआ था ?

- (A) 1981
- (B) 1984
- (C) 1989
- (D) 1991

(iii) बहुजन समाज पार्टी का संस्थापक नेता कौन था ?

- (A) बी.आर. अम्बेडकर
- (B) मायावती
- (C) मुलायम सिंह
- (D) कांशीराम

(iv) बहुजन समाज पार्टी (बसपा) ने किस राज्य में अपनी पहली सरकार गठित की थी ?

- (A) पंजाब
- (B) हरियाणा
- (C) उत्तर प्रदेश
- (D) राजस्थान

25. Read the following passage carefully and answer the questions that follow :

4×1=4

The 1980s also saw the rise of political organisations of the Dalits. In 1978 the 'BAMCEF' was formed. This organisation was not an ordinary trade union of government employees. It took a strong position in favour of political power to the 'bahujan' – the SC, ST, OBC and minorities. It was out of this that the subsequent Dalit Shoshit Samaj Sangharsh Samiti and later the Bahujan Samaj Party (BSP) emerged.

- (i) Choose the correct full form of BAMCEF :
- (A) Bahujan and Minority Communities Employees Federation
 - (B) Bahujan and Minority Communities Employees Foundation
 - (C) Backward and Minority Communities Employees Federation
 - (D) Backward and Minority Communities Employees Foundation
- (ii) In which year was the Bahujan Samaj Party formed ?
- (A) 1981
 - (B) 1984
 - (C) 1989
 - (D) 1991
- (iii) Who was the founder leader of Bahujan Samaj Party ?
- (A) B.R. Ambedkar
 - (B) Mayawati
 - (C) Mulayam Singh
 - (D) Kanshi Ram
- (iv) In which State did the Bahujan Samaj Party (BSP) form its first government ?
- (A) Punjab
 - (B) Haryana
 - (C) Uttar Pradesh
 - (D) Rajasthan

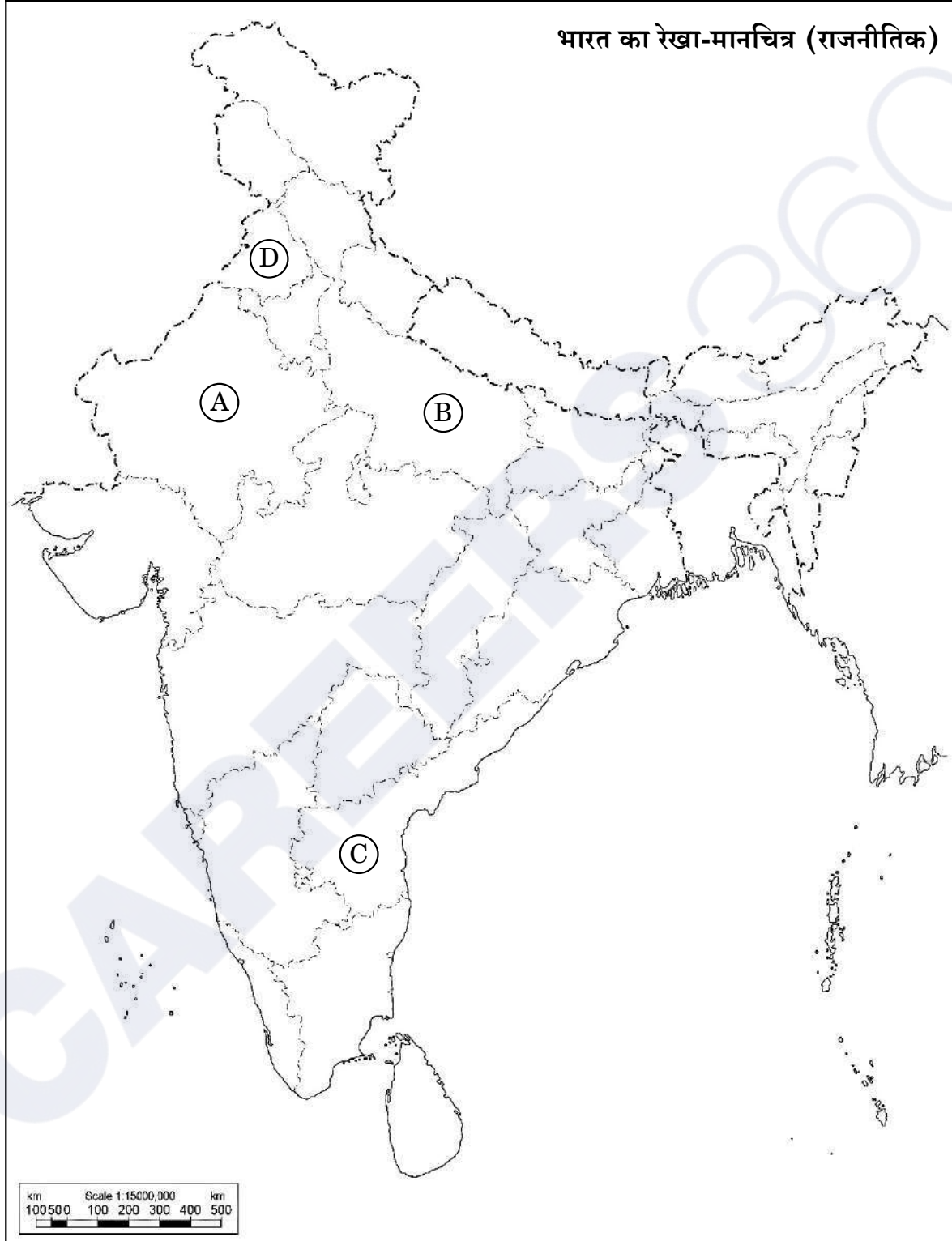
26. भारत के दिए गए राजनीतिक रेखा-मानचित्र (पृष्ठ 17 पर) में चार राज्यों को (A), (B), (C) तथा (D) के द्वारा अंकित किया गया है। नीचे दी गई जानकारी के आधार पर इन राज्यों की पहचान कीजिए और अपनी उत्तर-पुस्तिका में इनके सही नाम, प्रयोग की गई जानकारी की क्रम-संख्या तथा मानचित्र में दिया गया संबंधित अक्षर, नीचे दी गई तालिका के रूप में लिखिए :

4×1=4

प्रयोग की गई जानकारी की क्रम-संख्या	मानचित्र में दिया गया संबंधित अक्षर	राज्य का नाम
(i)		
(ii)		
(iii)		
(iv)		

- (i) वह राज्य जहाँ काँग्रेस पार्टी को 1967 के चुनावों में बहुमत हासिल नहीं हुआ था।
- (ii) वह राज्य जहाँ काँग्रेस पार्टी ने 1967 के चुनावों में बहुमत हासिल नहीं किया था, परंतु अन्य दलों के समर्थन से सरकार बना ली थी।
- (iii) समाजवादी नेता राम मनोहर लोहिया से संबंधित राज्य।
- (iv) भारत के पूर्व राष्ट्रपति वी.वी. गिरि से संबंधित राज्य।

प्रश्न सं. 26 के लिए



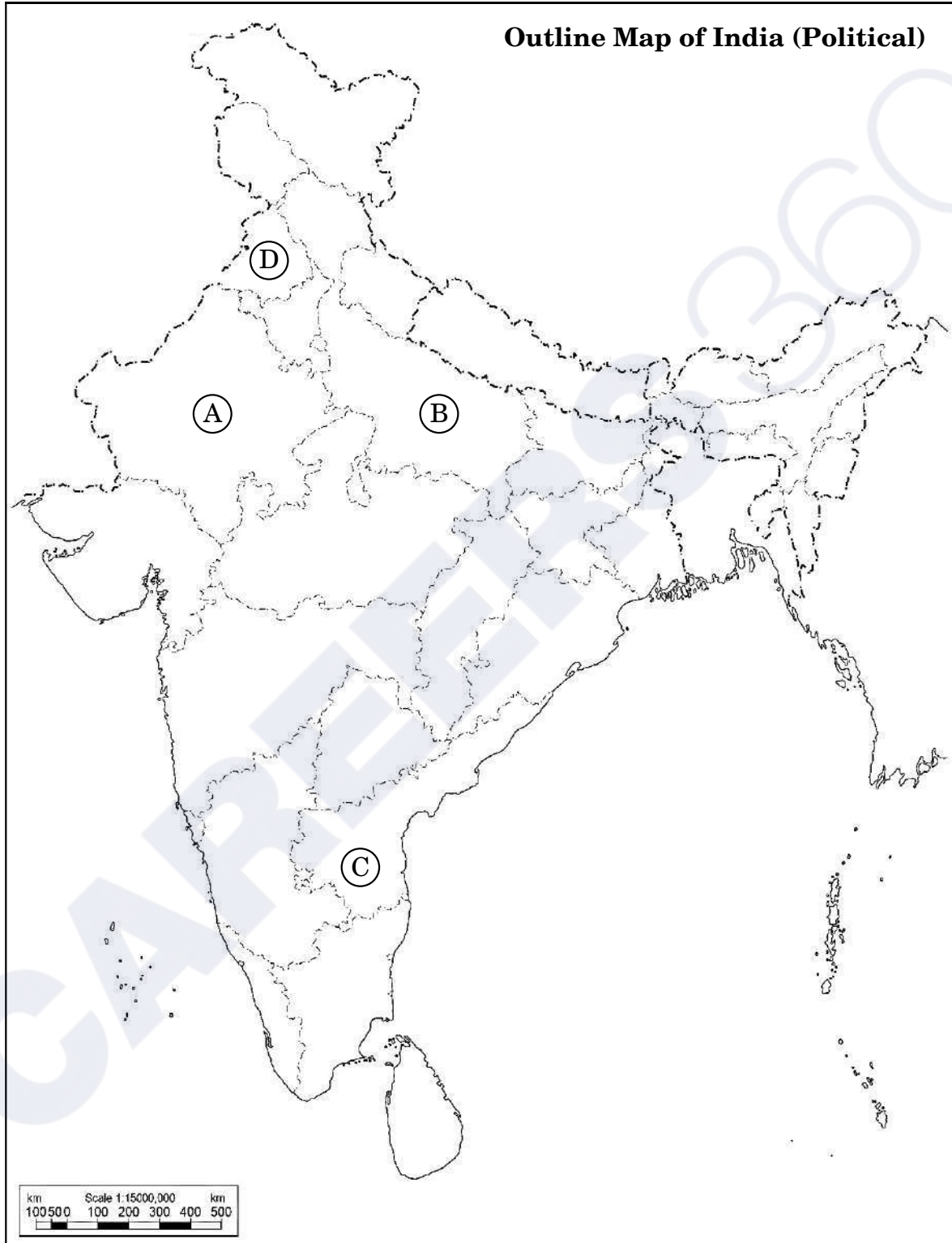
26. In the given political outline map of **India** (on page 19), four States have been marked as **Ⓐ**, **Ⓑ**, **Ⓒ** and **Ⓓ**. Identify these States on the basis of the information given below and write their correct names in your answer-book along with the respective serial number of the information used and the concerned alphabets given in the map as per the following format :

4×1=4

Serial number of the information used	Concerned alphabet given in the map	Name of the State
(i)		
(ii)		
(iii)		
(iv)		

- (i) The State where the Congress party did not secure majority in 1967 elections.
- (ii) The State where Congress party did not secure majority in 1967 elections but formed the government with the support of other parties.
- (iii) The State related to Samajwadi leader, Ram Manohar Lohia.
- (iv) The State related to the former President of India, V.V. Giri.

For question no. 26



नोट : निम्नलिखित प्रश्न केवल दृष्टिबाधित परीक्षार्थियों के लिए प्रश्न संख्या 26 के स्थान पर हैं :

4×1=4

- (26.1) लाल बहादुर शास्त्री ने कौन-सा प्रसिद्ध नारा दिया था ?
- (26.2) भारतीय राजनीति के किस दशक को 'खतरनाक दशक' कहा जाता है ?
- (26.3) 1969 के राष्ट्रपति चुनाव में इन्दिरा गाँधी ने किस उम्मीदवार का समर्थन किया था ?
- (26.4) 'आया राम, गया राम' जुमले से सम्बन्धित राज्य कौन-सा है ?

खण्ड ड

27. (क) तेल और पानी वैश्विक राजनीति के लिए महत्वपूर्ण संसाधन क्यों माने जाते हैं ? उदाहरणों सहित स्पष्ट कीजिए । 6

अथवा

- (ख) वैश्विक सम्पदा पर अंतर्राष्ट्रीय सहयोग कायम करना कठिन क्यों है ? कोई तीन कारण स्पष्ट कीजिए । 6

28. (क) 1947 में स्वतंत्रता के समय भारत के समक्ष आईं किन्हीं तीन मुख्य चुनौतियों का वर्णन कीजिए । 6

अथवा

- (ख) 1947 में ब्रिटिश इन्डिया के विभाजन की प्रक्रिया में आईं किन्हीं तीन प्रमुख कठिनाइयों का वर्णन कीजिए । 6

29. (क) द्वितीय विश्व युद्ध के पश्चात् एशिया और अफ्रीका के नव स्वतंत्र देशों के सामने आईं किन्हीं तीन सुरक्षा चुनौतियों की व्याख्या कीजिए । 6

अथवा

- (ख) भारतीय सुरक्षा रणनीति के किन्हीं तीन घटकों की व्याख्या कीजिए । 6

Note : *The following questions are for the Visually Impaired Candidates only, in lieu of Q. No. 26 :*

4×1=4

- (26.1) Which popular slogan was given by Lal Bahadur Shastri ?
- (26.2) Which period of Indian politics has been referred to as the 'dangerous decade' ?
- (26.3) Which candidate was supported by Indira Gandhi for the post of President in 1969 ?
- (26.4) Which State is related to the phrase 'Aya Ram, Gaya Ram' ?

SECTION E

27. (a) Why are oil and water considered to be crucial resources to global politics ? Explain with examples. 6

OR

- (b) Why is it difficult to establish international cooperation over the global commons ? Explain any three reasons. 6

28. (a) Describe any three major challenges faced by India at the time of independence in 1947. 6

OR

- (b) Describe any three major difficulties that came in the way of the partition of British India in 1947. 6

29. (a) Explain any three security challenges faced by the newly independent countries of Asia and Africa after the Second World War. 6

OR

- (b) Explain any three components of the Indian security strategy. 6

30. (क) कोई तीन तर्क देकर भारत द्वारा अपनाई गई 'गुटनिरपेक्षता की नीति' को न्यायोचित ठहराए। 6

अथवा

- (ख) "स्वतंत्र भारत की विदेश नीति ने एक शांतिपूर्ण विश्व के सपने को साकार करने का प्रयास किया है।" तीन उपयुक्त तर्कों के साथ कथन की पुष्टि कीजिए। 6

30. (a) Justify the policy of Non-Alignment adopted by India, by giving any three arguments. 6

OR

- (b) "Foreign policy of independent India has pursued the dream of a peaceful world." Support the statement with three suitable arguments. 6