

# **CAREERS 360**

## **PREPARATION** **Series**

# **UK Board Class 10**

---

# **Social Science**

# **Sample Paper 2024-25**

प्रतिदर्श प्रश्नपत्र

2024-25

कक्षा -10

सामाजिक विज्ञान (Social Science) – (034)

समय : 3 घण्टे

पूर्णांक : 80

Time : 3 hours

MM : 80

निर्देश –

- 1-इस प्रश्न-पत्र में कुल 27 प्रश्न हैं । सभी प्रश्न अनिवार्य हैं ।
- 2-प्रश्नों हेतु निर्धारित अंक उनके सम्मुख अंकित है ।
- 3-प्रत्येक प्रश्न को ध्यानपूर्वक पढ़िये तथा समुचित उत्तर दीजिए ।
- 4-प्रश्न संख्या 1 बहुविकल्पीय प्रश्न हैं । इस प्रश्न के प्रत्येक खण्ड के उत्तर में चार विकल्प दिये गये हैं । सही विकल्प अपनी उत्तर -पुस्तिका में लिखियें ।
- 5-प्रश्न संख्या 2 से 9 तक निश्चित उत्तरीय प्रश्न है ।
- 6-प्रश्न संख्या 10 से 19 तक लघु उत्तरीय प्रश्न हैं, प्रत्येक का उत्तर लगभग 80 शब्दों में दीजिए ।
- 7-प्रश्न संख्या 20 से 26 तक दीर्घ उत्तरीय प्रश्न हैं, प्रत्येक का उत्तर लगभग 120 शब्दों में दीजिए ।
- 8-प्रश्न संख्या 27 मानचित्र से सम्बन्धित हैं । मानचित्र को अपनी उत्तर -पुस्तिका के भीतर संलग्न कीजिए ।
- 9-इस प्रश्न -पत्र में समग्र पर कोई विकल्प नहीं है, तथापि कतिपय प्रश्नों में आंतरिक विकल्प प्रदान किया गया है । ऐसे प्रश्नों में केवल एक विकल्प का ही उत्तर दीजिए ।

1-

(क) फ्रेडरिक सारयू था -

01

(i) राजा (ii) कलाकार (iii) सेनापति (iv) खिलाड़ी

(ख) सन 1992 में ब्राजील में आयोजित पृथ्वी-सम्मेलन का हिस्सा था - 01

(i) एजेण्डा-11

(ii) एजेण्डा-92

(iii) एजेण्डा-21

(iv) एजेण्डा-31

(ग) वस्तुओं पर अंकित ISI मार्क दर्शाता है -

01

- (i) वस्तुओं की गुणवत्ता (ii) वस्तुओं का मूल्य
- (iii) वस्तुओं की मात्रा (iv) वस्तुओं की निर्माण तिथि
- (घ) निम्न में कौन राष्ट्रीय दल है – 01
- (i) UKD (ii) अकाली दल
- (iii) समाजवादी पार्टी (iv) BJP
- (ङ) "जंगल बुक" पुस्तक के लेखक हैं – 01
- (i) कार्ल मार्क्स (ii) रूडयार्ड किपलिंग
- (iii) अरस्तु (iv) नेपोलियन
- (च) संघात्मक राज्यों का सही जोड़ा है— 01
- (i) भारत—श्रीलंका (ii) भारत—अमेरिका
- (iii) भारत—ब्रिटेन (iv) ब्रिटेन—श्रीलंका
- (छ) राजस्थान के अर्द्धशुष्क और शुष्क क्षेत्रों में जल संरक्षण करने के लिए बनाये गये भूमिगत टैंक कहलाते हैं— 01
- (i) टांका (ii) रांगा
- (iii) खादीन (iv) वर्तुल तालाब
- (ज) ग्राम स्तर पर आपदा प्रबंधन समिति का अध्यक्ष होता है – 01
- (i) ग्राम पंचायत अधिकारी (ii) वरिष्ठ वार्ड सदस्य
- (iii) ग्राम प्रधान (iv) जिलाधिकारी
- 2— सन् 1890 ई० में अफ्रीका में फैली पशुओं की बीमारी को किस नाम से जाना जाता है ? 01
- 3— सन् 1919 ई०में लागू किये गये किस अधिनियम को काला कानून के नाम से पुकारा गया? 01
- 4— कृषि क्षेत्र में वर्तमान परती भूमि से क्या आशय है? 01
- 5— किसी एक आधारभूत उद्योग का नाम लिखिए ? 01
- 6—HRD में "D" का क्या आशय क्या है? 01
- 7—समाज में महिलाओं और पुरुषों के बीच की असमानता को किस नाम से जाना जाता है? 01

- 8—“NCC” का पूरा पाम लिखिए ? 01
- 9— विश्व का सबसे बड़ा लोकतांत्रिक देश कौनसा है ? 01
- 10— औद्योगिक क्रांति ने किस प्रकार वैश्विक समाज पर अपना प्रभाव डाला स्पष्ट कीजिएगा । 03

अथवा

सन् 1929 ई0 की विश्वव्यापी आर्थिक महामंदी को समझाते हुए भारतीय अर्थव्यवस्था पर इसके प्रभावों को स्पष्ट कीजिएगा ।

11— यदि आपको आपदा के दौरान खोज व बचाव दल में शामिल किया जाता है तो आपकी प्राथमिकताएं क्या होनी चाहिए । 03

12—लोकतांत्रिक शासन व्यवस्था में वैध सरकार का गठन आवश्यक है। व्याख्या कीजिए । 03

13—“बहुदलीय प्रणाली लोकतंत्र की मजबूती भी है व कमजोरी भी”, स्पष्ट कीजिएगा । 03

14— रमेश किसी नियोक्ता से नियमित प्रक्रिया द्वारा स्थायी नियुक्ति प्राप्त कर व अनिल बिना नियमित प्रक्रिया के अस्थाई नियुक्ति प्राप्त कर अपने—अपने नियोक्ता के यहाँ कार्य करना प्रारम्भ करते है। उपर्युक्त दोनों व्यक्तियों की सेवाओं की परिस्थितियों में क्या अन्तर है ? स्पष्ट कीजिये । 03

15—सड़क निर्माण के क्षेत्र में केन्द्रीय लोक निर्माण (CPWD) विभाग व सार्वजनिक निर्माण विभाग (PWD) के अंतर को स्पष्ट कीजिये । 03

16—खाद्य सुरक्षा क्या है ? भारतीय कृषि पर वैश्वीकरण के प्रभावों को स्पष्ट कीजिये । 03

17—मुद्रण संस्कृति के प्रसार से आप क्या समझते हैं? इसका भारतीय महिलाओं पर क्या प्रभाव पड़ा? समझाइये । 03

18—सुरक्षित निर्माण क्या है? भू—स्खलन सम्भावित क्षेत्रों में मकानों की संरचना किस प्रकार की होनी चाहिए ।

अथवा

सुनामी आने से पूर्व व सुनामी के दौरान क्या—क्या सुरक्षा उपाय किये जाने चाहिए? स्पष्ट कीजिये । 03

19—बाजार में उपभोक्ता शोषण किस—किस प्रकार से होता है? स्पष्ट कीजिये ।

|

03

20—फ्रांसीसी क्रांतिकारियों द्वारा ऐसे क्या-क्या कदम उठाये गये जिससे फ्रांसीसी लोगों के बीच सामूहिक पहचान का भाव पैदा हो सके ? स्पष्ट कीजिये ।

04

21—गांधी जी द्वारा सविनय अवज्ञा आंदोलन आरम्भ करने के क्या कारण थे तथा इसके क्या परिणाम रहे? समझाइये ।

अथवा

टिप्पणी लिखिए—

04

(i) गांधी जी की डाण्डी यात्रा

(ii) गांधी—इरविन समझौता

22—परम्परागत व गैर परम्परागत ऊर्जा साधनों के वर्तमान परिप्रेक्ष्य में महत्व को समझाइये ।

04

अथवा

आरक्षित, रक्षित व अवर्गीकृत वनों के वर्गीकरण के आधार क्या हैं?

23—मोहित बैंक से ऋण लेता है व अजय एक साहूकार से ऋण लेता है । दोनों व्यक्तियों के ऋण के प्रकारों की तुलना कीजिए ।

04

24—वैश्वीकरण से आप क्या समझते हैं? भारतीय अर्थव्यवस्था पर वैश्वीकरण के सकारात्मक तथा नकारात्मक प्रभावों को सूचीबद्ध कीजिए ।

04

25— 73 वें संविधान संशोधन की स्थानीय स्तर पर लोकतंत्र को मजबूत करने में क्या भूमिका रही? विवेचना कीजिये ।

अथवा

04

संविधान में संघ सरकार व राज्य सरकार के बीच विधायी शक्तियों को किन-किन सूचियों में बाँटा गया है? इन सूचियों के सम्बन्ध में संक्षिप्त टिप्पणी लिखिए ।

26—भारतीय समाज में विद्यमान कौन से तत्व लोकतंत्र की मजबूती में बाधक है? समझाइये ।

04

अथवा

लोकतांत्रिक शासन पद्धति विविधता में एकता उत्पन्न करती है, स्पष्ट कीजिए?

(क) भारत के राजनीतिक मानचित्र पर उन दो राज्यों को दर्शाइये जहाँ निम्नलिखित घटनाएँ हुई -


1+1=02


(i) चम्पारन सत्याग्रह


(ii) चौरी-चौरा हत्याकाण्ड

(ख) दिये गये भारत के मानचित्र में निम्नलिखित बिन्दुओं को अंकित संकेतों की सहायता से दर्शाइये तथा उन स्थानों के नाम भी लिखिये-

(i) बांधवगढ़ राष्ट्रीय उद्यान ।  01

(ii) जिस स्थान पर चिपको आंदोलन प्रारम्भ हुआ ।  01

(iii) भारत की इलैक्ट्रॉनिक राजधानी ।  01

(iv) लौह इस्पात संयंत्र-भिलाई ।  01

नोट- निम्नलिखित प्रश्न केवल दृष्टिहीन परीक्षार्थियों के लिए प्रश्न संख्या 27 के स्थान पर है ।

1+1=02

(क) उन राज्यों के नाम लिखिए जहाँ निम्नलिखित घटनाएँ हुई -

(i) चम्पारन सत्याग्रह

(ii) चौरी-चौरा हत्याकाण्ड

(ख) उन राज्यों के नाम लिखिए जहाँ निम्नलिखित स्थित है -

(i) बांधवगढ़ राष्ट्रीय उद्यान । 01

(ii) वह स्थान जहाँ चिपको आंदोलन प्रारम्भ हुआ । 01

(iii) भारत की इलैक्ट्रॉनिक राजधानी । 01

(iv) लौह इस्पात संयंत्र-भिलाई । 01